

الاسم : ..... اللقب : ..... المدة : ساعة ونصف

امتحان شهادة التعليم المتوسط في مادة التربية الفنية التشكيلية دورة 2017

الوضعية البسيطة: (12ن)

- السند : صورة لشخصية + لوحة فنية .

س1) فنان تميز أسلوبه بالغرابة عرّف بالفنان . ( 5 ن ) .



- الاسم : .....
- الجنسية: .....
- المهنة : .....
- أسلوبه الفني : .....

• اختر العنوان الصحيح للوحة (العماق - الزرافة تحترق) : .....

س2) يمثل السند لوحة بعنوان نساء هايتي للفنان الفرنسي هنري ماتيس Henri Matisse ( 4 ن )



أ - سم أسلوب الفنان : .....

ب - لون اللوحة بألوان صارخة (حارة) فقط .

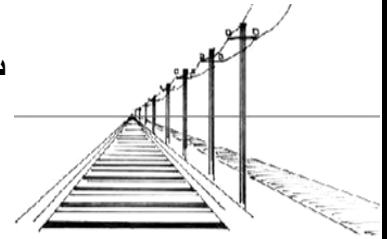
س3) - لاحظ النماذج ثم أجب بكلمة واحدة (3ن).

أ- هذا المشهد العلمي الفني يسمى : .....

ب - سم نوع الزخرفة : .....



(ب)



(أ)

ج - هذه تقنية : .....



(ج)

## - الوضعية الإدماجية : (8 ن )

النص :

(( الرسم ليس أن نرسم ما نراه ولكن أن نرسم ما نشعر به ونعبر عنه ونشارك فيه الآخرين ))


السند :

نموذج للوحة تجريدية .


المهمة المطلوب تنفيذها :

- \* إذا كانت الخطوط المنكسرة ترمز إلى الاضطراب والغضب - السند (1)
- 1 - عبر عن هذا الشعور وذلك بتلوين المساحات بالألوان المناسبة .
  - 2 - استغل الخطوط المنحنية للدلالة عن الهدوء في الفضاء (الفراغ) الآخر.
  - 3 - لون مساحات العمل الذي أنجزته بألوان تعبر عن الهدوء .

الخامات : المدور ، نصف دائرة ، أقلام التلوين .



فضاء الرسم



السند (1)