

على المترشح أن يختار أحد الموضوعين التاليين:

الموضوع الأول

نظام آلي لتخريم وقص الصفائح

يحتوي ملف الدراسة على جزئين:

- I. الملف التقني: الصفحات { 24/1، 24/2، 24/3، 24/4، 24/5 }
II. ملف الأجوبة: الصفحات { 24/6، 24/7، 24/8، 24/9، 24/10، 24/11 }

ملاحظة: * لا يسمح باستعمال أية وثيقة خارجية عن الاختبار.

* يسلم ملف الاجوبة بكامل صفحاته { 24/6، 24/7، 24/8، 24/9، 24/10، 24/11 }

I. الملف التقني

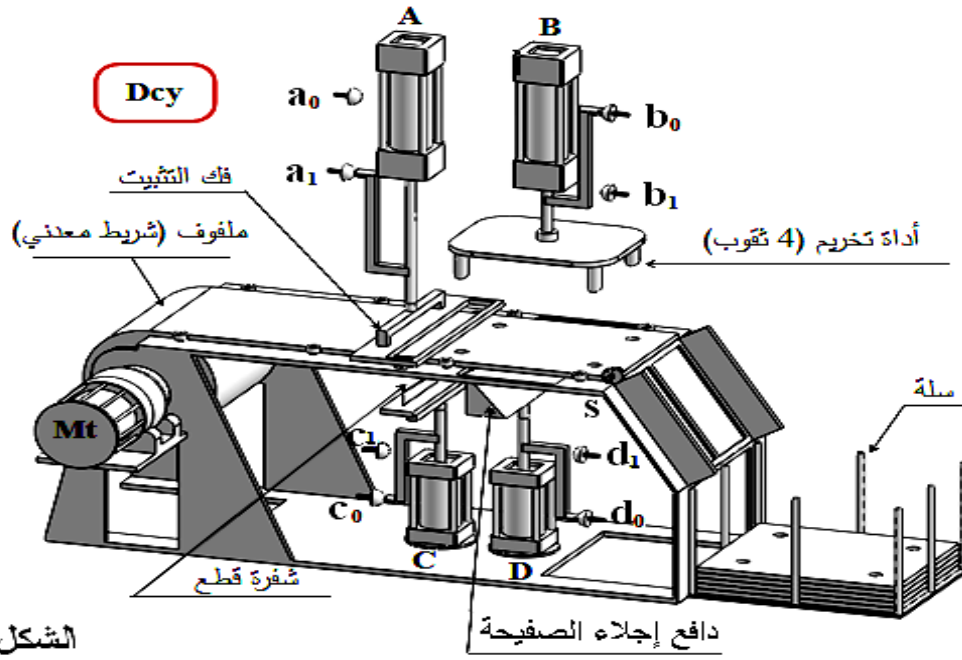
1- وصف وتشغيل:

يمثل الشكل (1) الموجود على الصفحة (24/2) نظام آلي يقوم بتخريم أربع ثقوب على شريط معدني ثم قصه حسب طول محدد.

تتم عملية التخريم والقص كما يلي :

- عند الضغط على زر انطلاق الدورة (Dcy)، يشتغل المحرك ($M_t=1$) لبسط وتقديم الشريط المعدني على الطاولة حتى وضعية التخريم التي يكشف عنها الملتقط s.
- التأثير على s يؤدي إلى توقف المحرك ($M_t=0$) وتثبيت الشريط بخروج ساق الدافعة A.
- التأثير على الملتقط a_1 يؤدي إلى إنجاز الثقوب بنزول ساق الدافعة B.
- عند الضغط على b_1 ، تبدأ عملية القص بصعود ساق الدافعة C.
- الضغط على c_1 يسمح بعودة ساق الدافعة C.
- التأثير على c_0 يؤدي إلى عودة ساق الدافعتين A و B لتحرير الصفيحة.
- التأثير على الملتقطين a_0 و b_0 يؤدي الى صعود ساق الدافعة D لإجلاء الصفيحة نحو السلة.
- عند الضغط على d_1 ، تعود ساق الدافعة D وتنتهي الدورة عند الضغط على d_0 .

نظام آلي لتخريم و قص الصفائح



الشكل (1)

2- المنتج محل الدراسة :

نقترح دراسة المحرك المخفض الذي يتحكم في بسط وتقديم الشريط المعدني (الممثل على الصفحة 24/3).

3- سير الجهاز :

تنتقل الحركة الدورانية من العمود المحرك (2) الى عمود الخروج (10) بواسطة المتسننات الأسطوانية ذات أسنان قائمة $\{(3)/(23)\}$ و $\{(14)/(20)\}$.

4- معطيات تقنية :

- استطاعة المحرك $P_m = 2 \text{ Kw}$ - سرعة دوران المحرك $N_m = 1500 \text{ tr/mn}$
- المتسنان $\{(3), (23)\}$: $d_{23} = 80 \text{ mm}$ $Z_3 = 20$ $h_a = 2 \text{ mm}$

5- العمل المطلوب :

1.5- دراسة الإنشاء : (13 نقطة)

أ- تحليل وظيفي وتكنولوجي : اجب مباشرة على الصفحتين (24/6) و (24/7).

ب- تحليل بنيوي :

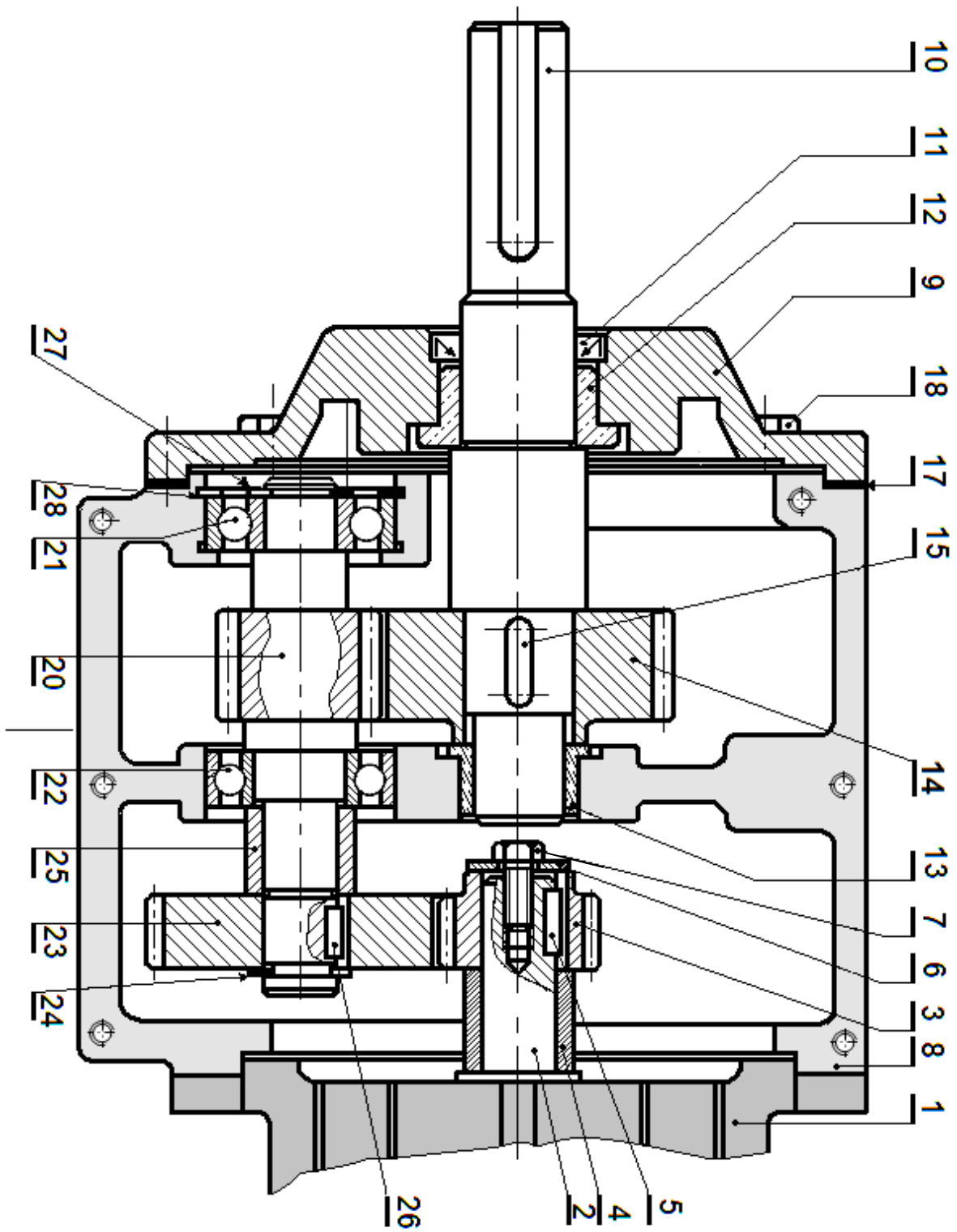
1- دراسة تصميمية جزئية: اتمم الدراسة التصميمية الجزئية مباشرة على الصفحة (24/8).

2- دراسة تعريفية جزئية: اتمم الدراسة التعريفية الجزئية مباشرة على الصفحة (24/8).

2.5- دراسة التحضير : (7 نقاط)

أ- تكنولوجيا لوسائل و طرق الصنع: اجب مباشرة على الصفحتين (24/9) و (24/10).

ب- آليات : اجب مباشرة على الصفحة (24/11).



المقياس 3:5



محرك - مخفض

28	1	حلقة مرنة للجوف		تجارة
27	1	حلقة مرنة للعمود		تجارة
26	1	خابور متوازي		تجارة
25	1	لجاف	S235	
24	1	حلقة مرنة للعمود		تجارة
23	1	عجلة مسننة	C40	
22	1	مدرجة ذات صف واحد من الكريات بتماس نصف قطري		تجارة
21	1	مدرجة ذات صف واحد من الكريات بتماس نصف قطري		تجارة
20	1	عمود مسنن	C40	
19	1	فاصل مسطح (غير ضاهر)		تجارة
18	6	برغى H		تجارة
17	1	فاصل مسطح		تجارة
16	1	سدادة تزييت (غير ضاهر)		تجارة
15	1	خابور متوازي		تجارة
14	1	عجلة مسننة	C40	
13	1	وسادة بكتف		
12	1	وسادة بكتف		
11	1	فاصل كتامة ذو شفة		تجارة
10	1	عمود	25CrMo4	
9	1	غطاء	EN-GJL200	
8	1	كارتر من جزئين (8B + 8A)	EN-GJL200	
7	1	برغى H		تجارة
6	1	حلقة استناد		تجارة
5	1	خابور متوازي		تجارة
4	1	لجاف	S235	
3	1	ترس	C40	
2	1	عمود محرك	25CrMo4	
1	1	محرك كهربائي		تجارة
رقم	عدد	تعيينات	مادة	ملاحظات
اللغة				Echelle 3:5
Ar				

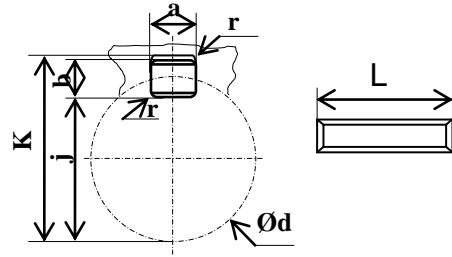
محرك - مخفض



ملف الموارد

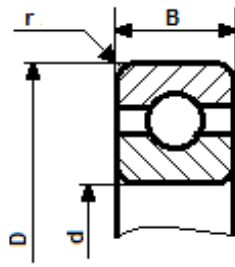
خابور متوازي شكل B

d	a	b	j	K	L
$17 < d \leq 22$	6	6	0.25	$d+2.8$	14à 70
$22 < d \leq 30$	8	7	0.25	$d+3.3$	18à90
$30 < d \leq 38$	10	8	0.4	$d+3.3$	22à110



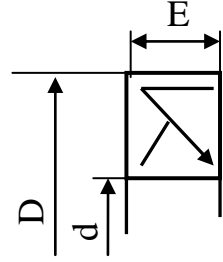
مدرجة ذات صف واحد من الكريات بتماس نصف قطري

d mm	D mm	B mm	r mm
25	47	12	0.6
	52	15	1
	62	17	1.1
30	55	13	1
	62	16	1
	72	19	1.1

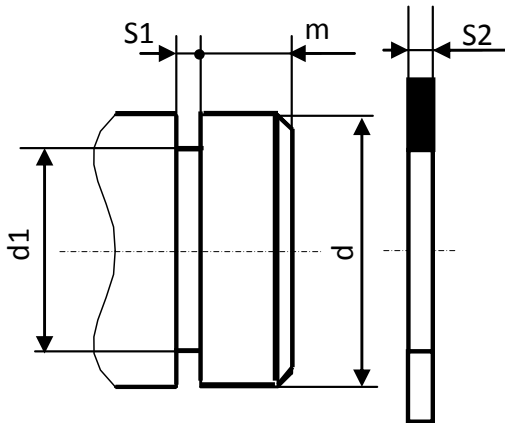


فاصل ذو شفتين

d	D	E
30	40	7
	42	
	47	
	52	
	62	



حلقة مرنة للأعمدة



d	d1	S1	S2	m
20	19	1.3	1.2	1.5
25	23.9	1.3	1.2	1.65
30	28.6	1.6	1.5	2.1

سماعات الاعمدة و الاجواف

نوعية	اقطار الاجواف		
	$10 < D \leq 18$	$18 < D \leq 30$	$30 < D \leq 50$
H6	+11 0	+13 0	+16 0
H7	+18 0	+21 0	+25 0
H8	+27 0	+33 0	+39 0

نوعية	اقطار الاعمدة		
	$10 < d \leq 18$	$18 < d \leq 30$	$30 < d \leq 50$
f6	-16 -27	-20 -33	-25 -41
f7	-16 -34	-20 -41	-25 -50
f8	-16 -43	-20 -53	-25 -64

المواد المقترحة لصنع الوسادة

المادة 4	المادة 3	المادة 2	المادة 1
EN-GJL200	CuSn9P	38Cr4	S235

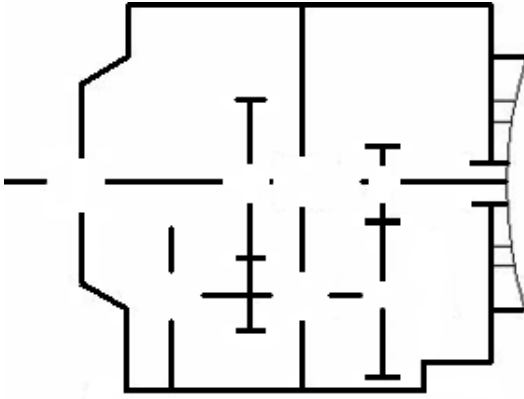
أدوات القطع



II- ملف الأجوبة

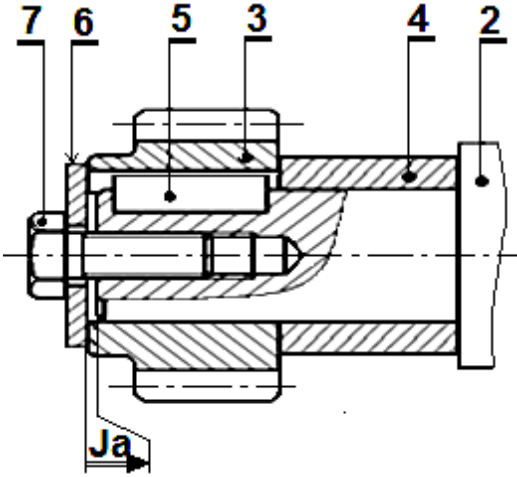
1.5- دراسة الإنشاء:

4- اتمم الرسم التخطيطي الحركي :



5- التحديد الوظيفي للأبعاد:

1.5- انجز سلسلة الأبعاد الخاصة بالشرط "Ja" :



2.5 - ما هي وظيفة هذا الشرط ؟

3.5 - علما أن التوافق الموجود بين القطع (12) و (10) هو

$\text{Ø } 30 \text{ H7f6}$

* احسب هذا التوافق، مستعينا بملف الموارد :

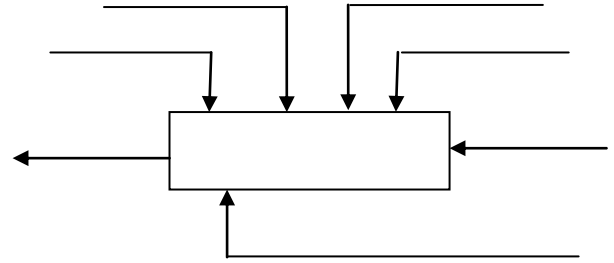
* ما نوع هذا التوافق :

* هل يلائم هذا التركيب؟

* برر إجابتك؟

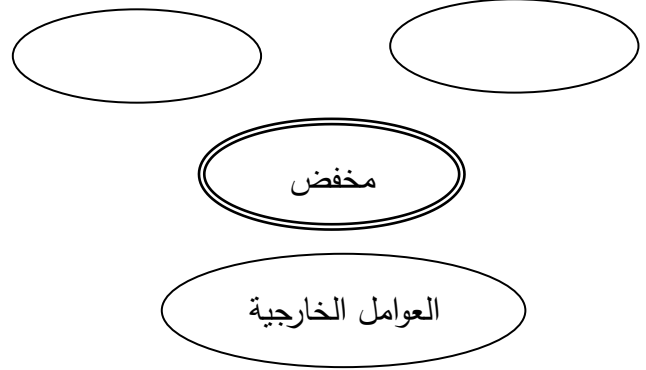
أ- تحليل وظيفي وتكنولوجي :

1- اكمل مخطط الوظيفة الإجمالية A-0 للنظام الآلي :



2- اكمل المخطط التجميعي للمخفض بوضع مختلف

وظائف الخدمة ثم صياغتها داخل الجدول :



الوظيفة	صياغة الوظيفة

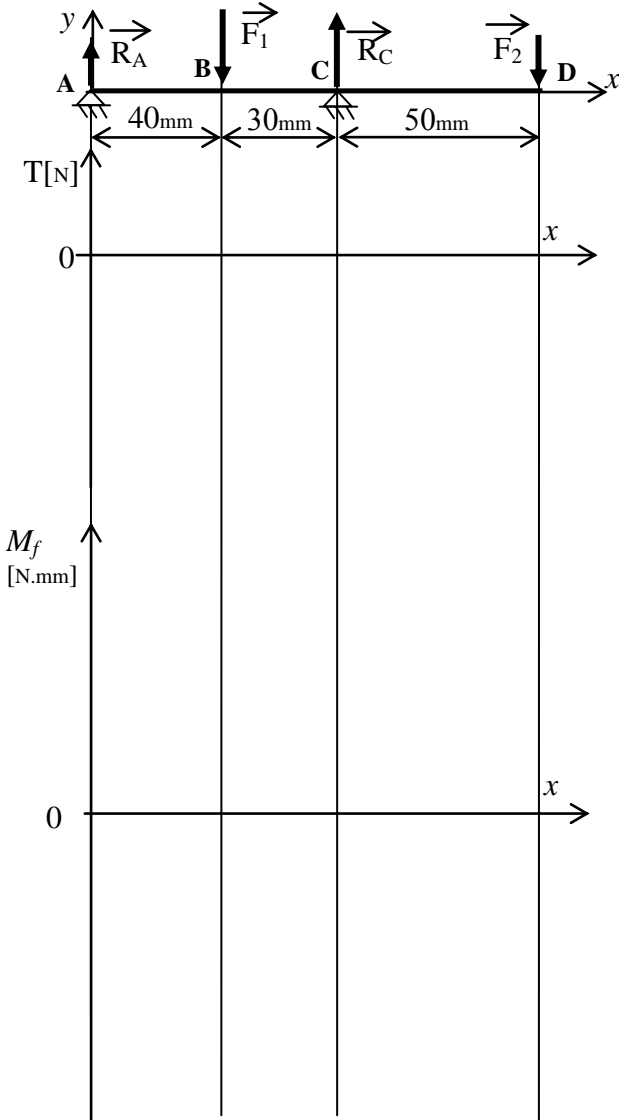
3- اتمم جدول الوصلات الحركية :

القطع	الوصلة	الرمز	الوسيلة
(3)/(2)			
(20)/(8)			
(23)/(20)			
(10)/(9-8)			

- حساب الجهود القاطعة:

- حساب عزوم الانحناء:

المخططات البيانية للجهود القاطعة وعزوم الانحناء:



6- تم التوجيه الدوراني بين العمود (10) والمجموعة {الغطاء (9) ، الجسم (8)} بواسطة وسادتين (12،13) 1-6 مستعينا بملف الموارد، حدد مادة صنع الوسادة (13)

2-6 اشرح تعيينها :

3-6 اذكر سلبيات التوجيه بوسادات :

4-6 ما هو الحل الذي تقترحه لتحسين التوجيه :

7- دراسة المتسفن (3) و (23) :

المعطيات: $h_a = 2\text{mm}$ ، $d_{23} = 80\text{mm}$ ، $Z_3 = 20$

احسب :

1-7 المديول m :

2-7 Z_{23} :

3-7 d_3 :

4-7 $r_{3/23}$:

5-7 النسبة الإجمالية للمخفض علما أن $r_{20-14} = 1/2$

6-7 استنتج سرعة الخروج N_{10} :

8- دراسة مقاومة المواد :

نفرض أن العمود (20) عبارة عن عارضة أفقية تحت تأثير الإنحناء المستوي البسيط وخاضع للجهود التالية:

$$R_A = 200 \text{ N} \quad F_1 = 800 \text{ N}$$

$$R_C = 800 \text{ N} \quad F_2 = 200 \text{ N}$$

سلم القوى: $1 \text{ mm} \longrightarrow 20 \text{ N}$

سلم العزوم: $1 \text{ mm} \longrightarrow 300 \text{ N.mm}$

- احسب الجهود القاطعة وعزوم الانحناء ثم ارسم

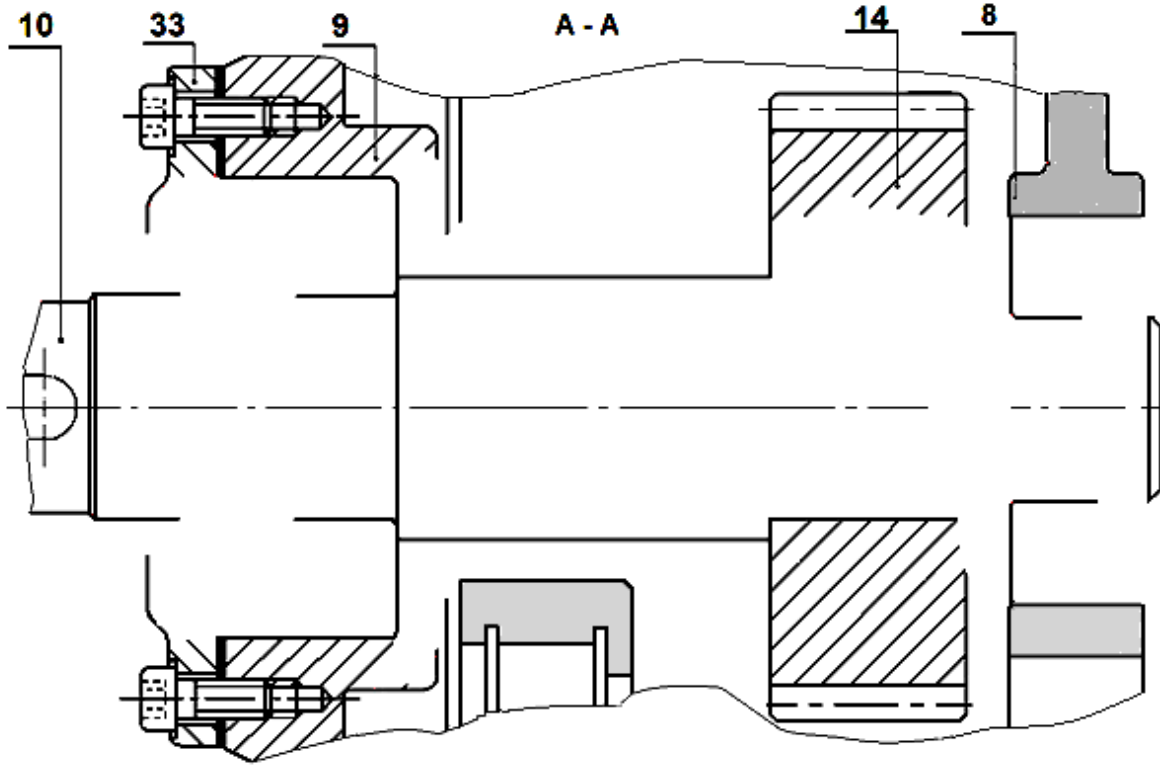
المخططات البيانية لها.

1- دراسة تصميمية جزئية: لتحسين مردود المخفض وجعله أحسن وظيفيا، نقوم بإدخال تعديلات عليه.

مستعينا بملف الموارد انجز ما يلي:

- تحقيق الوصلة المتمحورة بين العمود (10) والمجموعة {(الجسم(8)، الغطاء(9)} بتغيير الوسادتين (12) و(13) بمدرجتين ذات صف واحد من الكريات بتماس نصف قطري.
- تحقيق الوصلة الإندماجية قابلة لل فك بين العجلة (14) والعمود(10).
- ضمان الكتامة باستعمال فاصل ذو شفتين.

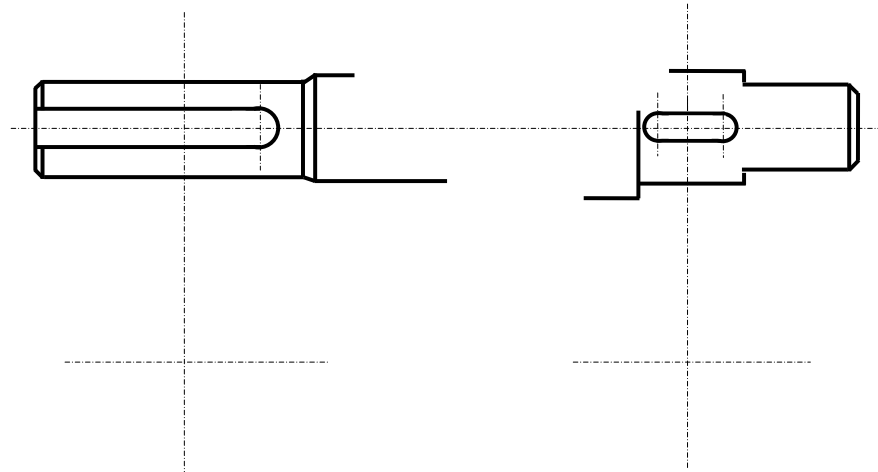
المقياس 1:1



2- دراسة تعريفية جزئية : مستعينا بالرسم التجميعي (الصفحة 24/3) ، اتمم الرسم التعريفي للعمود (10) ،

مع تحديد الأقطار الوظيفية والسماحات الهندسية وحالات السطوح.

المقياس 1:2

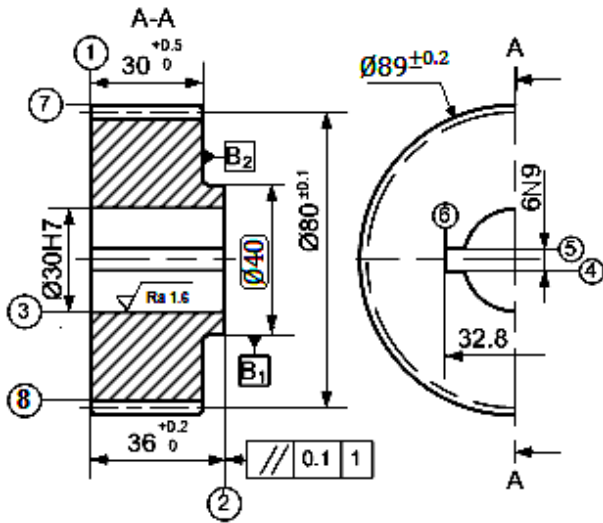


2.5- دراسة التحضير:

أ- تكنولوجيا لوسائل و طرق الصنع:

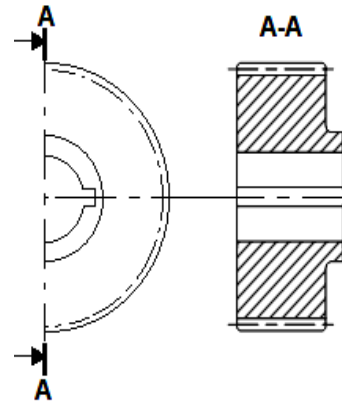
- نريد دراسة وسائل وطرق صنع العجلة المسننة (14) المصنوعة من المادة C40 (أنظر الرسم التعريفي المقابل).
- وتيرة التصنيع: 1000 قطعة شهريا لمدة 3 سنوات.
- السمك الإضافي للتشغيل 2mm .

1- انجز الشكل الأولي للخام؟



4-5	≡	0.1	3
7	⊙	0.2	3
3	⊥	0.1	1
8	⊙	0.2	3
3	⊙	0.2	B1

الخشونة العامة: Ra=3.2
المدبول: m=2



2- ما هي طريقة الحصول على هذا الخام ؟

3- يتم تصنيع هذه القطعة وفق مراحل حسب التجميعات التالية :

{(8)} ، {(7) - (2)} ، {(6) - (5) - (4)} ، {(3) - (1)}

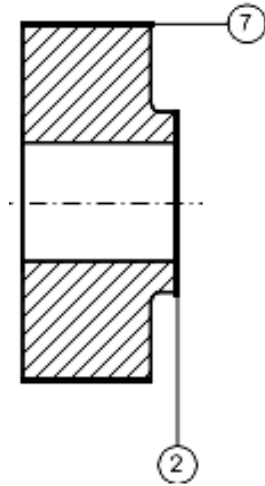
اتمم جدول السير المنطقي للصنع :

المرحلة	العمليات	منصب العمل
100	منصب المراقبة
200
300	{(7) ، (2)}
400
500	{(8)}	نحت المسننات
600	مراقبة نهائية

4- عقد المرحلة :

مستعينا بملف الموارد، انجز عقد المرحلة الخاص بتصنيع السطوح { (2)، (7) }، علما أن الورشة مجهزة بآلات للعمل بسلسلة صغيرة ومتوسطة.

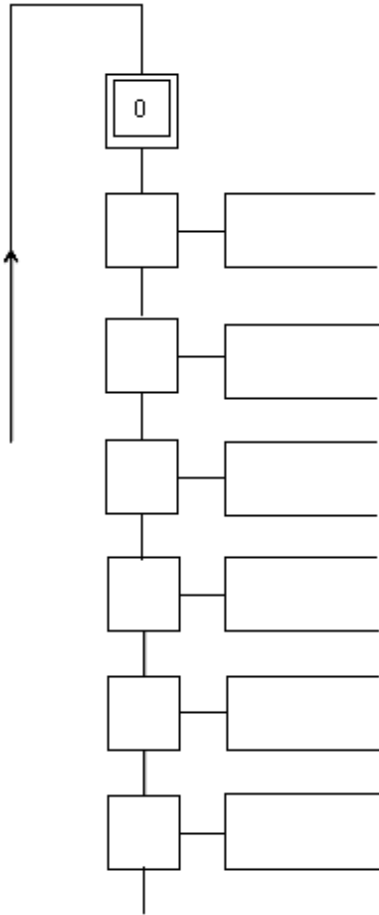
عقد المرحلة	المجموعة :	العنصر :
	المادة :	السلسلة :
رقم المرحلة :	المنصب :	الآلة :



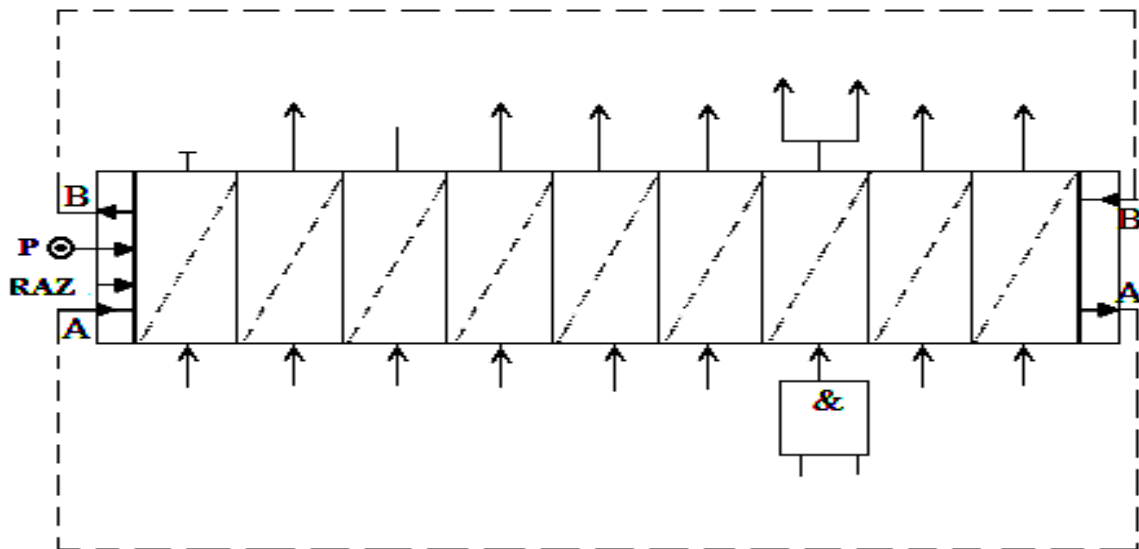
رقم	العمليات	عناصر القطع				أدوات	
		V_f (mm/mn)	f (mm/tr)	N (tr/mn)	V_c (m/mn)	القطع	المراقبة
			0 , 1		40		

ب- آليات :

- 1- اتمم المخطط الوظيفي للتحكم في المراحل والانتقالات (GRAFCET) المستوى 2 للنظام الآلي لتخريم وقص الصفائح؟



- 2- اتمم المعقب الهوائي لسير هذا النظام الآلي:



انتهى الموضوع الأول

الموضوع الثاني:

نظام آلي لتشحيم المدرجات

يحتوي ملف الدراسة على جزئين:

أ - الملف التقني: الصفحات $\{(24\backslash17), (24\backslash16), (24\backslash15), (24\backslash14), (24\backslash13), (24\backslash12)\}$

ب - ملف الأجوبة: الصفحات $\{(24\backslash24), (24\backslash23), (24\backslash22), (24\backslash21), (24\backslash20), (24\backslash19), (24\backslash18)\}$

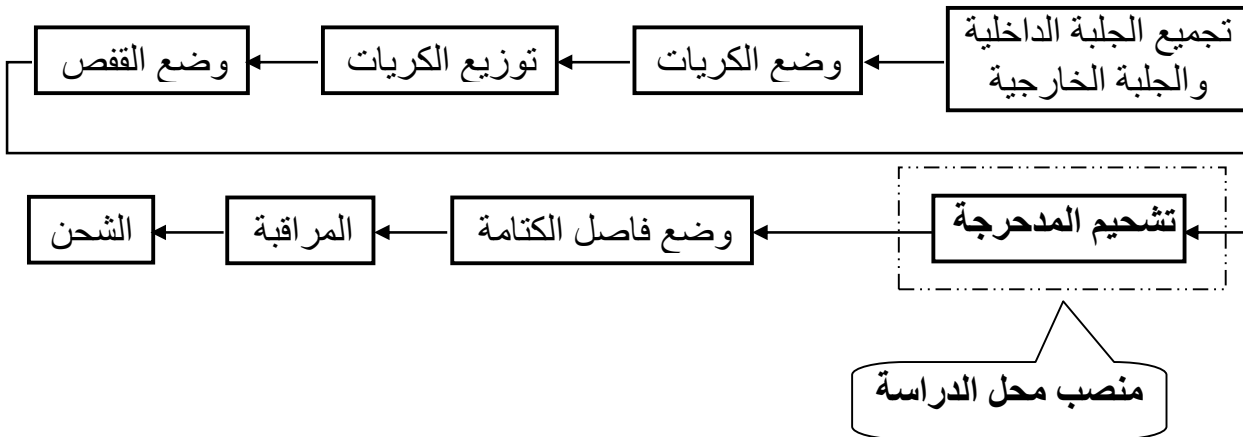
ملاحظة:

يسلم ملف الأجوبة بكامل صفحاته داخل الورقة المزدوجة للاختبار

أ - الملف التقني

1 - تحديد الموقع:

ينتمي النظام الآلي المراد دراسته لسلسلة تجميع عناصر المدرجة ذات صف واحد من الكريات بتماس نصف قطري بفاصل كتامة وفق التسلسل الآتي:

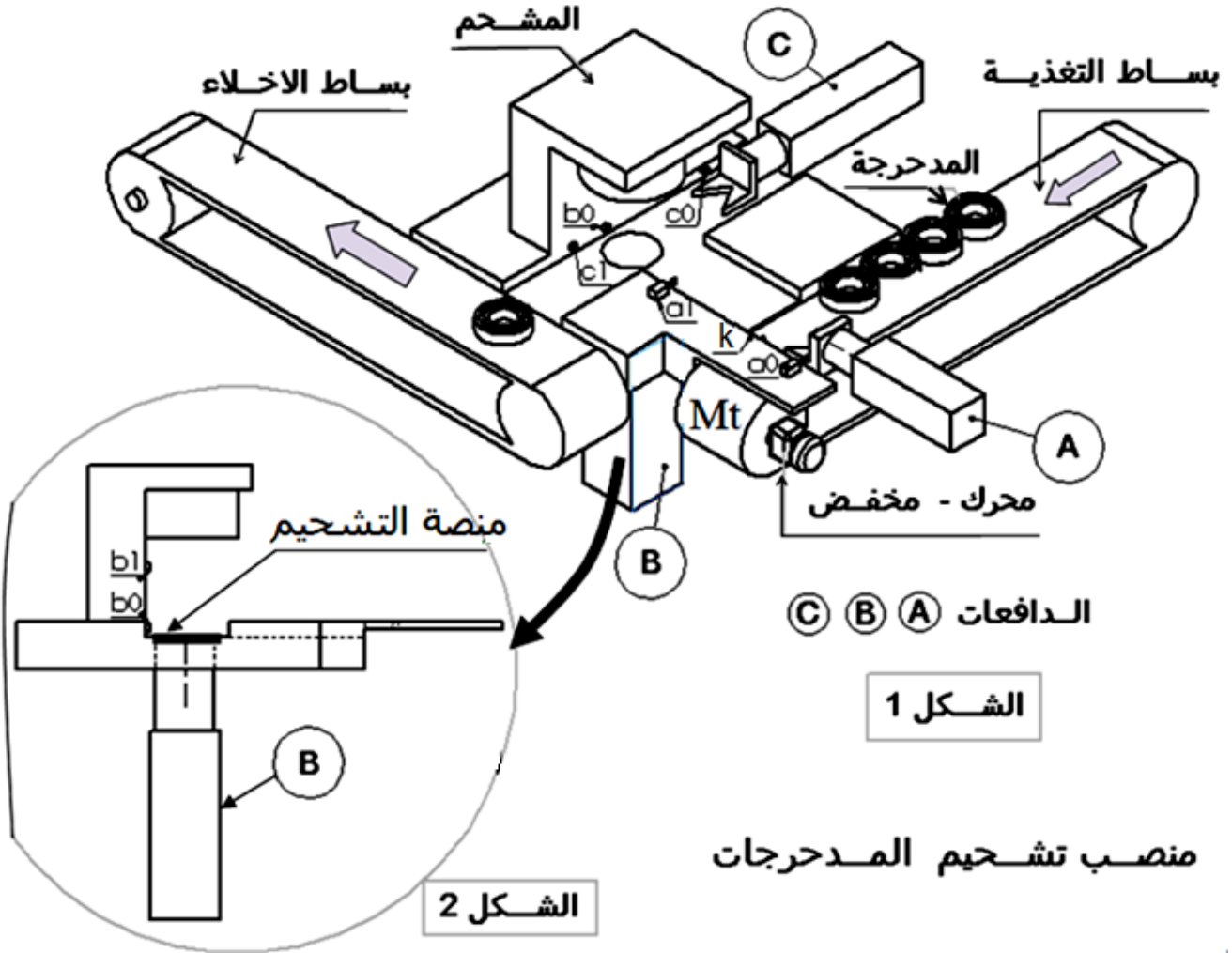


2 - تقديم النظام:

يسمح النظام الممثل في الشكلين (1) و(2) (الصفحة 13\24)، بتشحيم المدمرجة وفق المراحل الآتية:

- تغذية منصب التشحيم عن طريق بساط التغذية.
- دفع المدمرجة إلى منصة التشحيم بواسطة الدافعة (A).
- رفع المدمرجة إلى المشحم (للتشحيم) بواسطة الدافعة (B).
- إخلاء المدمرجة نحو بساط الإخلاء بواسطة الدافعة (C).

Dcy



3 - منتج محل الدراسة:

نقترح دراسة مخفض السرعة (الصفحة 24\15) لنقل الحركة من المحرك إلى بساط التغذية (12).

1-3 سير الجهاز:

تتقل الحركة الدورانية من العمود المحرك (1) إلى بساط التغذية (12) عن طريق المتسننات $\{(20)/(1)\}$ و $\{(8)/(18)\}$ والبطل (11).

2-3 معطيات تقنية:

- استطاعة المحرك $P=1,5 \text{ Kw}$ - سرعة دوران المحرك $N_m = 1500 \text{ tr/mn}$

- المتسننات $\{(20)/(1)\}$ و $\{(8)/(18)\}$ أسطوانية ذات أسنان قائمة.

- المتسنان $\{(20/1)\}$: $Z_{20}=66$ $m=1,5$

- المتسنان $\{(8/18)\}$: $Z_{18}=18$ $Z_8=48$ $m=2$

4- العمل المطلوب:

1.4 دراسة الإنشاء: (13,5 نقطة)

أ - تحليل وظيفي: اجب مباشرة على الصفحات (24\18)، (24\19)، (24\20).

ب - تحليل بنيوي:

1- دراسة تصميمية جزئية: اتمم الدراسة التصميمية الجزئية مباشرة على الصفحة (24\21).

2- دراسة تعريفية جزئية: اتمم الدراسة التعريفية الجزئية مباشرة على الصفحة (24\21).

2-4 دراسة التحضير: (6,5 نقطة)

أ - تكنولوجيا وسائل الصنع: اجب مباشرة على الصفحة (24\22).

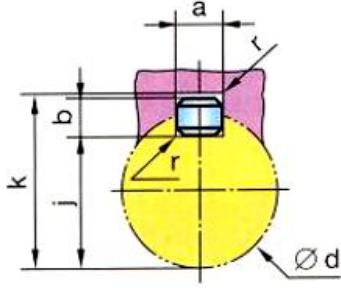
ب - تكنولوجيا طرق الصنع: اجب مباشرة على الصفحات (24\23)، (24\24).

ج - الآليات: اجب مباشرة على الصفحة (24\24).

23	1	مدحرجة ذات صف واحد من الكريات بتماس نصف قطري	تجارة
22	1	مدحرجة ذات صف واحد من الكريات بتماس نصف قطري	تجارة
21	1	حلقة مرنة للعمود	تجارة
20	1	عجلة مسننة	35NiCrMo16
19	1	خابور متوازي شكل A(6×6×18)	C 45
18	1	عمود مسنن	35NiCrMo16
17	1	غطاء	EN GJL 300
16	1	لجاف	S285
15	1	كارتر	EN GJL 300
14	2	حلقة مرنة للعمود	تجارة
13	2	وسادة بكتف	Cu Sn9P
12	1	بساط متحرك	تجارة
11	1	طبل	تجارة
10	1	مرزة	تجارة
9	1	عمود مستقبل	35NiCrMo16
8	1	عجلة مسننة	35NiCrMo16
7	1	وسادة بكتف	Cu Sn 9 P
6	2	سدادة تزييت	C45
5	1	غطاء	EN GJL 300
4	1	مدحرجة ذات صف واحد من الكريات بتماس نصف قطري	تجارة
3	1	غطاء	EN GJL 300
2	1	فاصل كتامة طراز AS 20x36x6	تجارة
1	1	عمود مسنن	35NiCrMo16
الرقم	العدد	التعيينات	المادة
اللغة	Echelle 2 : 3		
Ar	مخفض السرعة		

ملف الموارد

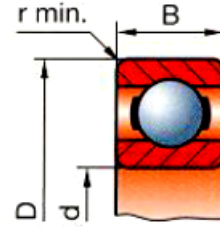
خابور متوازي شكل A



d	a	b	j	k
12 à 17	5	5	d-3	d+2.3
17 à 22	6	6	d-3.5	d+2.8
22 à 30	8	7	d-4	d+3.3
30 à 38	10	8	d-5	d+3.3
38 à 44	12	8	d-5	d+3.3
44 à 50	14	9	d-5.5	d+3.8

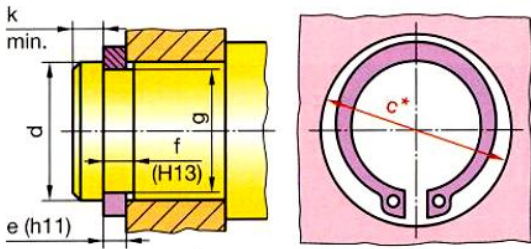
مدحرجات ذات صف واحد من الكريات

بتماس نصف قطري



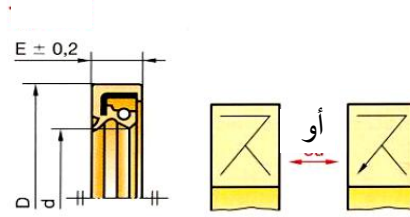
d	D	B	r
17	47	14	1
20	42	12	0.6
20	47	14	1
25	47	12	0.6
25	52	15	1
30	55	13	1
30	62	16	1

حلقة مرنة للأعمدة



d	e	c	f	g
17	1	25.6	1.1	16.2
20	1.2	29	1.3	19
25	1.2	34.8	1.3	23.9
30	1.5	41	1.6	28.6
35	1.5	47.2	1.6	33
40	1.75	53	1.85	37.5

فاصل كتامة طراز AS



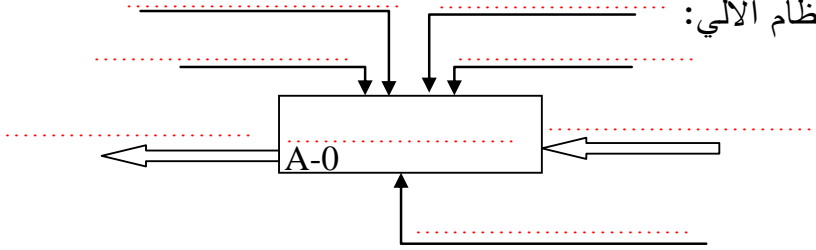
d	D	E
20	30 32 35	7
30	40 47 52	7

ملف الأجوبة:

1.4 دراسة الإنشاء:

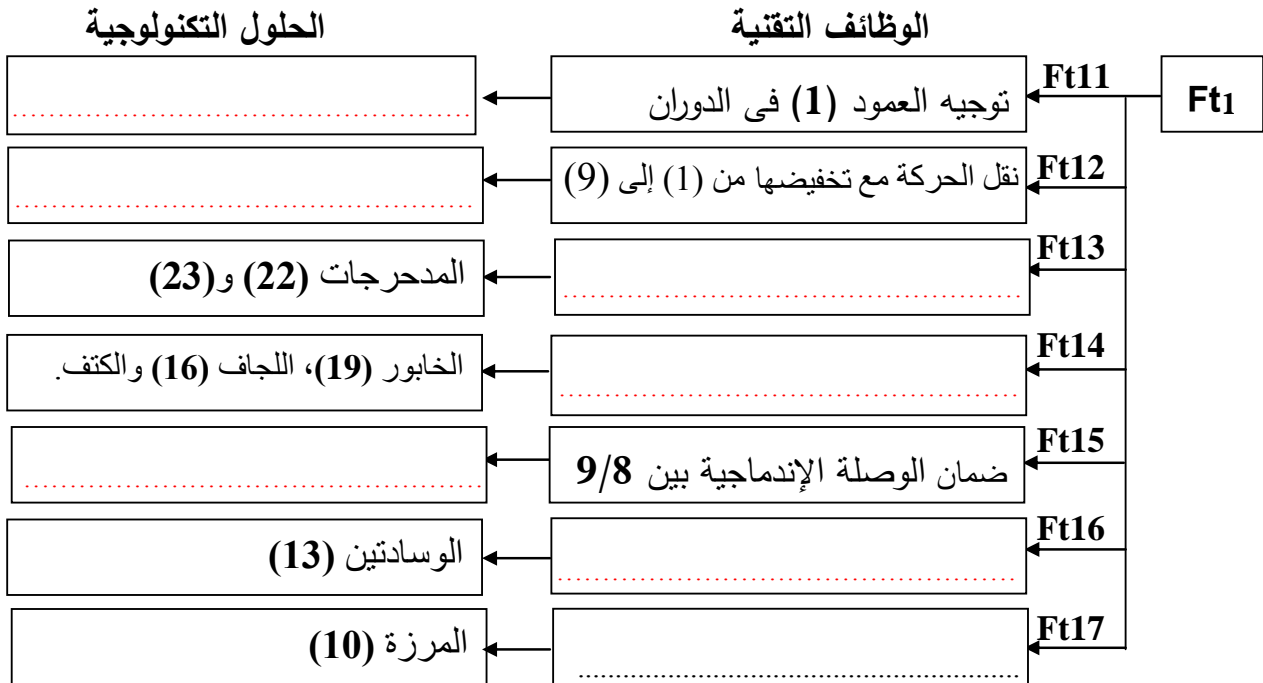
أ- التحليل الوظيفي:

1- اتمم المخطط الوظيفي (A-0) للنظام الآلي:

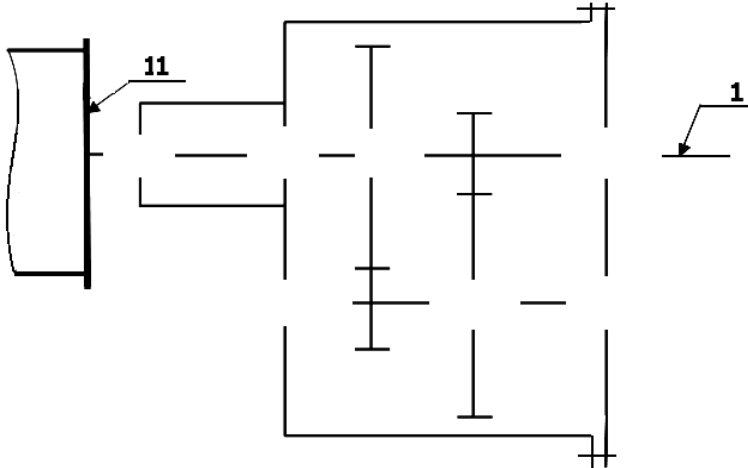


2- دراسة الوظيفة الأساسية Ft1 (نقل الحركة مع تخفيضها):

- اتمم المخطط الوظيفي FAST:



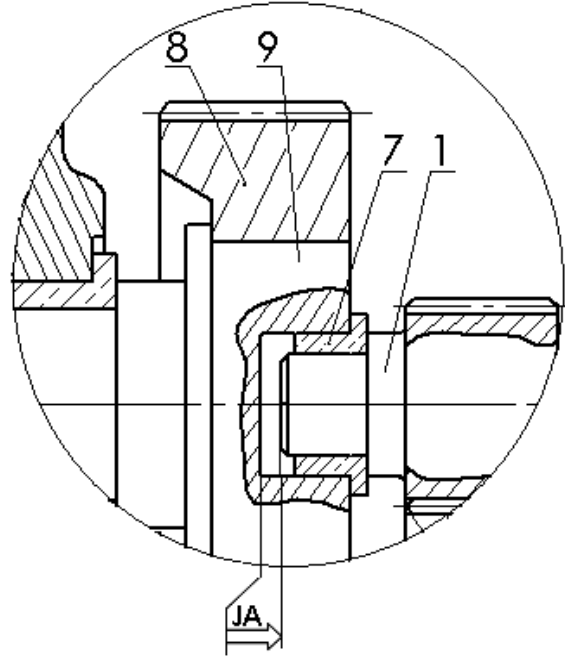
3- اتمم الرسم التخطيطي الحركي:



4- لضمان السير الحسن للجهاز، المصمم وضع الشرط الوظيفي JA :

1-4 ما هي وظيفة الشرط JA؟

2-4 انجز سلسلة أبعاد الشرط JA.



3-4 احسب البعد المجهول لتحقيق هذا الشرط.

$$JA = 3 \pm 0.2 \quad A_7 = 3 \begin{matrix} +0.1 \\ 0 \end{matrix} \quad A_9 = 15 \pm 0.1$$

5- دراسة المسننات:

تتم عملية تغذية منصب التشحيم بالمدرجات بسرعة $V = 1,57 \text{ m/s}$ بواسطة البساط المتحرك.

علما أن قطر الطبل $d_{11} = 160 \text{ mm}$:

1-5 احسب السرعة الزاوية (ω_{11}) للطبل:

2-5 احسب سرعة دوران الطبل (N_{11}) :

نأخذ $(\pi = 3,14)$

3-5 احسب نسبة النقل الإجمالية (r_g) :

4-5 احسب مميزات التسنن {20-1} وفقا

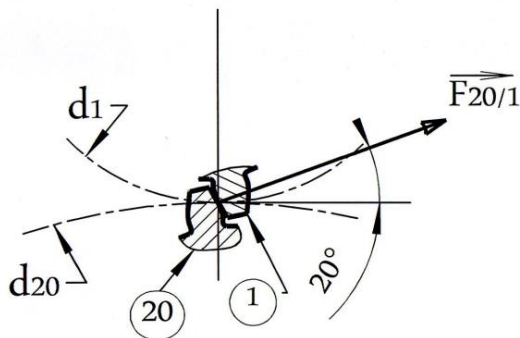
للجدول الآتي:

a	d	Z	m
			(1)
		66	1.5
			(20)

العلاقات:

6-دراسة الجهود المؤثرة على العمود المسنن (1):

1-6 مثل القوى المؤثرة على السن (1):



2-6 احسب المزدوجة المحركة (C_m):

3-6 احسب القوة المماسية (F_t) حيث
 $d_1 = 33mm$

4-6 احسب القوة النصف قطرية (F_r) علما أن
 زاوية الضغط $\alpha = 20^\circ$.

7- مقاومة المواد:

نفرض أن العمود المسنن (1) عبارة عن
 عارضة أفقية ذات مقطع دائري مملوء، خاضعة
 للجهود التالية:

$$\|\vec{F}_r\| = 210,75N \quad \|\vec{A}\| = 126,45N$$

$$\|\vec{B}\| = 84,3N$$

$$1mm \rightarrow 10N \quad \text{سلم القوى:}$$

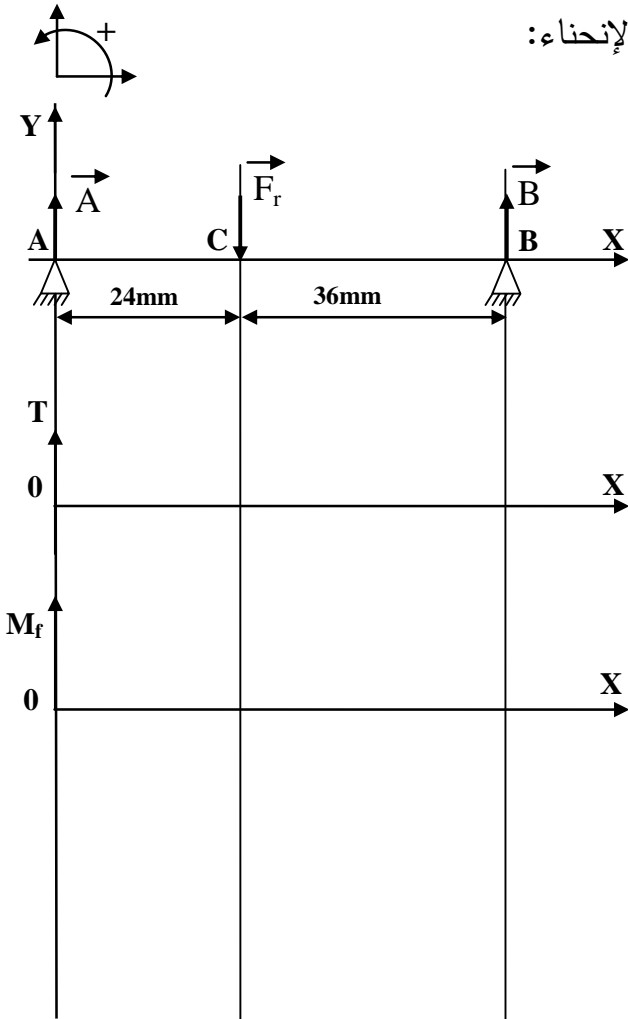
$$1mm \rightarrow 100Nmm \quad \text{سلم العزوم:}$$

1-7 احسب الجهود القاطعة (T):

2-7 احسب عزوم الإنحناء (M_f):

3-7 مثل منحنيات الجهود القاطعة وعزوم

الإنحناء:

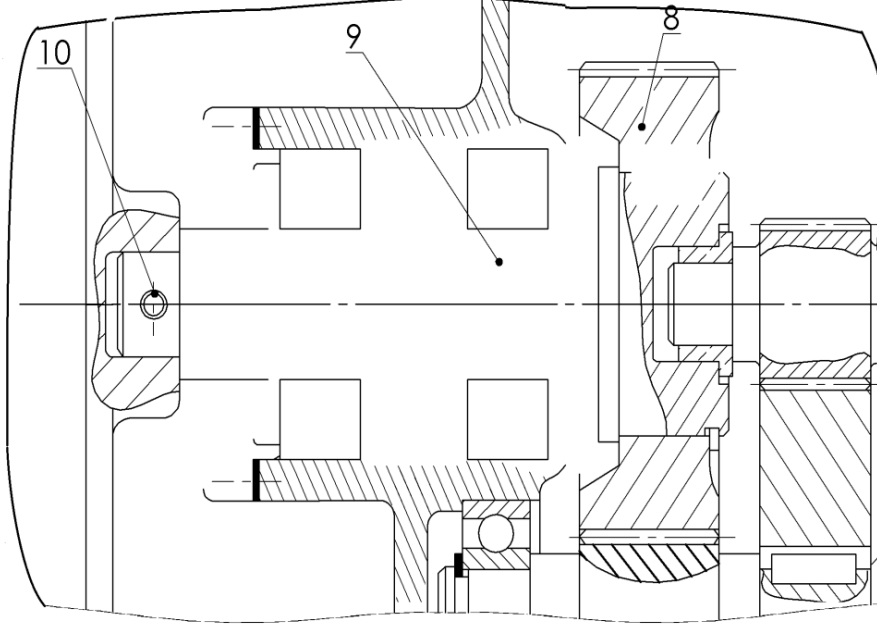


ب - تحليل بنيوي:

1 - دراسة تصميمية جزئية: لتحسين سير الجهاز والإشتغال في ظروف جيدة وأمنة، نقترح التعديلات التالية:

- توجيه العمود (9) في الدوران بواسطة مدحرجات ذات صف واحد من الكريات بتماس نصف قطري.
- تحقيق وصلة إندماجية قابلة للفك بين العمود (9) والعجلة المسننة (8).
- ضمان كتامة الجهاز بفواصل كتامة ذو شفتين (طراز AS).

السلم: 2 : 3



2 - دراسة تعريفية جزئية: اتمم الرسم التعريفي للعمود (9) بسلم 1 : 1 مستعينا بالرسم التجميعي

- (الصفحة 24/15) مع تسجيل : - الأقطار الوظيفية والسماحات الهندسية (بدون قيم).
- الخشونة للأسطح الوظيفية (بدون قيم)



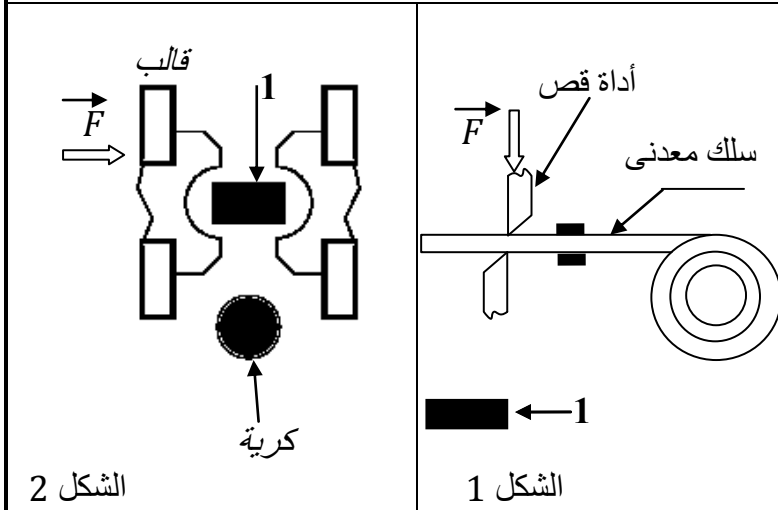
4-2 دراسة التحضير:

أ- تكنولوجيا وسائل الصنع:

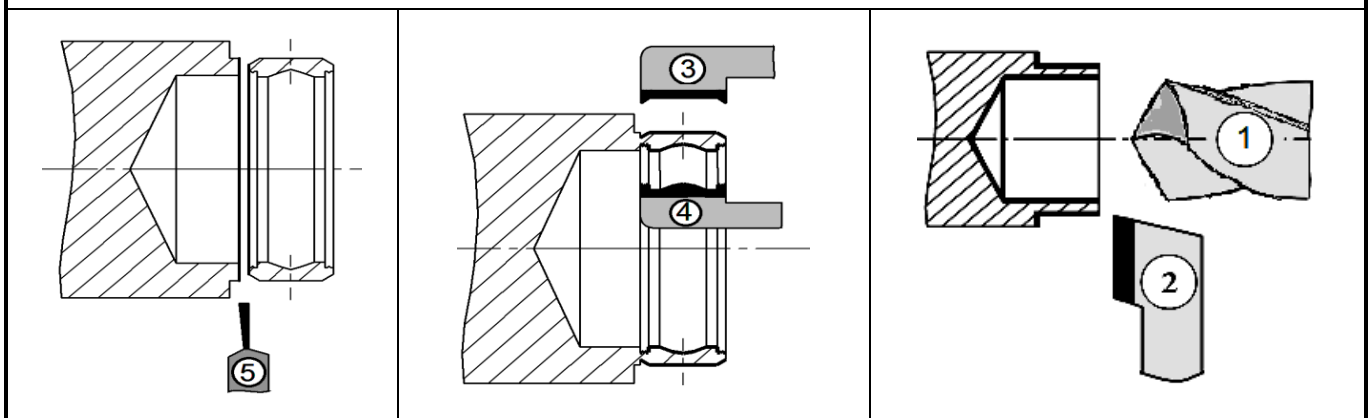
نريد دراسة أسلوب الحصول على القطع المكونة للمدحرجات :

1- يتم انجاز الكرة انطلاقا من الخام (سلك معدني).

مستعينا بالشكلين المقابلين (1) و (2) اشرح باختصار مبدأ الحصول على الكرة:



2- يتم انجاز الجلبة الخارجية عن طريق تشغيل قضيب اسطواني وفق المراحل المبينة أسفله:



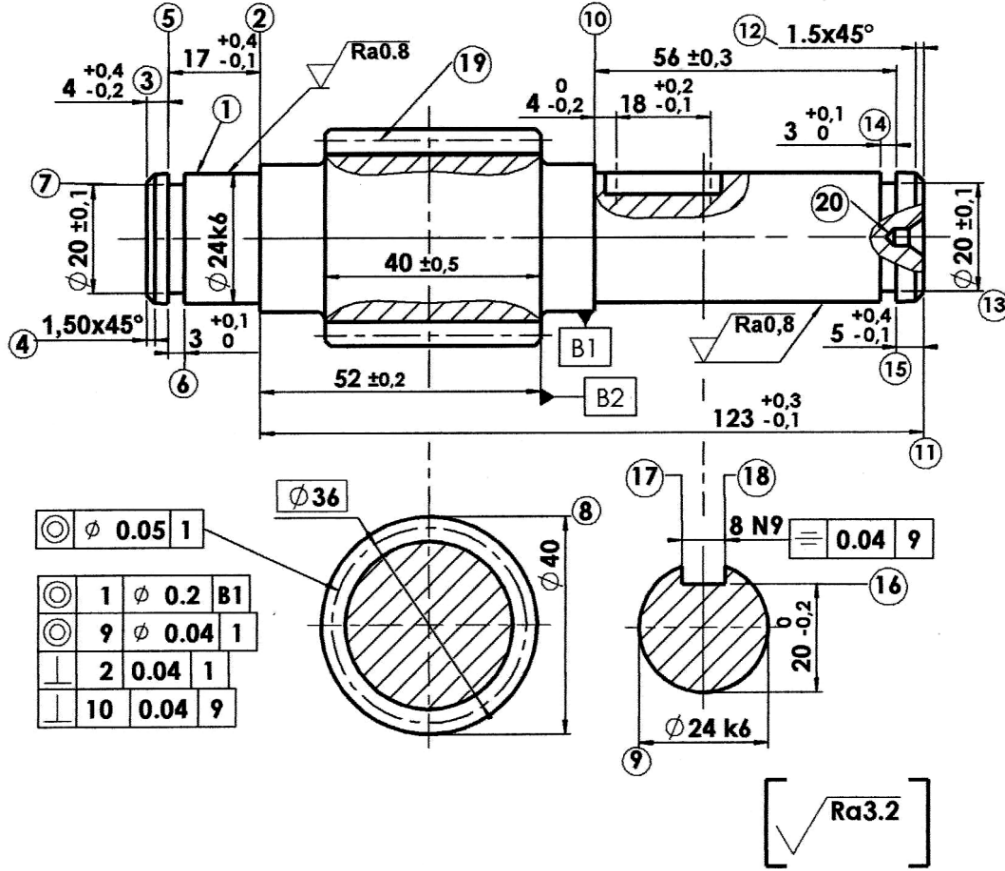
- اتمم الجدول الاتي:

الآلة	العملية	إسم الأداة	الرقم
.....	1
.....	2
آلة خراطة	تشكيل خارجي	أداة تشكيل	3
آلة خراطة	تشكيل داخلي	أداة تشكيل	4
.....	5

3- الجلبة مصنوعة من مادة 100cr6 اشرح هذا التعيين:

ب- تكنولوجيا طرق الصنع:

نقترح دراسة صنع العمود المسنن (18) المصنوع من المادة 35NiCrMo16 بسلسلة متوسطة.



ISO 1328	رتبة الدقة: 6
$\alpha=20^\circ$ زاوية الضغط:	عدد الأسنان: $Z=18$
$Ra=3.2$ خشونة جانب السن:	المديول: $m=2$

- خصائص التسنن:

المرحلة	العمليات	المنصب
100	منصب المراقبة
200	{(7) (6) (5) (4) (3) (2) (1)}
300	{(11) (المركزة 20)}
400	{(15) (14) (13) (12) (11) (10) (9) (8)}
500	{(الأسنان 19)}	نحت المسننات
600	{(18) (17) (16)}
700	منصب المراقبة

1- اكمل جدول التسلسل المنطقي لمراحل الصنع التالي:
(الصنع بسلسلة متوسطة)

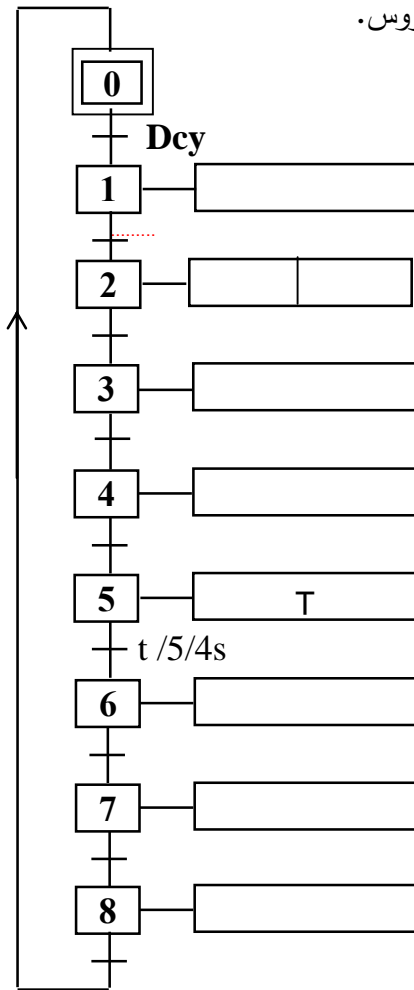
- عند الضغط على b_1 تبدأ عملية التشحيم التي تدوم 4 ثواني ثم تعود ساق الدافعة B .

- الضغط على الملتقط b_0 يؤدي إلى خروج ساق الدافعة C لإخلاء المدرجة المشحمة نحو بسات الإخلاء.

- الضغط على الملتقط c_1 يؤدي إلى رجوع ساق الدافعة C. تنتهي الدورة عند الضغط على الملتقط c_0 .

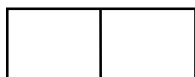
العمل المطلوب:

1- اتمم مخطط Grafcet مستوى 2 التالي الخاص بالنظام المدرس.



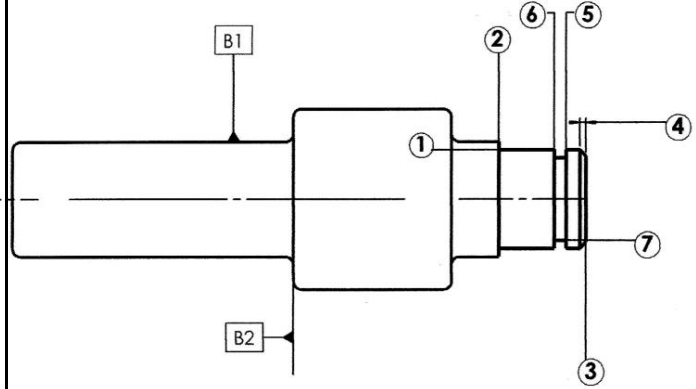
2. اتمم ربط الدافعة A بالموزع 5/2 ثنائي

الإستقرار وبتحكم هوائي. (A)



انتهى الموضوع الثاني

2- اتمم رسم الصنع الخاص بالمرحلة {200} موضحا الوضعية السكونية وأبعاد الصنع (بدون قيم بالنسبة للأبعاد المجهولة):



3- احسب السرعة الدورانية N لإنجاز التمريرة النهائية للسطح (1) علما أن: $f=0,1\text{mm/tr}$; $V_c=100\text{m/mn}$

4- احسب سرعة التغذية V_f

5- ما هي الأداة الملائمة لمراقبة قطر الأسطوانة (1)?

ج- الآليات:

النظام الآلي الممثل في الصفحة (24/13) يشغل

وفق دفتر الشروط الوظيفي التالي:

- انطلاق الدورة بالضغط على الزر Dcy حيث يدور

المحرك ($Mt=1$) لإيصال المدرجة أمام الدافعة A .

- الضغط على ملتقط الكشف k يؤدي إلى توقف المحرك

($Mt=0$) وخروج ساق الدافعة A لدفع المدرجة نحو

منصة التشحيم.

- عند الضغط على الملتقط a_1 تعود ساق الدافعة A.

- الضغط على الملتقط a_0 يؤدي إلى صعود المدرجة

إلى المشحم بخروج ساق الدافعة B .

الإجابة النموذجية لموضوع امتحان البكالوريا دورة: 2016
اختبار مادة: التكنولوجيا الشعبة: تقني رياضي (هندسة ميكانيكية) المدة: 4 ساعات و 30 د

العلامة		عناصر الإجابة
المجموع	مجزأة	الموضوع الأول : نظام آلي لتخريم و قص الصفائح
13		1.5- دراسة الإنشاء
8		أ- التحليل الوظيفي والتكنولوجي
	0,8	1. مخطط الوظيفة الإجمالية A-0
	5× 0,1	2. مخطط تجميعي
	3× 0,1	جدول الوظائف
	4×0,3	3. جدول الوصلات الحركية
	7×0,1	4. الرسم التخطيطي الحركي
	0,2	1.5. سلسلة الأبعاد
	0,2	2.5. وظيفة الشرط
	2× 0,1	3.5. حساب التوافق
	0,1	نوع التوافق
	0,1	ملائمة التركيب
	0,1	التبرير
	0,1	6. اسم المادة
	4×0,1	شرح التعيين
	0,1	سلبيات
	0,1	الحل
		7. دراسة المتسننات
	0,1	حساب المديول m
	0,2	Z_{23}
	0,2	d_3
	0,2	$r_{3/23}$
	0,2	النسبة الإجمالية
	0,2	سرعة الخروج
		8. دراسة مقاومة المواد
	3×0,2	حساب الجهود القاطعة
	3×0,2	حساب عزوم الانحناء

الإجابة النموذجية لموضوع امتحان البكالوريا دورة: 2016

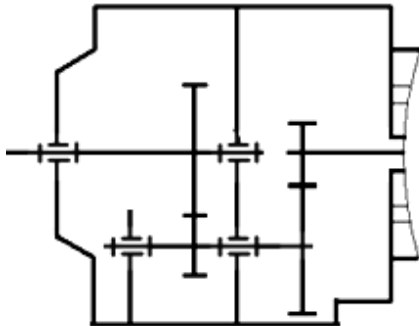
اختبار مادة: التكنولوجيا الشعبة: تقني رياضي (هندسة ميكانيكية) المدة: 4 ساعات و 30 د

العلامة		عناصر الإجابة
المجموع	مجزأة	الموضوع الأول : نظام آلي لتخريم و قص الصفائح
	0,3	مخطط الجهود القاطعة
	0,3	مخطط عزوم الانحناء
3		1- الدراسة التصميمية الجزئية
	0,3	تمثيلا للمدحرجات
	$5 \times 0,3$	الوصلة المتمحورة (5 حواجز $\times 0,3$)
	$2 \times 0,4$	الوصلة الاندماجية (2 حواجز $\times 0,4$)
	0,4	الكتامة
2		2- الدراسة التعريفية الجزئية
	0,4	المسقط الامامي
	$2 \times 0,4$	المقاطع
	0,3	الأقطار الوظيفية ($0,1 \times 3$)
	0,3	السماحات الهندسية ($0,05 \times 6$)
	0,2	الخشونة ($0,05 \times 4$)
7		2.5- دراسة التحضير
4		أ- تكنولوجيا لوسائل و طرق الصنع
	0,4	1. الشكل الأولي للخام (4 سطوح $\times 0,1$)
	0,2	2. طريقة الحصول على هذا الخام
	$7 \times 0,1$	3. السير المنطقي للصنع
		4. عقد المرحلة
	0,2	معلومات الصنع
	0,8	الوضعية السكونية
	0,4	ادوات القطع
	0,6	أبعاد الصنع ($0,15 \times 2$) + السماحات الهندسية ($0,1 \times 2$) + الخشونة (0,1)
	0,7	جدول : تعيين العمليات ($0,05 \times 6$) + عناصر القطع وأدوات القطع والمراقبة ($0,05 \times 8$)
3		ب- الآليات
	2	1. المخطط الوظيفي للتحكم في المراحل و الإنتقالات ($0,1 \times 20$)
	1	2. المعقب الهوائي ($0,05 \times 20$)

II- ملف الأجوبة للموضوع الأول : نظام آلي لتخريم وقص الصفائح

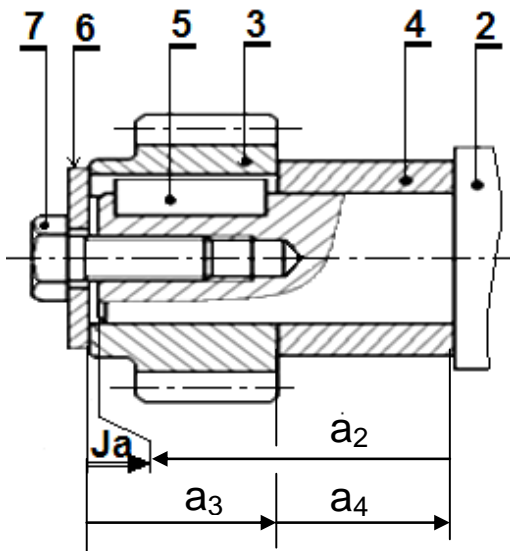
1.5- دراسة الإنشاء:

4- أتمم الرسم التخطيطي الحركي :



5- التحديد الوظيفي للأبعاد:

1.5- أنجز سلسلة الأبعاد الخاصة بالشرط "J_a" :



2.5 - ما هي وظيفة هذا الشرط؟

ضمان التثبيت المحوري للترس (3) (إكمال الوصلة الاندماجية)

3.5 - حساب التوافقات : علما ان التوافق الموجود بين

Ø 30 H7f6 القطع (12) و (10) هو

* أحسب هذا التوافق، مستعينا بملف الموارد :

$$J_{\max} = D_{\max} - d_{\min} = 30,021 - 29,967 = +0,054 \text{ mm}$$

$$J_{\min} = D_{\min} - d_{\max} = 30 - 29,980 = +0,020 \text{ mm}$$

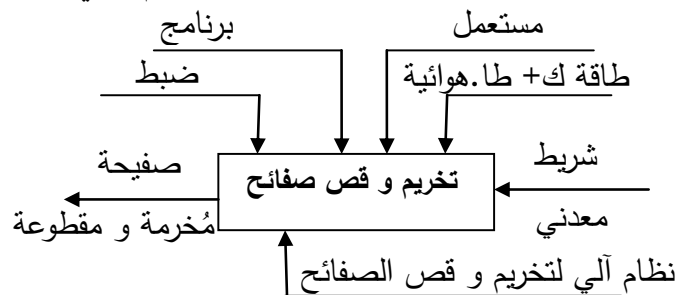
* ما نوع هذا التوافق: بخلوص

* هل يلائم هذا التركيب؟ يلائم

*** برر إجابتك: يحقق تركيب الوسادة على العمود بالخصوص**

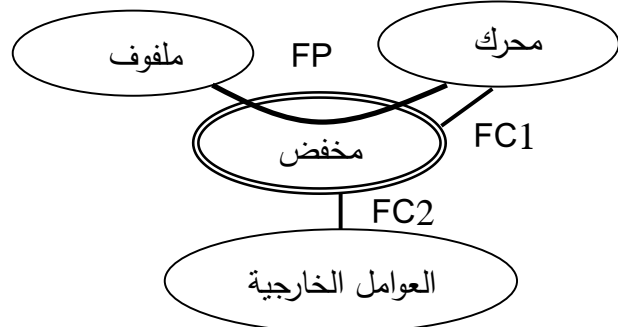
أ- تحليل وظيفي و تكنولوجيا :

1- أكمل مخطط الوظيفة الإجمالية A-0 للنظام الآلي :



2- أكمل المخطط التجميعي للمخفض بوضع مختلف

وظائف الخدمة ثم صياغتها داخل الجدول :



الوظيفة	صياغة الوظيفة
FP	نقل وتكييف الحركة (تخفيض ...)
FC1	ضمان تركيب المحرك
FC2	مقاومة العوامل الخارجية

3- أتمم جدول الوصلات الحركية :

القطع	الوصلة	الرمز	الوسيلة
(2)/(3)	إندماجية		خابور + لجاف + برغي بحلقة
(8)/(20)	متمحورة		مدرجتين + حواجز
(20)/(23)	إندماجية		حلقة مرنة + لجاف + خابور
(8-9)/(10)	متمحورة		وسادتين + حواجز

- حساب الجهود القاطعة :

$$0 \leq x \leq 40 \text{ mm} : T = R_A = +200 \text{ N}$$

$$40 \leq x \leq 70 \text{ mm} : T = R_A - F_1 = -600 \text{ N}$$

$$70 \leq x \leq 120 \text{ mm} : T = R_A - F_1 + R_C = +200 \text{ N}$$

- حساب عزوم الانحناء :

$$0 \leq x \leq 40 \text{ mm} : M_f = -R_A x$$

$$x = 0 : M_f = 0, \quad x = 40 : M_f = -8000 \text{ N.mm}$$

$$40 \text{ mm} \leq x \leq 70 \text{ mm} : M_f = -R_A x + F_1(x - 40)$$

$$x = 40 : M_f = -8000 \text{ N.mm}$$

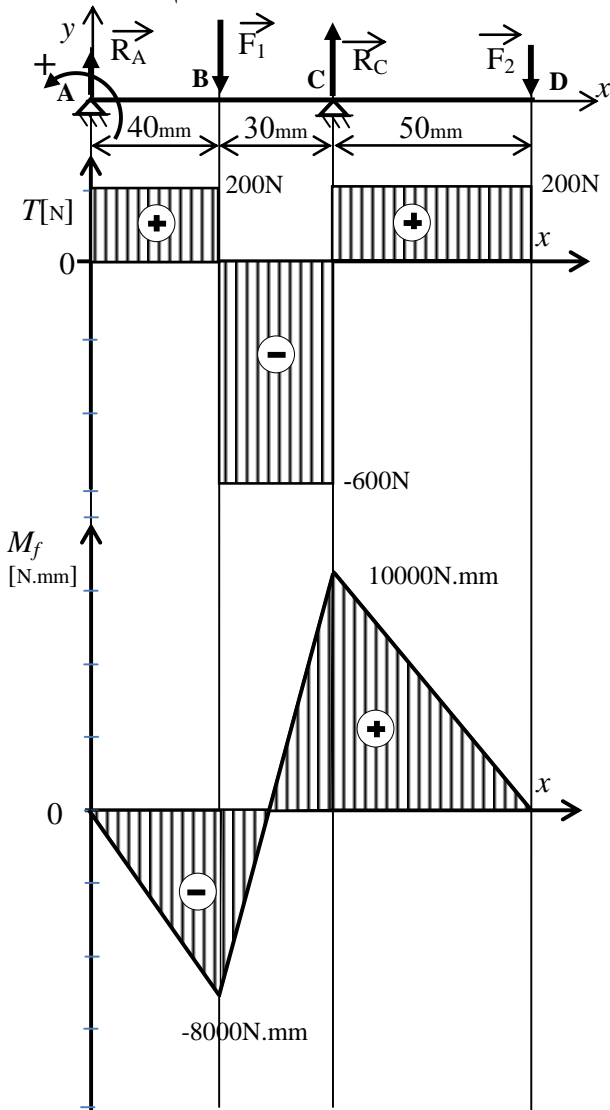
$$x = 70 : M_f = +10000 \text{ N.mm}$$

$$70 \text{ mm} \leq x \leq 120 \text{ mm} :$$

$$M_f = -R_A x + F_1(x - 40) - R_C(x - 70),$$

$$x = 70 : M_f = +10000 \text{ N.mm}, \quad x = 120 : M_f = 0$$

المخططات البيانية للجهود القاطعة و عزوم الانحناء:



6- تم التوجيه الدوراني بين العمود (10) والمجموعة

{الغطاء (9) ، الجسم (8)} بواسطة وسادتين (12 و 13)

* مستعينا بملف الموارد، حدد مادة صنع الوسادة (13)

CuSn9P

* إشرح تعيينها : سبيكة النحاس (برونز)

Cu:العنصر القاعدي نحاس، P: أثار من فوسفور

Sn9: 9% قصدير

* أذكر سلبيات التوجيه بوسادات : احتكاك انزلاقي

يؤدي الى تآكل سريع وضياح في الإستطاعة.

* ما هو الحل الذي تقترحه لتحسين التوجيه :

إستعمال مدرجات

7- دراسة المتسنيات (3) و (23) :

المعطيات: $h_a = 2 \text{ mm}$ ، $d_{23} = 80 \text{ mm}$ ، $Z_3 = 20$

أحسب :

* المديول m : $m = h_a = 2 \text{ mm}$

* Z_{23} : $Z_{23} = d_{23}/m = 80/2 = 40 \text{ dents}$

* d_3 : $d_3 = m Z_3 = 2 \times 20 = 40 \text{ mm}$

* r_{3-23} : $r_{3-23} = d_3/d_{23} = 40/80 = 1/2$

* النسبة الإجمالية للمخفض علما ان: $r_{20-14} = 1/2$

$$r = r_{3-23} \times r_{20-14} = (1/2) \times (1/2), \quad r = 1/4$$

* استنتج سرعة الخروج N_{10} : $r = \frac{N_{10}}{N_3} = \frac{N_{10}}{N_m}$

$$N_{10} = r \times N_m = (1/4) \times (1500)$$

$$N_{10} = 375 \text{ tr/mn}$$

8- دراسة مقاومة المواد :

نفرض أن العمود (20) عبارة عن عارضة أفقية تحت تأثير

الإنحناء المستوي البسيط و خاضع للجهود التالية:

$$R_A = 200 \text{ N} \quad F_1 = 800 \text{ N}$$

$$R_C = 800 \text{ N} \quad F_2 = 200 \text{ N}$$

$$1 \text{ mm} \longrightarrow 20 \text{ N}$$

سلم القوى:

$$1 \text{ mm} \longrightarrow 300 \text{ N.mm}$$

سلم العزوم:

أحسب الجهود القاطعة و عزوم الانحناء ثم ارسم

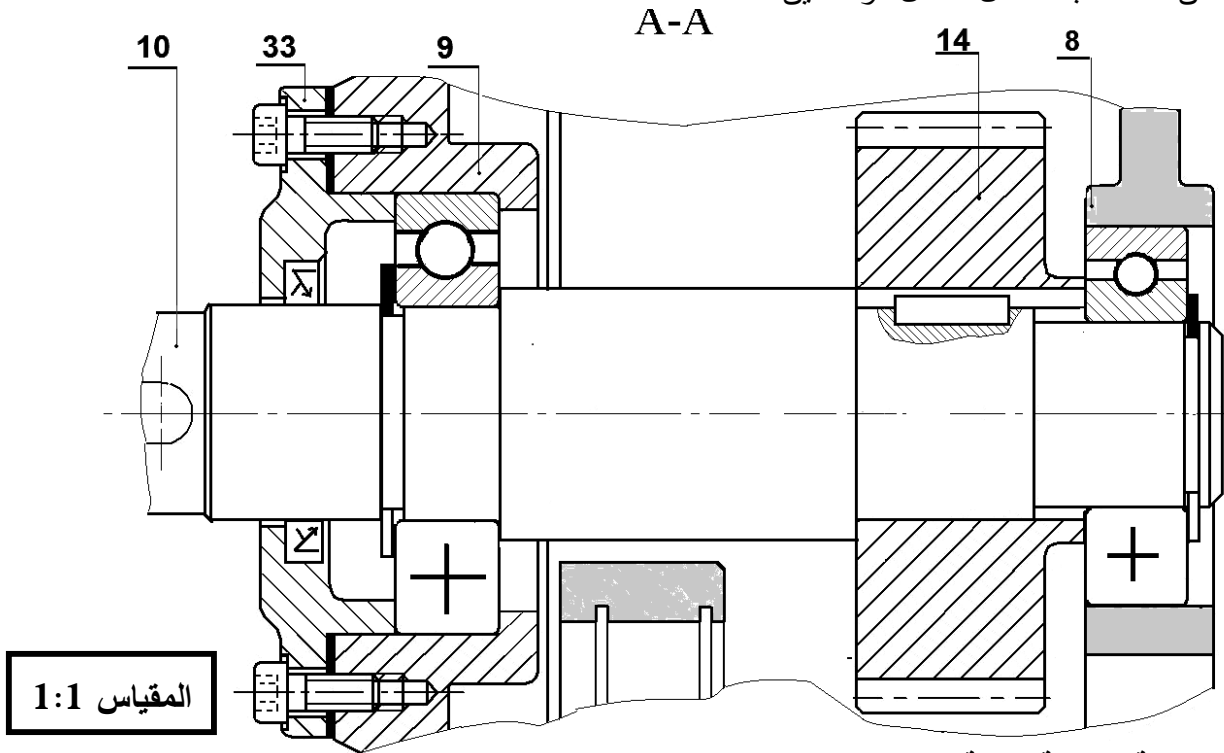
المخططات البيانية لها:

ب- تحليل بنيوي :

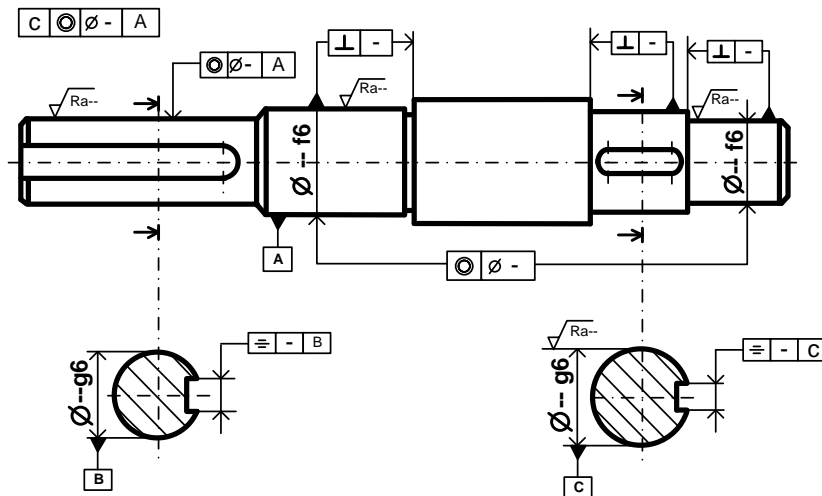
1- دراسة تصميمية جزئية: لتحسين مردود المخفض و جعله أحسن وظيفيا، نقوم بإدخال تعديلات عليه.

مستعينا بملف الموارد أنجز ما يلي:

- تحقيق الوصلة المتمحورة بين العمود (10) و المجموعة ((الجسم(8)، الغطاء(9)) بتغيير الوسادتين (12) و (13) بمدرجتين ذات صف واحد من الكريات بتماس نصف قطري.
- تحقيق الوصلة الإندماجية بين العجلة (14) و العمود(10).
- ضمان الكتامة باستعمال فاصل ذو شفتين.

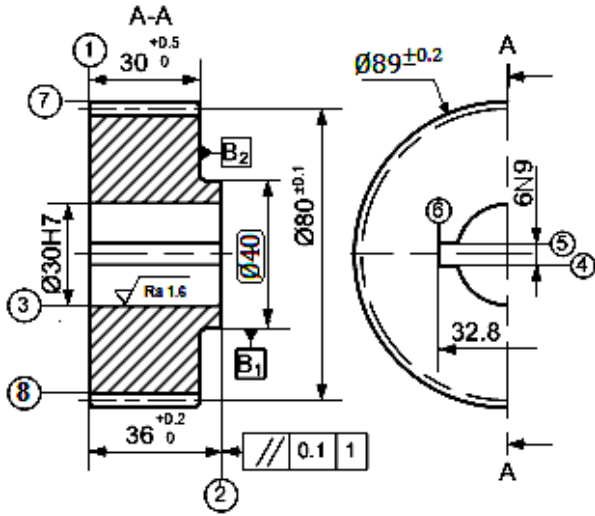


2- دراسة تعريفية جزئية :



المقياس 1:2

2.5- دراسة التحضير:



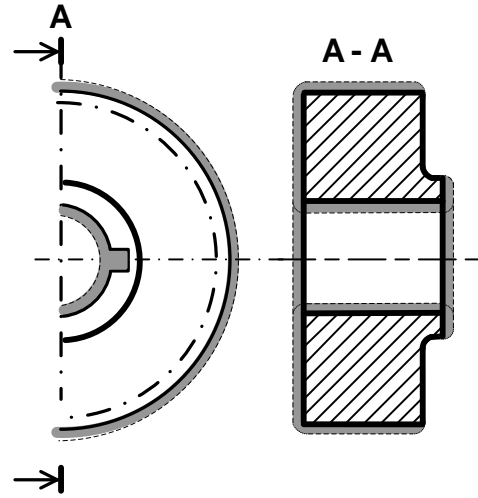
الخشونة العامة: Ra=3.2

المديول: m=2

4-5	≡	0.1	3
7	⊙	0.2	3
3	⊥	0.1	1
8	⊙	0.2	3
3	⊙	0.2	B1

أ- تكنولوجيا لوسائل و طرق الصنع:

- نريد دراسة وسائل و طرق صنع العجلة المسننة (14) المصنوعة من المادة C40 (أنظر الرسم التعريفي المقابل).
- وتيرة التصنيع: 1000 قطعة شهريا لمدة 3 سنوات.
- السمك الإضافي للتشغيل 2mm.
- 1- لشكل الأولي للخام؟



2- ما هي طريقة الحصول على هذا الخام؟

طريقة الحصول على الخام: الحدادة بالقالب

3- يتم تصنيع هذه القطعة وفق مراحل حسب التجميعات التالية:

{(8)} ، {(7) - (2)} ، {(6) - (5) - (4)} ، {(3) - (1)}

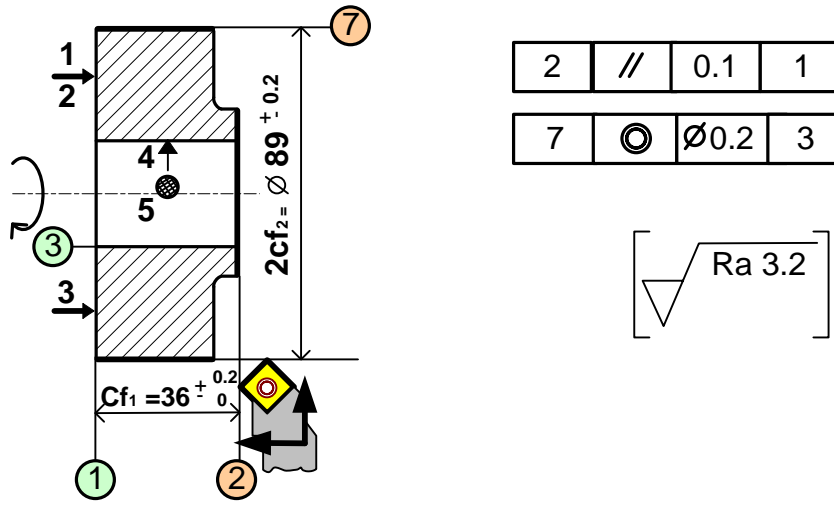
أتمم جدول السير المنطقي للصنع:

المرحلة	العمليات	منصب العمل
100	مراقبة الخام	منصب المراقبة
200	{(3) - (1)}	خراطة
300	{(7) - (2)}	خراطة
400	{(6) - (5) - (4)}	تخليق أو نقر
500	{(8)}	نحت المسننات
600	مراقبة نهائية	منصب المراقبة

4- عقد المرحلة :

مستعينا بملف الموارد، أنجز عقد المرحلة الخاص بتصنيع السطوح { (2)، (7) }، علما أن الورشة مجهزة بآلات للعمل بسلسلة صغيرة و متوسطة.

عقد المرحلة	المجموعة : محرك مخفض	العنصر: عجلة مسننة (14)
	المادة : C40	السلسلة : صغيرة
رقم المرحلة : 300	المنصب : خراطة	الآلة : TSA أو TP



رقم	تعيين عمليات التصنيع	عناصر القطع				أدوات	
		V_f mm/mn	f mm/tr	N tr/mn	V_c m/mn	القطع	المراقبة
301	تسوية (2) انهاء $Cf_1 = 36^{+0.2}_0$ 2 // 0.1 1	من 31,85 إلى 42,46	0.1	من 318,47 إلى 424,63	40	أداة خراط منحنية أو أداة تسوية	قدم القياس أو CMD تركيب خاص لمراقبة التوازي
302	خراط طولي (7) انهاء $2cf_2 = \varnothing 89^{+0.2}$ 7 ∅ 0.2 3	14,31	0.1	143,13	40	أداة خراط منحنية أو أداة خراط طولي	قدم القياس أو CMD تركيب خاص لمراقبة التمحور

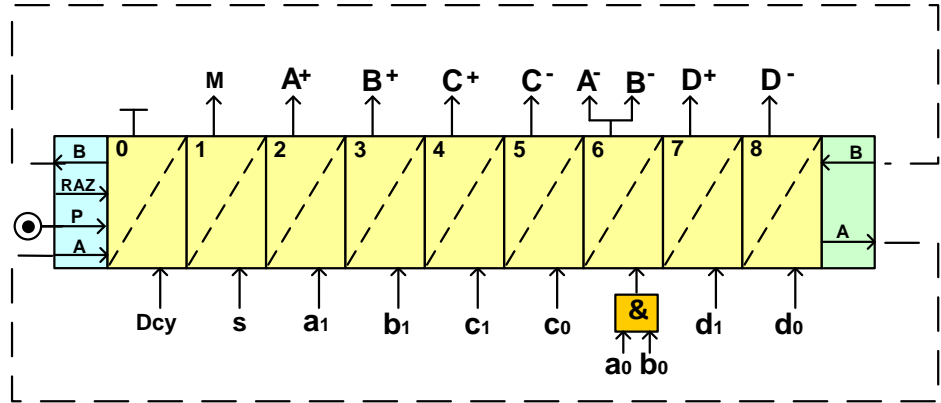
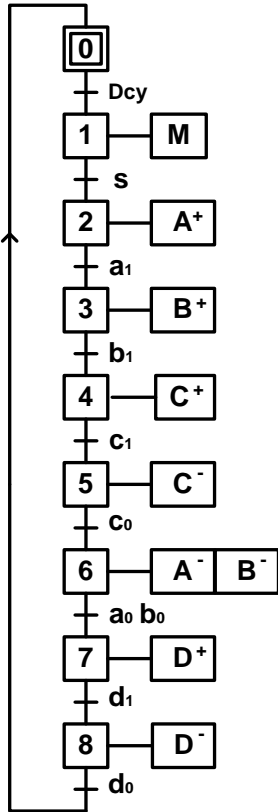
ب- آليات :

الحل الأول : أنجز حسب قواعد تمثيل الـ GRAFCET

1- المخطط الوظيفي للتحكم في المراحل و الانتقالات (GRAFCET)

المستوى 2 للنظام الآلي لتخريم و قص الصفائح؟

2- تمثيل المعقب الهوائي لسير هذا النظام الآلي :

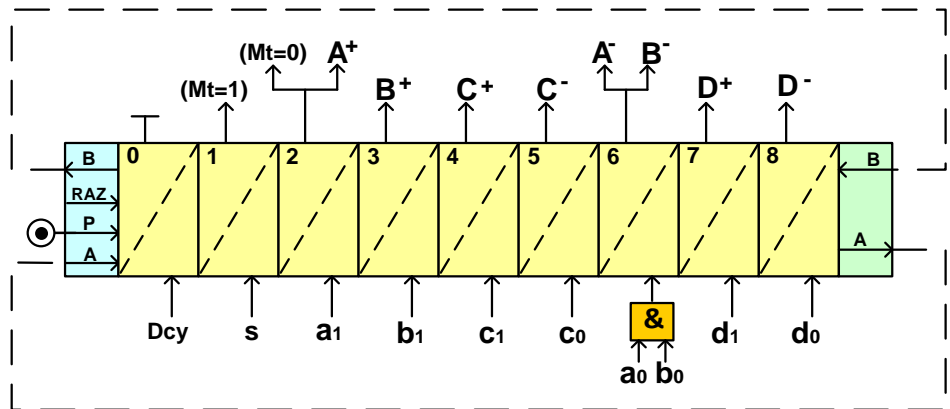
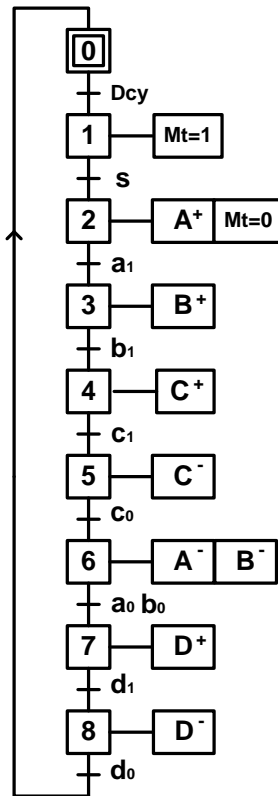


الحل الثاني : يقبل الحل التالي لأن المحرك Mt يعتبر متغير ثنائي

- المحرك في حالة اشتغال، حالته المنطقية = 1 (Mt=1)

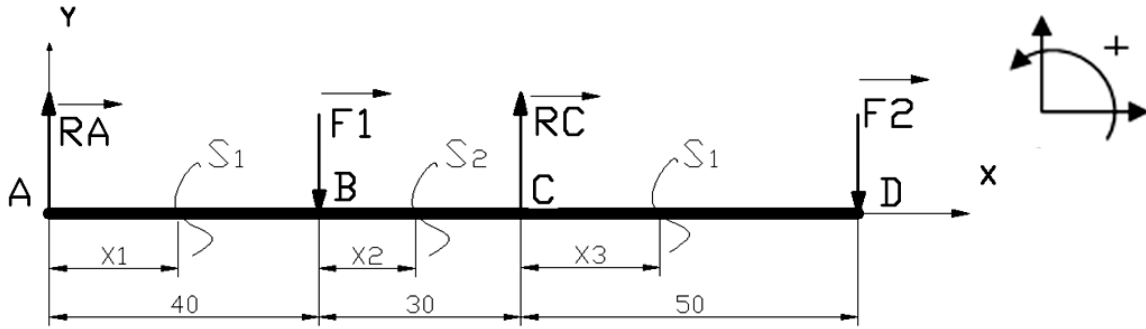
- المحرك في حالة توقف، حالته المنطقية = 0 (Mt=0)

وهي الطريقة المعمول بها حاليا في الميدان.



الموضوع الأول

الحل الثاني بالنسبة للسؤال 8 مقاومة المواد الخاص بحساب عزوم الإنحناء (Mf) الصفحة (24/7).



✓ $0 \leq x_1 \leq 40\text{mm}$ المرجع 0 في النقطة A

$$M_f = -R_A x_1$$

$$x_1 = 0 : M_f = 0$$

$$x_1 = 40 : M_f = -8000\text{N.mm}$$

✓ $0 \leq x_2 \leq 30\text{mm}$ ينقل المرجع 0 إلى النقطة B

$$M_f = -R_A (40 + x_2) + F_1 x_2$$

$$x_2 = 0 : M_f = -8000\text{N.mm}$$

$$x_2 = 30 : M_f = +10000\text{N.mm}$$

✓ $0 \leq x_3 \leq 50\text{mm}$: ينقل المرجع 0 إلى النقطة C

$$M_f = -R_A (70 + x_3) + F_1 (30 + x_3) - R_C x_3$$

$$x_3 = 0 : M_f = +10000\text{Nmm}$$

$$x_3 = 50 : M_f = 0$$

$$\frac{dM_f(x)}{dx} = -T_y(x)$$

ملاحظة هامة الخاصة بحساب الجهود القاطعة و عزوم الإنحناء :

يقبل الحل الذي يحقق الشرط التالي

عناصر الإجابة		العلامة
الموضوع الثاني: نظام آلي لتشحيم المدرجات		مجزأة
المجموع		
1.4- دراسة الإنشاء		13,5
أ- التحليل الوظيفي		
1. مخطط الوظيفة الإجمالية A-0	(0,1×8)	0,8
2- المخطط الوظيفي FAST	(0,1×7)	0,7
3- الرسم التخطيطي الحركي	(0,1×7)	0,7
4 - التحديد الوظيفي للأبعاد	1-4 : (0,2)	0,9
	2-4 : (0,3)	
	3-4 : (0,4)	
5- المتسنيات:		
1-5 حساب سرعة الزاوية:	(0,15×2)	1,6
2-5 حساب سرعة دوران الطبل	(0,15×2)	
3-5 حساب نسبة النقل الإجمالية	(0,15×2)	
4-5 حساب مميزات التسنن (جدول) : العلاقات الحسابات	(0,1×3) الحسابات (0,1×4)	
6- 1 تمثيل القوى المؤثرة على السن	(0,2×2)	0,4
6- 2 حساب المزدوجة المحركة	(0,25×2)	0,5
6- 3 حساب القوة المماسية	(0,25×2)	0,5
6- 4 حساب القوة النصف قطرية	(0,25×2)	0,5
7- مقاومة المواد		
1-7 حساب الجهود القاطعة (T)	(0,25×2)	0,5
2-7 حساب عزوم الانحناء (Mf):	(0,25×2)	0,5
3-7 تمثيل المنحنيات (Mf ، T)	0,5 Mf + 0,5 T	1

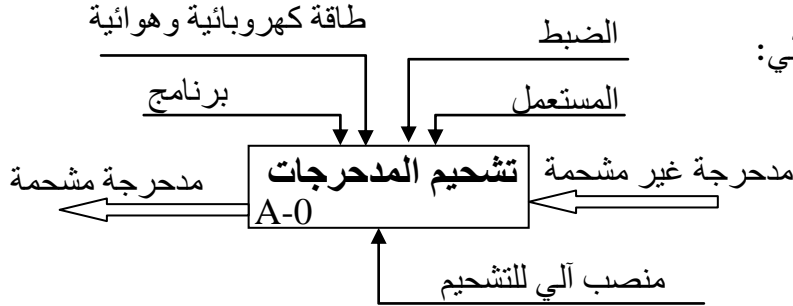
عناصر الإجابة		العلامة
الموضوع الثاني: نظام آلي لتشحيم المدرجات		مجزأة
المجموع		
2,5	ب - التحليل البنيوي	
	1- دراسة تصميمية جزئية	
	1,5	الوصلة المتمحورة (5 حواجز $\times 0,3$)
	0,5	الوصلة الاندماجية (2 حواجز $\times 0,25$)
	0,5	الكتامة
عناصر الإجابة		العلامة
الموضوع الثاني: نظام آلي لتشحيم المدرجات		مجزأة
المجموع		
2,4	2 - الدراسة التعريفية الجزئية	
	1	إتمام الرسم التعريفي: (1)
	0,4	الأقطار الوظيفية: (0,1 \times 4)
	0,5	السماحات الهندسية: (0,1 \times 5)
	0,5	الخشونة: (0,1 \times 5)
6,5	4 - 2 دراسة التحضير	
1,9	أ - تكنولوجيا وسائل الصنع	
	0,6	1- مبدأ الحصول على الكرية
	0,9	2- إتمام جدول العمليات: (0,1 \times 9)
	0,4	3- تعيين المواد (0,1 \times 4)
2,6	ب-تكنولوجيا طرق الصنع	
	0,6	1-جدول التسلسل المنطقي (0,1 \times 6)
	0,8	2- رسم الصنع : السكونية: 0,45 + أبعاد الصنع: 0,35
	0,4	3-حساب سرعة الدوران (N)
	0,4	4- حساب سرعة التغذية (Vf)
	0,4	5- إسم الأداة الملائمة لمراقبة
2	ج - الآليات:	
	1,5	1 - مخطط Grafcet مستوى 2 : (0,1 \times 15)
	0,5	2 - تركيب الدافعة A بالموزع 5/2 : (0,5)

ملف الأجوبة للموضوع الثاني

1.4 دراسة الإنشاء:

أ- التحليل الوظيفي:

1- أتمم المخطط الوظيفي (A-0) للنظام الآلي:

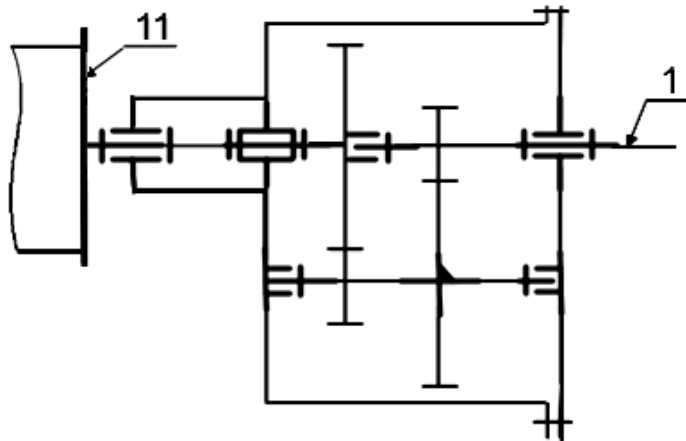


2- دراسة الوظيفة الأساسية Ft1 (نقل الحركة مع تخفيضها):

- أتمم المخطط الوظيفي FAST :



3- أتمم الرسم التخطيطي الحركي:

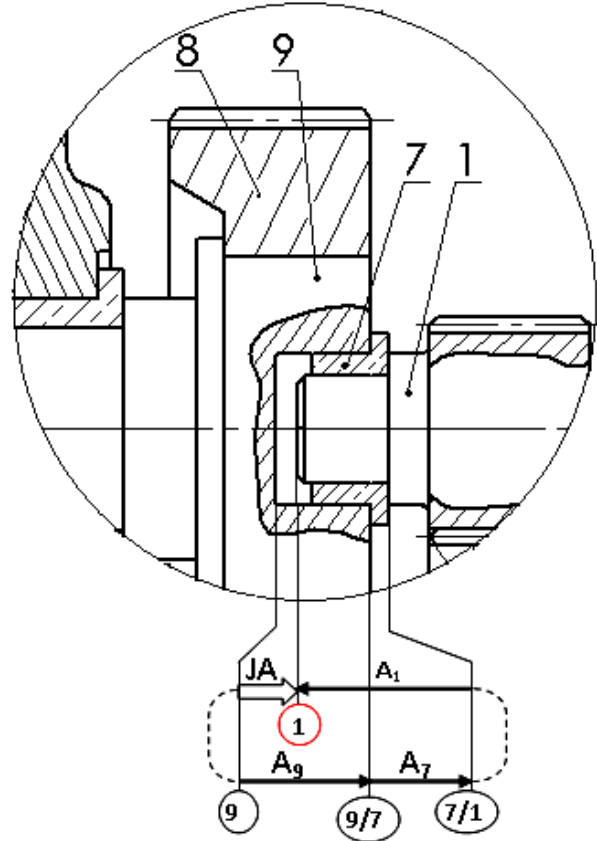


4- لضمان السير الحسن للجهاز، المصمم وضع الشرط الوظيفي JA :

1-4 ما هي وظيفة الشرط JA؟

تفادي الإحتكاك بين (1) و(9)

2-4 أنجز سلسلة أبعاد الشرط JA



3-4 أحسب البعد المجهول لتحقيق هذا الشرط.

$$JA = 3 \pm 0.2 \quad A_7 = 3 \begin{smallmatrix} +0.1 \\ 0 \end{smallmatrix} \quad A_9 = 15 \pm 0.1$$

$$JA = A_9 + A_7 - A_1$$

$$JA_m = A_{9m} + A_{7m} - A_{1m}$$

$$A_{1m} = A_{9m} + A_{7m} - JA_m$$

$$= (15 + 0.1) + (3 + 0.1) - (3 + 0.2) = 15 + 0$$

$$JA_m = A_{9m} + A_{7m} - A_{1m}$$

$$A_{1m} = A_{9m} + A_{7m} - JA_m$$

$$= (15 - 0.1) + (3) - (3 - 0.2) = 15 + 0.1$$

$$A_1 = 15 \begin{smallmatrix} +0.1 \\ 0 \end{smallmatrix}$$

5- دراسة المسننات:

تتم عملية تغذية منصّب التشحيم بالمدحرجات بسرعة $V = 1.57 \text{ m/s}$ بواسطة البساط المتحرك.

علما أن قطر الطبل $d_{11} = 160 \text{ mm}$

1-5 أحسب السرعة الزاوية (ω_{11}) للطبل:

$$\omega_{11} = 2 \times V / d_{11} = 2 \times (1.57 \times 1000) / 160 \text{ rd/s}$$

$$\omega_{11} = 19.62 \text{ rd/s}$$

2-5 أحسب سرعة دوران الطبل (N_{11}):

نأخذ ($\pi = 3.14$)

$$\omega_{11} = (2\pi \times N_{11}) / 60 = \pi \times N_{11} / 30$$

$$N_{11} = (30 \times \omega_{11}) / \pi = 30 \times 19.62 / \pi$$

$$N_{11} = 187.45 \text{ tr/mn}$$

3-5 أحسب نسبة النقل الإجمالية (r_g):

$$r_g = N_{11} / N_1 = 187.45 / 1500 = 0.125$$

4-5 أحسب مميزات التسنن {20-1} وفقا للجدول

الآتي:

a	d	Z	m	
66	33	22	1.5	(1)
	99	66		(20)

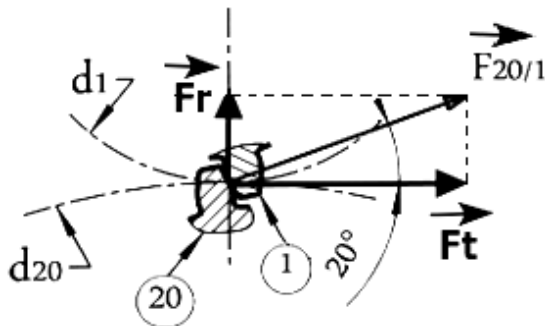
$$\text{العلاقات: } r_g = (Z_1 / Z_{20}) \times (Z_{18} / Z_8)$$

$$D = m \times z$$

$$a = (d_1 + d_{20}) / 2$$

6- دراسة الجهود المؤثرة على العمود المسنن (1):

1-6 مثل القوى المؤثرة على السن (1):



2-6 أحسب المزدوجة المحركة (C_m):

$$P = C_m \times \omega_m ; C_m = P / \omega_m \quad \omega_m = \pi \times N_m / 30$$

$$C_m = (30 \times P) / (\pi \times N_m) = (30 \times 1500) / \pi \times 1500$$

$$C_m = 9,55 \text{ Nm} = 9550 \text{ Nmm}$$

3-6 أحسب القوة المماسية (F_t) حيث $d_1 = 33$

$$C_m = F_t \times d_1 / 2 ; F_t = 2 \times C_m / d_1 = 2 \times 9550 / 33 \text{ N}$$

$$F_t = 578,78 \text{ N}$$

4-6 أحسب القوة النصف قطرية (F_r) علما أن زاوية

$$\alpha = 20^\circ \text{ الضغط}$$

$$\tan \alpha = F_r / F_t ; F_r = F_t \times \tan \alpha$$

$$F_r = 578,78 \times \tan 20^\circ = 210,66 \text{ N}$$

7- مقاومة المواد:

نفرض أن العمود المسنن (1) عبارة عن عارضة

أفقية ذات مقطع دائري مملوء، خاضعة للجهود التالية:

$$F_r = 210,75 \text{ N} \quad A = 126,45 \text{ N}$$

$$B = 84,3 \text{ N}$$

$$1 \text{ mm} \rightarrow 10 \text{ N} \quad \text{سلم القوى:}$$

$$1 \text{ mm} \rightarrow 100 \text{ Nmm} \quad \text{سلم العزوم:}$$

1-7 أحسب الجهود القاطعة (T):

$$0 \leq x \leq 24 \text{ mm} :$$

$$T = A = 126,45 \text{ N}$$

$$24 \text{ mm} \leq x \leq 60 \text{ mm} :$$

$$T = A - F_r = 126,45 \text{ N} - 210,75 \text{ N}$$

$$T = - 84,3 \text{ N}$$

2-7 أحسب عزوم الإنحناء (M_f):

$$0 \leq X \leq 24 \text{ mm} :$$

$$M_f = - A \cdot X$$

$$M_f = - 126,45 \cdot X ; \quad X=0 : M_f=0$$

$$X = 24 \text{ mm} : M_f = - 126,45 \times 24 \text{ mm}$$

$$M_f = - 3034,8 \text{ Nmm}$$

$$24 \text{ mm} \leq X \leq 60 \text{ mm} :$$

$$M_f = - A \cdot X + F_r \cdot (X - 24 \text{ mm})$$

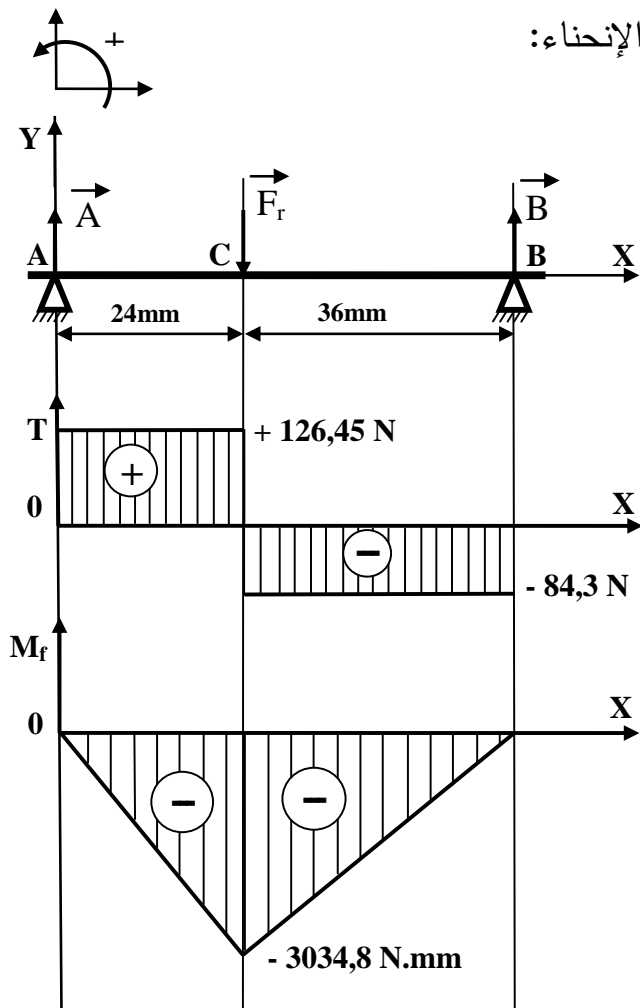
$$M_f = - 126,45 \cdot X + 210,75 \cdot (X - 24 \text{ mm})$$

$$X = 24 \text{ mm} : M_f = - 3034,8 \text{ Nmm}$$

$$X = 60 \text{ mm} : M_f = 0$$

3-7 مثل منحنيات الجهود القاطعة وعزوم

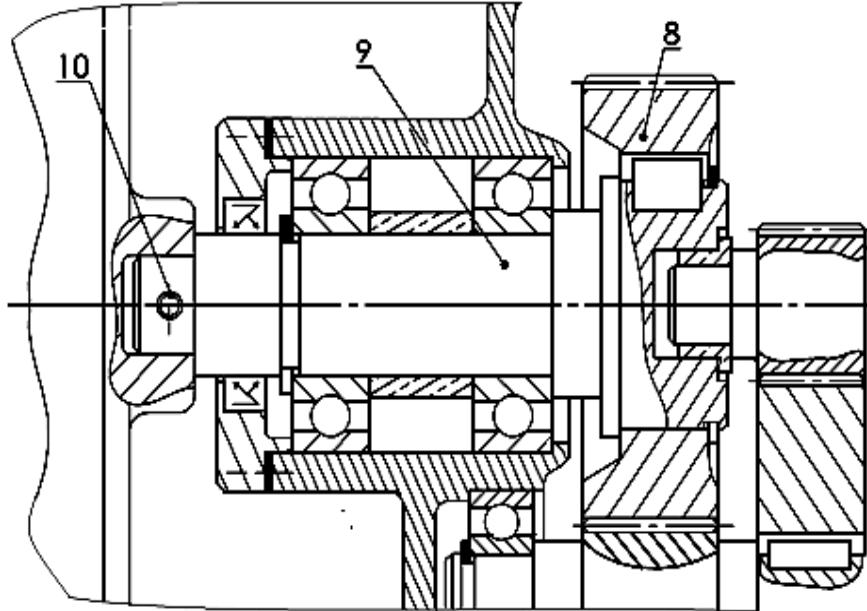
الإنحناء:



ب - تحليل بنيوي:

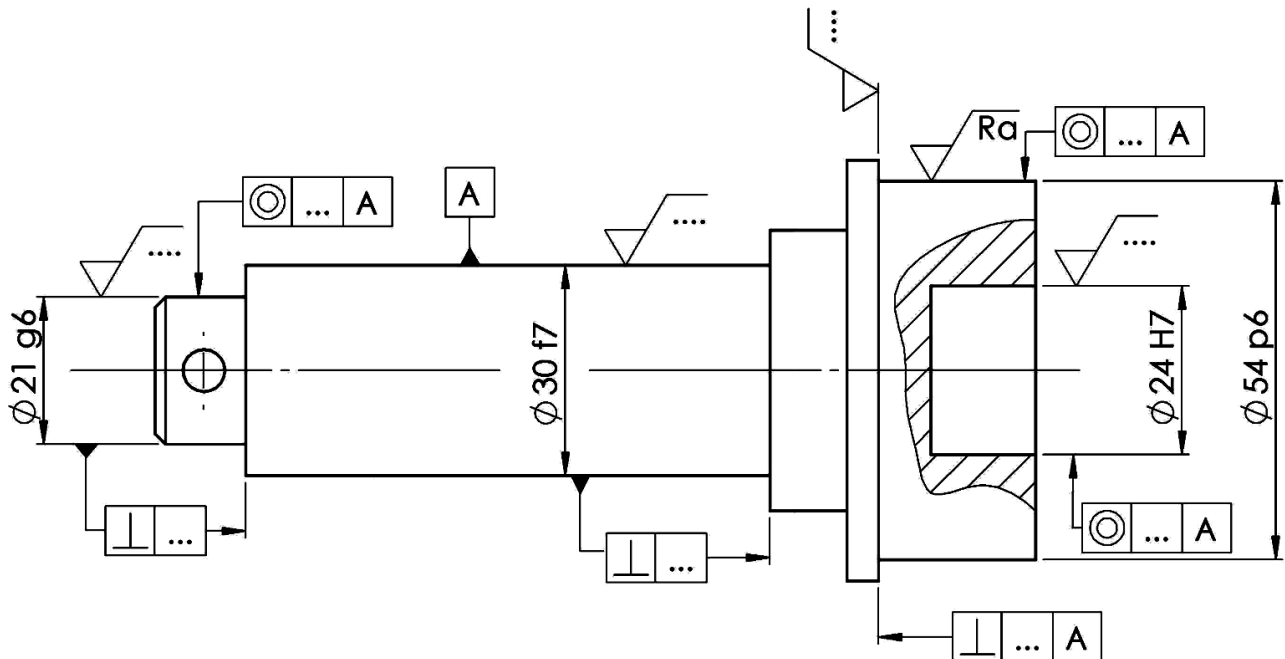
1 -دراسة تصميمية جزئية: لتحسين سير الجهاز والاشتغال في ظروف جيدة وأمنة، نقترح التعديلات التالية:

- توجيه العمود (9) في الدوران بواسطة مدحرجات ذات صف واحد من الكريات بتماس نصف قطري.
- تحقيق وصلة إندماجية قابلة لل فك بين العمود (9) والعجلة المسننة (8).
- ضمان كتامة الجهاز بفواصل كتامة طراز AS.



2 -دراسة تصميمية جزئية: أتمم الرسم التعريفي للعمود (9) بسلم 1:1 مع تسجيل :

- الأقطار الوظيفية والسماحات الهندسية (بدون قيم).
- الخشونة للأسطح الوظيفية (بدون قيم).



4-2 دراسة التحضير:

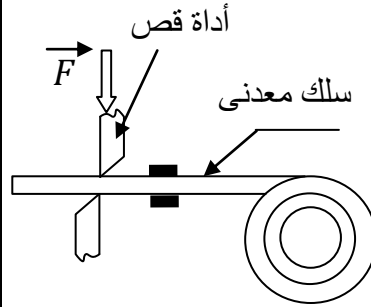
أ- تكنولوجيا وسائل الصنع:

نريد دراسة أسلوب الحصول على القطع المكونة للمدحرجات:

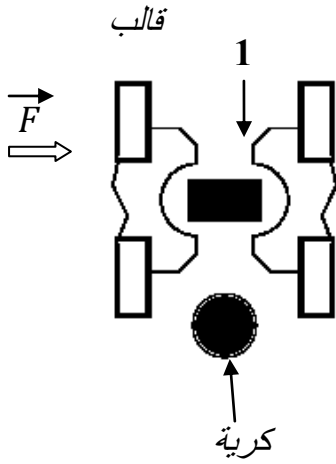
1- يتم انجاز الكرة انطلاقا من الخام (سلك معدني).

مستعينا بالشكلين المقابلين (1) و (2) اشرح باختصار مبدأ الحصول على الكرة:

- قص السلك المعدني إلى قطع صغيرة (1)
- توضع القطعة (1) بين قالبين التشكيل وتضغط حتى تملأ الفجوتين وتتشكل الكرة.
- فتح القالبين وإستخراج الكرة
- نزع الأشكال الزائدة

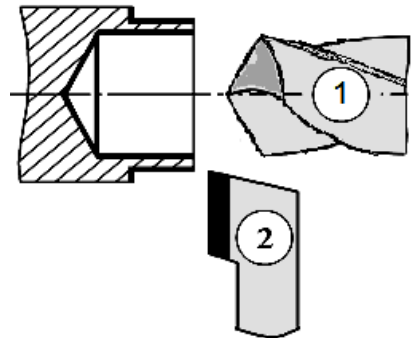
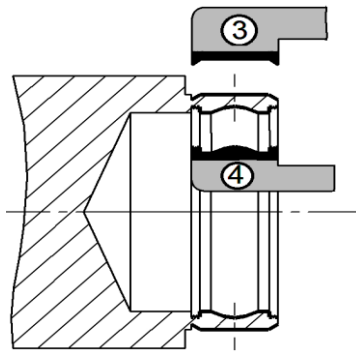
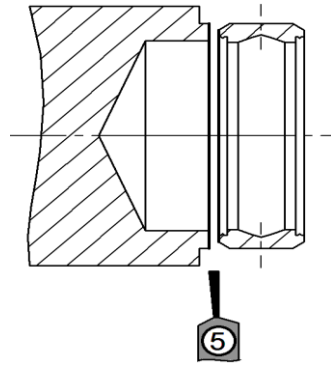


الشكل 1



الشكل 2

2- يتم انجاز الجلبة الخارجية عن طريق تشغيل قضيب اسطواني وفق المراحل المبينة أسفله:



اتمم الجدول الاتي

الرقم	إسم الأداة	العملية	الآلة
1	مثقب	تثقيب	آلة الخراطة
2	أدات الخرط الطولي	خرط طولي بإسناد (كتف)	آلة الخراطة
3	أداة تشكيل	تشكيل خارجي	آلة خراطة
4	أداة تشكيل	تشكيل داخلي	آلة خراطة
5	أداة القطع	تقطيع	آلة الخراطة

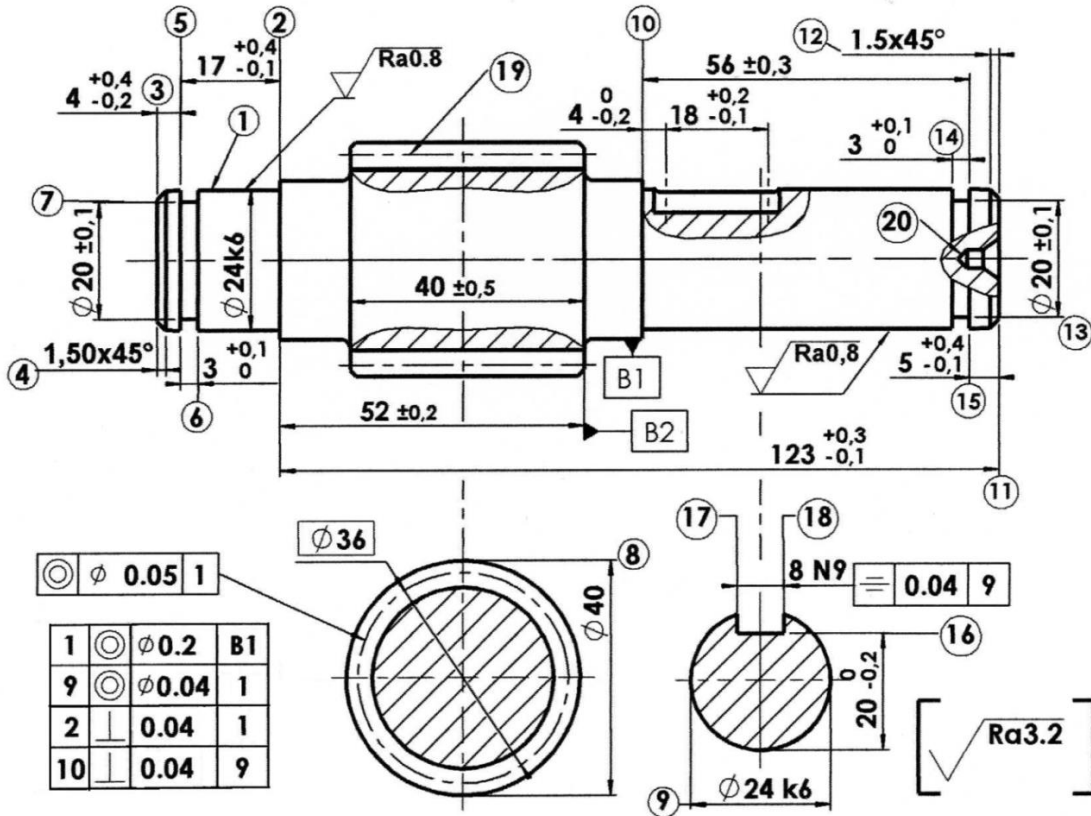
3- الجلبة مصنوعة من مادة 100cr6 اشرح هذا التعيين:

حديد صلب ضعيف المزج — يحتوي على 1% من الكربون

Cr:العنصر الإضافي الأول وهو الكروم بنسبة 1.5% = 6/4%

ب- تكنولوجيا طرق الصنع:

نقترح دراسة صنع العمود المسنن (18) المصنوع من المادة 35NiCrMo16 بسلسلة متوسطة.



ISO 1328	رتبة الدقة: 6
زاوية الضغط: $\alpha=20^\circ$	عدد الأسنان: $Z=18$
خشونة جانب السن: $Ra=3.2$	المديول: $m=2$

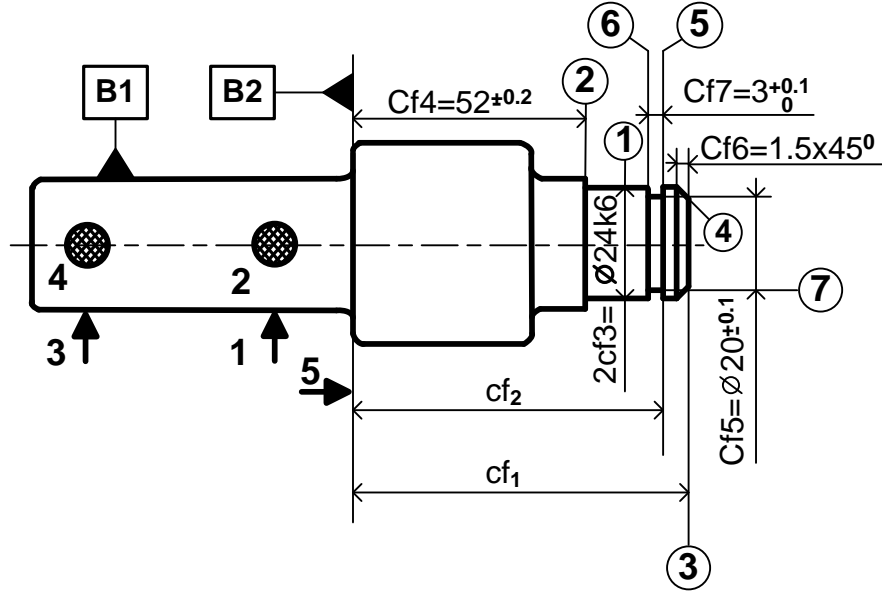
- خصائص التسنن:

المرحلة	العمليات	المنصب
100	مراقبة الخام	منصب المراقبة
200	{(1) (2) (3) (4) (5) (6) (7)}	خراطة
300	{(11) (المركزة)}	خراطة
400	{(8) (9) (10) (11) (12) (13) (14) (15)}	خراطة
500	{(التسنن 19)}	نحت المسننات
600	{(16) (17) (18)}	تفريز
700	مراقبة نهائية	منصب المراقبة

1- أكمل جدول

التسلسل المنطقي
لمراحل الصنع التالي:
(الصنع بسلسلة
متوسطة)

2- أتمم رسم الصنع الخاص بالمرحلة {200} موضحا الوضعية السكونية وأبعاد الصنع (بدون قيم بالنسبة للأبعاد المجهولة):



3- احسب السرعة الدورانية N لإنجاز التمريرة النهائية للسطح (1) علما أن:

$$f = 0,1 \text{ mm/tr} ; V_c = 100 \text{ m/mn}$$

$$N = (1000 \times V_c) / (\pi \times D) = (1000 \times 100) / (\pi \times 24)$$

$$N = 1326,3 \text{ tr / mn}$$

4- احسب سرعة التغذية V_f

$$V_f = f \cdot N = 1326,3 \times 0,1 \text{ mm/mn} = 132,63 \text{ mm/mn}$$

5- ما هي الأداة الملائمة لمراقبة قطر الأسطوانة (1)؟

(أو الميكروميتر) CMD Ø24k6

ج- الآليات:

النظام الآلي الممثل في الصفحة (24/13) يشتغل وفق دفتر الشروط الوظيفي التالي:

- انطلاق الدورة بالضغط على الزر **Dcy** حيث يدور المحرك (**Mt=1**) لإيصال المدرجة أمام الدافعة **A**.
- الضغط على ملتقط الكشف **k** يؤدي إلى توقف المحرك (**Mt=0**) وخروج ساق الدافعة **A** لدفع المدرجة نحو منصة التشحيم.
- عند الضغط على الملتقط **a1** تعود ساق الدافعة **A**.
- الضغط على الملتقط **a0** يؤدي إلى صعود المدرجة إلى المشحم بخروج ساق الدافعة **B**.
- عند الضغط على **b1** تبدأ عملية التشحيم التي تدوم 4 ثواني ثم تعود ساق الدافعة **B**.
- الضغط على الملتقط **b0** يؤدي إلى خروج ساق الدافعة **C** لإخلاء المدرجة المشحمة نحو بساط الإخلاء.
- الضغط على الملتقط **c1** يؤدي إلى رجوع ساق الدافعة **C**. تنتهي الدورة عند الضغط على الملتقط **c0**.

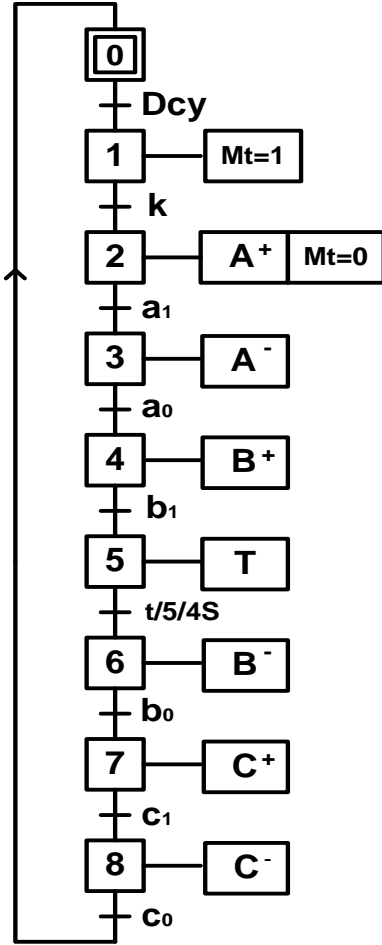
العمل المطلوب:

1- أتمم مخطط Grafcet مستوى 2 التالي الخاص بالنظام المدروس.

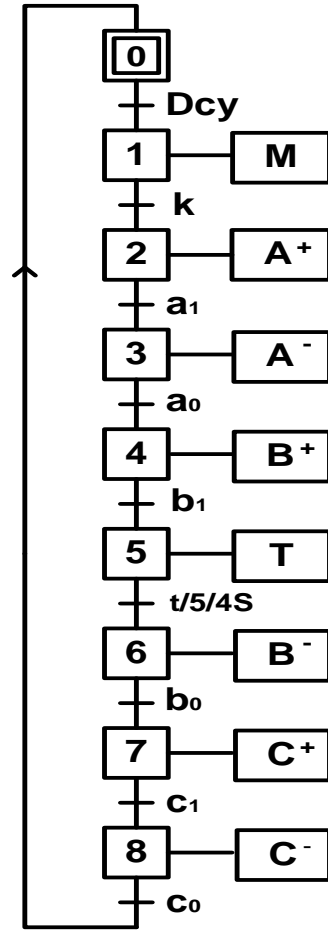
الحل الثاني : يقبل الحل التالي لأن المحرك Mt

يعتبر متغير ثنائي

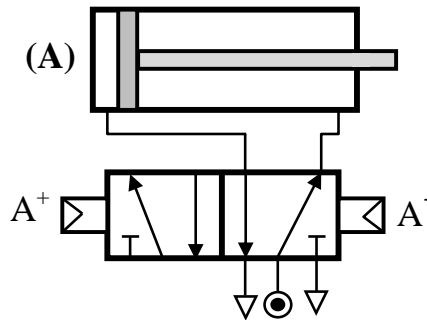
- المحرك في حالة اشتغال، حالته المنطقية = 1 (Mt=1)
 - المحرك في حالة توقف، حالته المنطقية = 0 (Mt=0)
- وهي الطريقة المعمول بها حاليا في الميدان.



الحل الأول : أنجز حسب قواعد تمثيل الـ GRAFCET

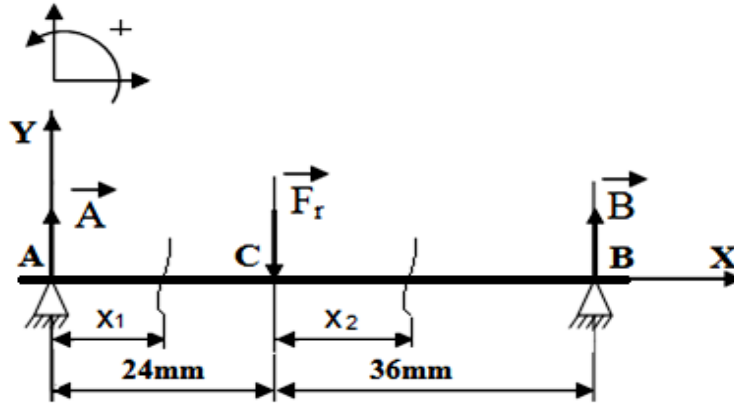


2- اتمم ربط الدافعة A بالموزع 5/2 ثنائي الإستقرار وبتحكم هوائي.



الموضوع الثاني

الحل الثاني بالنسبة للسؤال 7-2 مقاومة المواد الخاص بحساب عزوم الإنحناء (M_f) الصفحة (24/20).



✓ المرجع 0 في النقطة A $0 \leq x_1 \leq 24 \text{ mm}$

$$M_f = -R_A x_1$$

$$x_1 = 0 : M_f = 0$$

$$x_1 = 24 : M_f = -3034.8 \text{ N.mm}$$

✓ ينقل المرجع 0 إلى النقطة C $0 \leq x_2 \leq 36 \text{ mm}$

$$M_f = -R_A (24 + x_2) + F_1 x_2$$

$$x_2 = 0 : M_f = -3034.8 \text{ N.mm}$$

$$x_2 = 36 : M_f = 0 \text{ N.mm}$$

ملاحظة هامة الخاصة بحساب الجهود القاطعة و عزوم الإنحناء :

$$\frac{dM_f(x)}{dx} = -T_y(x)$$

يقبل الحل الذي يحقق الشرط التالي

الحل الثاني بالنسبة للسؤال 3-5 و 4-5 الخاص بدراسة المسننات الصفحة (24 / 19).
من الشكل الرسم التجميعي (الصفحة 24 / 15) نستنتج أن التباعد المحوري للمسننين (20/1) و (8/18):

$$a_{1-20} = a_{18-8}$$

$$a_{1-20} = a_{18-8} = m(Z_{18} + Z_8) / 2 = 66 \text{ mm}$$

$$a_{1-20} = m(Z_1 + Z_{20}) / 2 = 66 \text{ mm} \quad Z_1 = 22 \text{ dents}$$

$$d_1 = m \times Z_1 = 1,5 \cdot 22 = 33 \text{ mm}$$

$$d_{20} = m \times Z_{20} = 1,5 \cdot 66 = 99 \text{ mm}$$

$$r_g = r_{1-20} \cdot r_{18-8} = (Z_1 / Z_{20}) \cdot (Z_{18} / Z_8) = (22/66) \cdot (18/48) = 0,125$$

$$r_g = N_{11} / N_1 \quad N_{11} = 0,125 \cdot 1500 = 187,45 \text{ tr/mn}$$