



ديسمبر 2023

المستوى: الثاني ابتدائي

اختبار الفصل الأول في التربية العلمية

الاسم و اللقب : القسم:

التمرين الأول : أَكْتُبْ (صَحِيح) أَمَامَ الإِجَابَةِ الصَّحِيحَةِ وَ (خَطَأ) أَمَامَ الإِجَابَةِ الخَاطِئَةِ.

- أَتَنَفَسُ عِنْدَمَا أَكُونُ نَائِمًا فَقَطْ.


- الرِّيَاضَةُ عَمَلٌ شَاقٌّ وَ غَيْرُ مُفِيدٍ لِلجِسْمِ.

- رَقَائِقُ البَطَاطَا وَ المَشْرُوبَاتُ الغَازِيَّةُ مُفِيدَةٌ لِلجِسْمِ .

- يَمْتَصُّ النِّبَاتُ الأَخْضَرُ المَاءَ بِوَاسِطَةِ السَّاقِ.

- الغِذَاءُ الصَّحِّي يَضْمَنُ لِي نُمُوًّا سَلِيمًا لِجِسْمِي.

- المَاءُ غَيْرُ ضَرُورِي لِحَيَاةِ النِّبَاتِ.

التمرين الثاني : ضَعْ عَلامَةَ (X) تَحْتَ الأَغْذِيَةِ الصَّحِيَّةِ.
☐

☐

☐

☐
التمرين الثالث : أَلَوْنُ السُّلُوكَاتِ الَّتِي تُسَاعِدُ جِسْمِي عَلَى النُّمُوِّ نُمُوًّا سَلِيمًا.

أَمَارِسُ الرِّيَاضَةِ.

أَكْثَرُ مَنْ تَنَاوَلِ الحَلَوِيَّاتِ .

أَنَامُ وَ أَسْتَقِظُ بَاكِرًا.

أَتَنَاوَلُ الطَّعَامَ فِي كُلِّ وَقْتٍ.

لَا أَتَعِبُ نَفْسِي فِي الأَعْمَالِ الشَّاقَّةِ.

أَتَنَاوَلُ طَعَامًا صَحِيًّا.

التمرين الرابع : أكمل بما يلي (يَنْخَفِضُ – يَرْتَفِعُ – يَخْرُجُ - يَدْخُلُ)
لِتَتَعَرَّفَ عَلَى عَمَلِيَّتِي الشَّهِيْق وَ الزَّفِيرِ.

أثناء الشَّهِيْق.....الهَوَاءُ إِلَى جِسْمِي ف.....صَدْرِي.

أثناء الزَّفِيرِ.....الهَوَاءُ مِنْ جِسْمِي ف.....صَدْرِي.

الوَضْعِيَّةُ الإِدْمَاجِيَّةُ :

السَّنَدُ: غَرَسْتُ مَرْيَمَ نَبْتَةً. لِتَكْبُرَ وَ تَنْمُو يَجِبُ أَنْ تَعْتَنِي بِهَا.

التَّعْلِيمَةُ : أ- ضَعِ عِلَامَةً (X) أَمَامَ مَا عَلَى مَرْيَمَ الْقِيَامَ بِهِ

- تَسْقِيهَا بِمَاءِ الْحَنْفِيَّةِ.

- تَتْرُكُ النَّبْتَةَ فِي الشَّرْفَةِ دُونَ عِنَايَةٍ.

- تُغَطِّي النَّبْتَةَ بِكَيْسٍ أَسْوَدَ.


-تَعْتَنِي بِهَا وَ تَسْقِيهَا بِإِنْتِظَامٍ.



ب- أَكْمِلُ الْفَقْرَةَ ثُمَّ أَحَدِدُ مَسَارَ الْمَاءِ فِي النَّبْتَةِ.

يَمْتَنَصُ النَّبَاتُ الْمَاءَ بِوَاسِطَةِوَيُوزَّعُ فِي كُلِّ

و هَذَا مَا سَاعَدَ عَلَىو اسْتِمْرَارِهِ فِي



بالتوفيق

تصحيح نموذجي

التمرين الأول : أَكْتُبْ (صَحِيح) أَمَامَ الإِجَابَةِ الصَّحِيحَةِ وَ (خَطَأ) أَمَامَ الإِجَابَةِ الخَاطِئَةِ.

- أَتَنَفَّسُ عِنْدَمَا أَكُونُ نَائِمًا فَقَطْ.

خَطَأ

- الرِّيَاضَةُ عَمَلٌ شَاقٌّ وَ غَيْرُ مُفِيدٍ لِلجِسْمِ.

خَطَأ

- رَقَائِقُ البَطَاطَا وَ المَشْرُوبَاتُ الغَازِيَّةُ مُفِيدَةٌ لِلجِسْمِ .

خَطَأ

- يَمْتَصُّ النَّبَاتُ الأَخْضَرُ المَاءَ بِوَاسِطَةِ السَّاقِ.

خَطَأ

- الغِذَاءُ الصَّحِي يَضْمَنُ لِي نُمُوًّا سَلِيمًا لِجِسْمِي.

صَحِ


- المَاءُ غَيْرُ ضَرُورِي لِحَيَاةِ النَّبَاتِ.

خَطَأ

التمرين الثاني : ضَعْ عَلامَةَ (X) تَحْتَ الأَغْذِيَةِ الصَّحِيَّةِ.



○



X



X



X

التمرين الثالث : أَلَوْنِ السُّلُوكَاتِ الَّتِي تُسَاعِدُ جِسْمِي عَلَى النُّمُوِّ نُمُوًّا سَلِيمًا.

أَمَارِسُ الرِّيَاضَةِ.

أَكْثَرُ مِنْ تَنَاوُلِ الحَلَوِيَّاتِ .

أَنَامُ وَ أَستَيْقِظُ بَاصْبَرًا.

أَتَنَاوَلُ الطَّعَامَ فِي كُلِّ وَقْتٍ.

لَا أَتَعِبُ نَفْسِي فِي الأَعْمَالِ الشَّاقَّةِ.

أَتَنَاوَلُ طَعَامًا صَحِيًّا.

التمرين الرابع : أكمل بما يلي (ينخفض - يرتفع - يخرج - يدخل)
لتتعرف على عمليتي الشهيق و الزفير.

أثناء الشهيق **يدخل** الهواء إلى جسمي **فيرتفع** صدري.
أثناء الزفير **يخرج** الهواء من جسمي **فينخفض** صدري.

الوضعية الإدماجية :

السند: غرست مريم نبتة. لتكبر و تنمو يجب أن تعتني بها.

التعليمة : أ- ضع علامة (X) أمام ما على مريم القيام به

- تسقيها بماء الحنفية.

- تترك النبتة في الشرفة دون عناية.

- تغطي النبتة بكيس أسود.

- تعتني بها و تسقيها بانتظام.

X

X



ب- أكمل الفقرة ثم أحدد مسار الماء في النبتة.
يمنص النبت الماء بواسطة **الجذور** ويوزع في كل **أجزائه**

و هذا ما ساعد على **نموه** و استمراره في **الحياة**

سم مسار الماء من الجذور إلى الساق إلى الأوراق

