



اختبار الفصل الثالث في مادة الرياضيات

ماي 2014

المستوى: تحضيري (Préparatoire)

التمرين الأول : أكتب العدد المناسب في الخانة الفارغة :

7 ... 9

8 ... 10

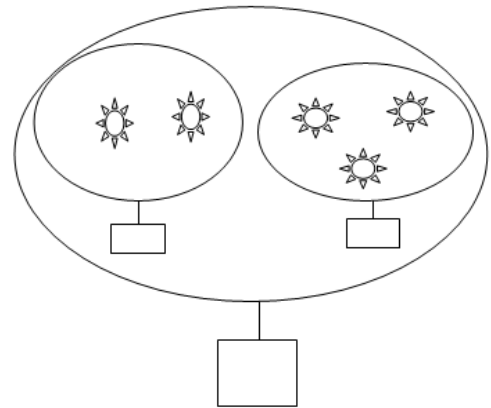
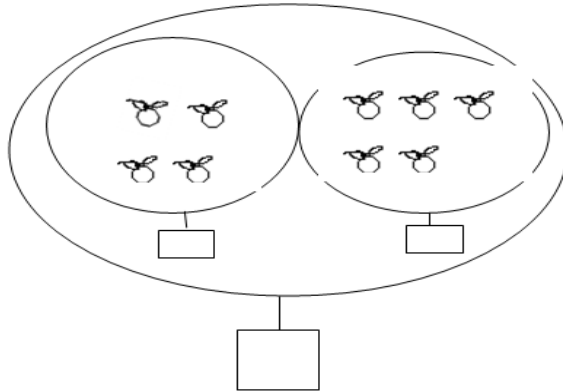
1 ... 3

4 ... 6

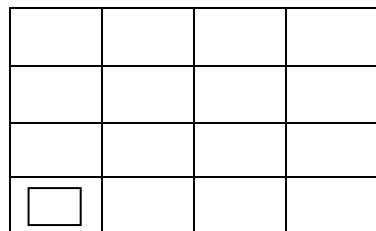
2 ... 4

3 ... 5

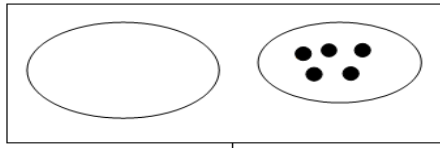
التمرين الثاني : أحسب و أكتب العدد المناسب في البطاقة :



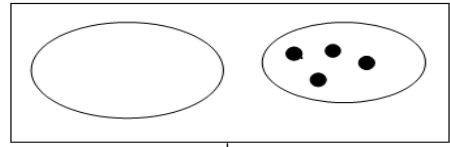
التمرين الثالث : أكمل رسم المربعات لتتحقق الإستقامية :



التمرين الرابع : أكمل الرسم ليصبح عدد الكريات 10






10




10

التمرين الخامس : وزّعت رباب الأسماك على القِطتين بالتساوي



أكلت كلّ قطعة



بقي عند رباب

ثمّ لوّن الشكل

5

إلى

1

التمرين السادس : أرسم خطوط بإستعمال المسطرة من

1

•

• 4

3 •

5 •

• 2