



ماي: 2015

المستوى: التحضيري (Préparatoire)

اختبار الفصل الثالث في نشاط الرياضيات

التمرين الأول: اكتب العدد المناسب في الخانة الفارغة.

.	2	.
---	---	---

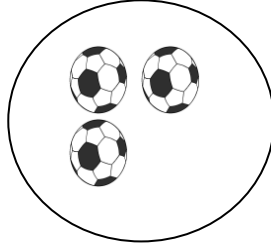
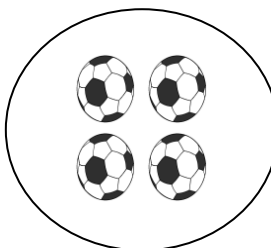
.	4	.
---	---	---

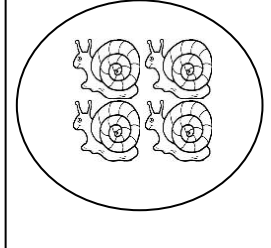
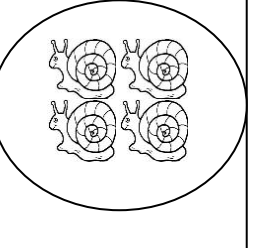
.	9	.
---	---	---

.	5	.
---	---	---

.	6	.
---	---	---

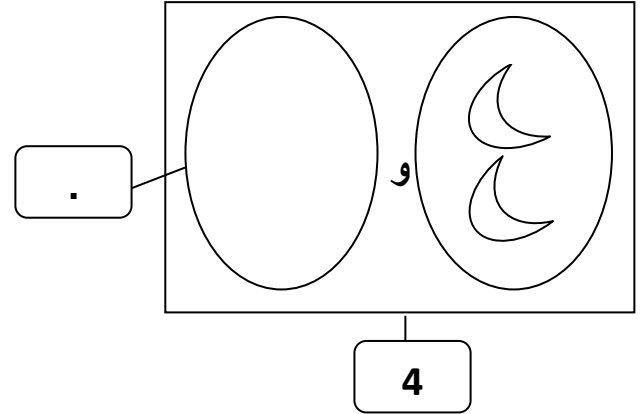
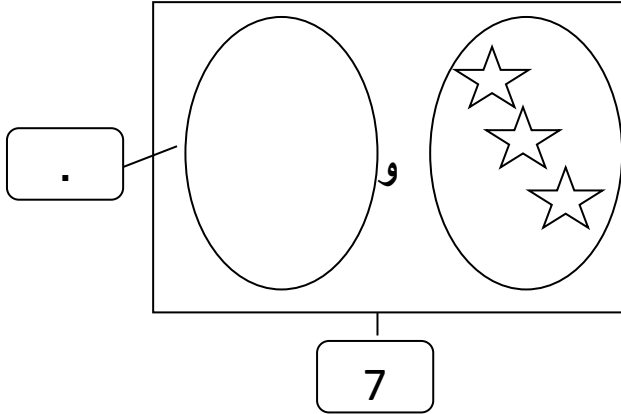
التمرين الثاني: احسب ثم اكتب العدد في الخانة الفارغ

		
<table border="1"> <tr> <td>.</td> </tr> </table>		.
.		

		
<table border="1"> <tr> <td>.</td> </tr> </table>		.
.		

التمرين الثالث: أكمل الرسم لإتمام الرقم المكتوب في البطاقة ثم اكتب الرقم المتمم

في البطاقة الفارغة



التمرين الرابع: أصل الأعداد بالترتيب من 1 إلى 4 باستعمال المسطرة ثم لون بالأصفر


2 •

• 1

• 3

• 4

التمرين الخامس: وزعت الأم الحلوى بالتساوي على رباب و منير



كم اخذ كل واحد .

كم بقي عند ماما

حي قعلول - برج البحري - الجزائر