



المستوى : الثانية ابتدائي [2AP] جانفي، 2019

وقفة تقييمية للفصل الثاني في مادة الرياضيات

الوضعية 1: اكتب العمليات التالية عموديا ثم أنجزها .

$$47+50+13=.....$$

$$\begin{array}{r} \\ + \\ + \\ \hline = \end{array}$$

$$176+235=.....$$

$$\begin{array}{r} \\ + \\ \hline = \end{array}$$

$$68+41=.....$$




$$\begin{array}{r} \\ + \\ \hline = \end{array}$$

الوضعية 2: اكتب الأعداد التالية في الجدول

مائتان و سبعة		
و	ع	م
.	.	.

مائة و ثلاثة و ستون		
و	ع	م
.	.	.

الوضعية 3: أسمى المضلعات التالية و أعدد الزوايا القائمة باللون الأحمر.



الوضعية 4: اكمل الجدول التالي

ضعفه	العدد	نصفه
.	30	.
.	88	.
.	100	.
.	46	.

الوضعية 5: أحيط المبلغ اللازم لشراء اللعبة التالية

373 دينار



المشكلة :

اشترت صاحبة مكتبة 130 كتابا للرياضيات ، و 75 قصة ، و 64 قاموسا .
- كم كتابا اشترت صاحبة المكتبة ؟

الأجوبة

الحل

العمليات

..... =

.....

تصحيح الوقفة التقييمية في مادة الرياضيات للفصل الثاني

الوضعية 1: اكتب العمليات التالية عموديا ثم أنجزها .

$$47+50+13=110$$

$$\begin{array}{r} \dots 47 \\ + \dots 50 \\ + \quad \quad 13 \\ \hline = 110 \end{array}$$

$$176+235=411$$

$$\begin{array}{r} 176 \\ + 235 \\ \hline 411 \end{array}$$

$$68+41=109$$



$$\begin{array}{r} .68 \\ + 41 \\ \hline = 109 \end{array}$$

الوضعية 2: اكتب الأعداد التالية في الجدول

مائتان و سبعة		
م	ع	و
2	0	7

مائة و ثلاثة و ستون		
م	ع	و
1	6	3

الوضعية 3: أسمى المضلعات التالية و أحدد الزوايا القائمة باللون الأحمر.



الوضعية 4: اكمل الجدول التالي

ضعفه	العدد	نصفه
60	30	15
176	88	44
200	100	50
92	46	23

الوضعية 5: أحيط المبلغ اللازم لشراء اللعبة التالية

373 دينار



المشكلة :

اشترت صاحبة مكتبة 130 كتابا للرياضيات ، و 75 قصة ، و 64 قاموسا .
- كم كتابا اشترت صاحبة المكتبة ؟

الأجوبة

$$64 + 75 + 130 = 269$$

..اشترت صاحبة المكتبة : 269 كتابا .

الحل

العمليات

130

+ 75

64

269