



الجمهورية الجزائرية الديمقراطية الشعبية

الديوان الوطني للامتحانات والمسابقات
دورة: 2018



وزارة التربية الوطنية
امتحان بكالوريا التعليم الثانوي
الشعبة: تقني رياضي

المدة: 04 سا و 30 د

اختبار في مادة: التكنولوجيا (هندسة كهربائية)

على المترشح أن يختار أحد الموضوعين الآتيين:

الموضوع الأول

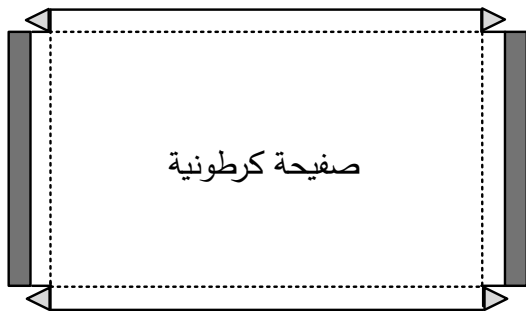
نظام آلي لتشكيل أغذية علب

يحتوي هذا الموضوع على 10 صفحات:

- العرض: من الصفحة 20/1 إلى الصفحة 20/7
- العمل المطلوب: الصفحة 20/8.
- وثائق الإجابة: من الصفحة 20/9 إلى الصفحة 20/10.

دفتر الشروط

- 1- هدف التآلية: يهدف النظام إلى تشكيل أغذية العلب المستعملة في مصانع الملابس بكمية كبيرة وفي وقت قصير.
- 2- وصف الكيفية: عند بدء التشغيل تُمسك صفيحة كرتونية (الشكل 1) ثم تُحوّل إلى مركز الطي. بعدها يتم تشكيل الجوانب الأربعة و طَيّ الجزء المزود بالمادة اللاصقة بزاوية 180° على مرحلتين (90° بالرافعات E و $90^\circ + E'$ بالرافعات F و F') لتتم عملية اللصق، ثم يتم إخلاء الغطاء المشكّل.



صفيحة كرتونية

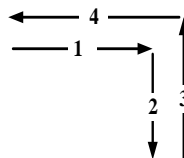
الجزء المزود بالمادة اللاصقة.

----- : حدود الطي المُشكّلة مُسبقا.

الشكل 1

توضيحات حول عملية التحويل: تتم عملية تحويل الصفائح الكرتونية من مركز التخزين إلى مركز التشكيل والطّي

بواسطة الرافعتين A و B وفق الدورة التالية:



الضغط على b_1 يؤدي إلى تحرير الصفيحة من الساحة الهوائية V (Ventouse) عن طريق dV^- للموزع .



3-الأمن: حسب القوانين المعمول بها.

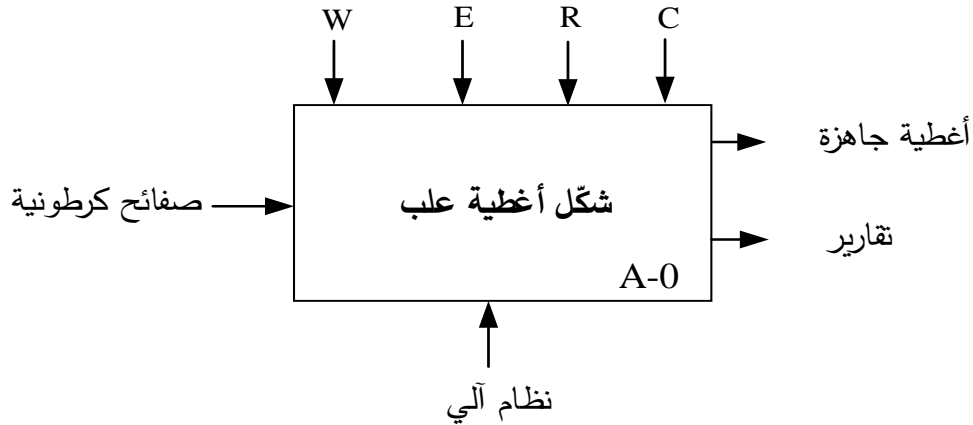
4-الاستغلال: يتطلب تشغيل النظام عاملين:

- عامل مختص: للتشغيل والصيانة والمراقبة.

- عامل غير مختص: لتزويد النظام بالصفائح والتنظيف.

5- التحليل الوظيفي:

الوظيفة الشاملة: النشاط البياني A-0



W : طاقة كهربائية + طاقة هوائية.

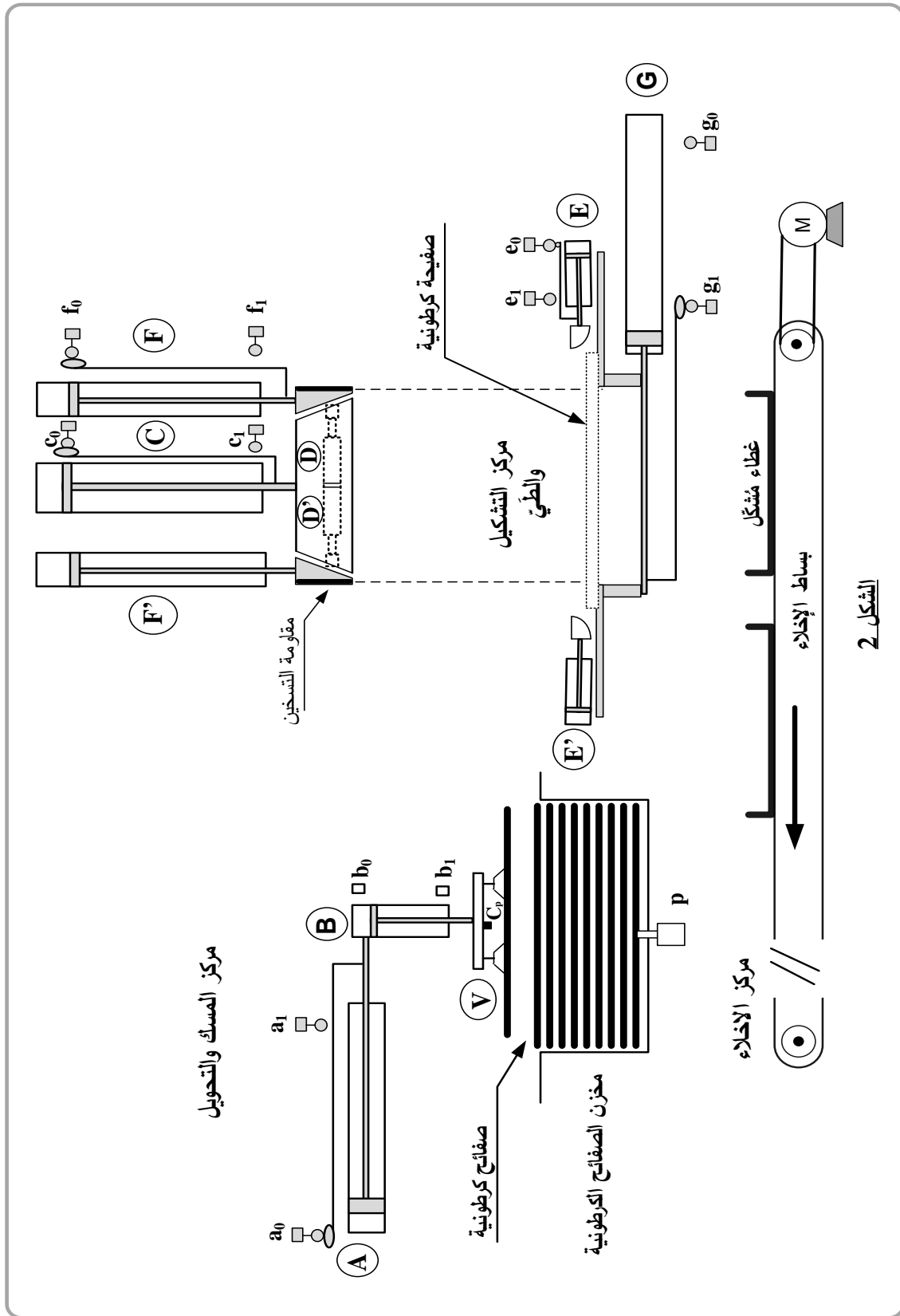
E : تعليمات الاستغلال.

R : الضبط.

C : الإعدادات.

التحليل الوظيفي التنازلي: ينقسم النظام إلى 4 أشغولات:

- الأشغولة 1: المَسك (مَسك الصفيحة الكرتونية).
- الأشغولة 2: التحويل (تحويل الصفيحة إلى مركز التشكيل والطّي).
- الأشغولة 3: التشكيل والطّي (تشكيل وطّي جوانب الصفيحة للصق).
- الأشغولة 4: الإخلاء (إخلاء الغطاء المُشكّل).



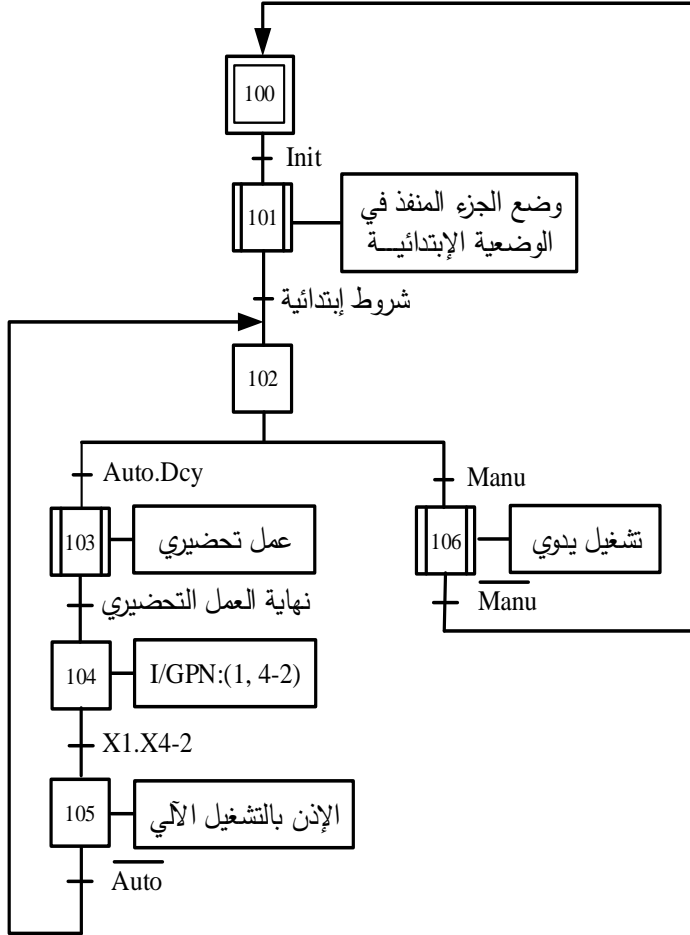


7- الاختيارات التكنولوجية

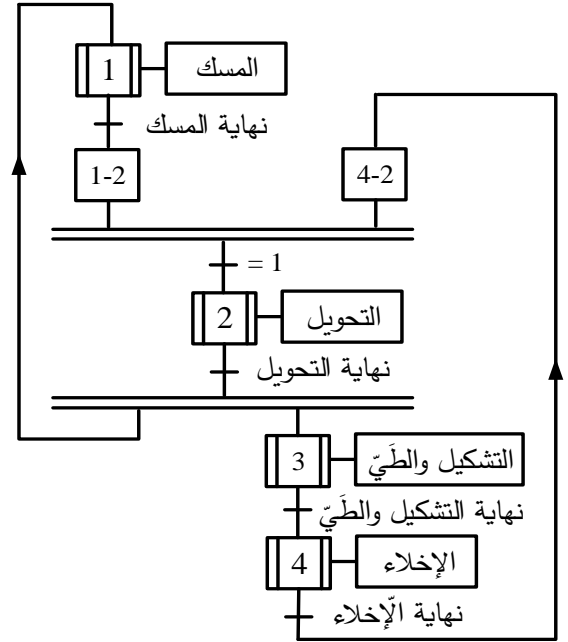
الأشغولة	المنفذات	المنفذات المتصدرة	الملتقطات
المسك	B: رافعة مزدوجة المفعول. V: ساحة هوائية (Ventouse).	dB^+ , dB^- : موزع 5/2 ثنائي الاستقرار كهروهوائي ~24V. dV^+ , dV^- : موزع 5/2 ثنائي الاستقرار كهروهوائي ~24V.	b_1 , b_0 : ملتقطات نهاية شوط. Cp: كاشف جوار سعوي.
التحويل	A: رافعة مزدوجة المفعول. B: رافعة مزدوجة المفعول. V: ساحة هوائية (Ventouse).	dA^+ , dA^- : موزع 5/2 ثنائي الاستقرار كهروهوائي ~24V. dB^+ , dB^- : موزع 5/2 ثنائي الاستقرار كهروهوائي ~24V. dV^+ , dV^- : موزع 5/2 ثنائي الاستقرار كهروهوائي ~24V.	a_1 , a_0 : ملتقطات نهاية شوط. b_1 , b_0 : ملتقطات نهاية شوط.
التشكيل والطّي	C: رافعة مزدوجة المفعول لنزول وصعود أداة تشكيل الجوانب. D و D': رافعات بسيطة المفعول لتثبيت الجوانب عموديا. E و E': رافعات مزدوجة المفعول لطّي الجوانب بـ 90° . F و F': رافعات مزدوجة المفعول لطّي الجوانب بـ 180° . $2 \times R_{ch}$: مقاومات التسخين لتفعيل مادة اللصق.	dC^+ , dC^- : موزع 5/2 ثنائي الاستقرار كهروهوائي ~24V. dD: موزع 3/2 أحادي الاستقرار كهروهوائي ~24V. dE^+ , dE^- : موزع 5/2 ثنائي الاستقرار كهروهوائي ~24V. dF^+ , dF^- : موزع 5/2 ثنائي الاستقرار كهروهوائي ~24V. KR: ملاس كهرومغناطيسي ~24 V في $2 \times R_{ch}$.	c_1 , c_0 : ملتقطات نهاية شوط. d_1 : ملتقط نهاية شوط. e_1 , e_0 : ملتقطات نهاية شوط. f_1 , f_0 : ملتقطات نهاية شوط. $t_1 = 2s$: زمن اللصق.
الإخلاء	G: رافعة مزدوجة المفعول. M: محرك لاتزامني ~3 لتدوير بساط الإخلاء.	dG^+ , dG^- : موزع 5/2 ثنائي الاستقرار كهروهوائي ~24V. KM: ملاس كهرومغناطيسي ~24 V.	g_1 , g_0 : ملتقطات نهاية شوط. $t_2 = 18s$: زمن دوران البساط.
<p>AU: زر التوقف الاستعجالي ، RT: مرحل حراري لحماية المحرك M ، Rea: زر إعادة التسليح Auto / Manu: مبدلة اختيار نمط التشغيل يدوي أو آلي ، Init: زر لوضع الجزء المنفذ في الوضعية الابتدائية p: ملتقط يكشف عن نفاذ الصفائح الكرتونية من الخزان ، Dcy: زر بداية الدورة.</p>			
شبكة التغذية: 220/380V ; 50Hz			



متن القيادة و التهيئة: (GCI)

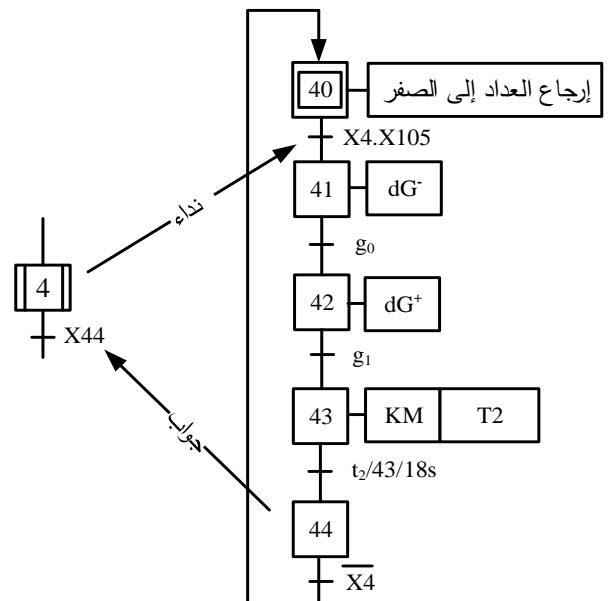
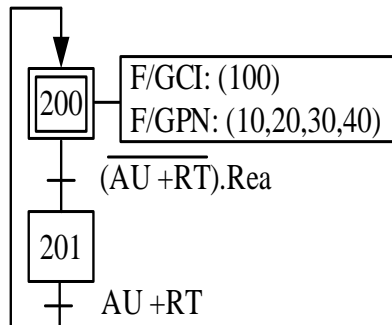


متن تنسيق الأشغولات: (GCT)



متن الأشغولة 4: (الإخلاء)

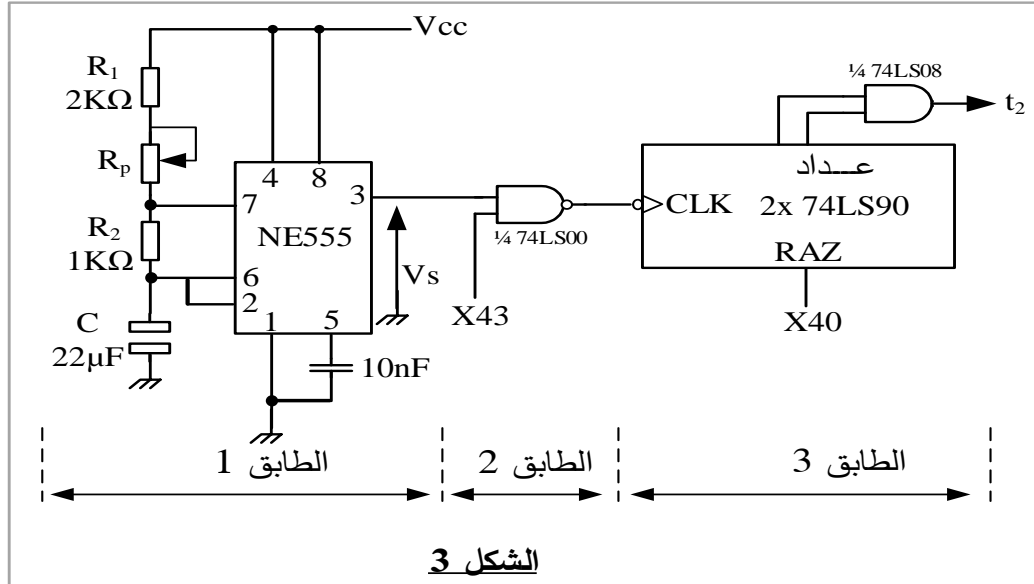
متن الأمن: (GS)





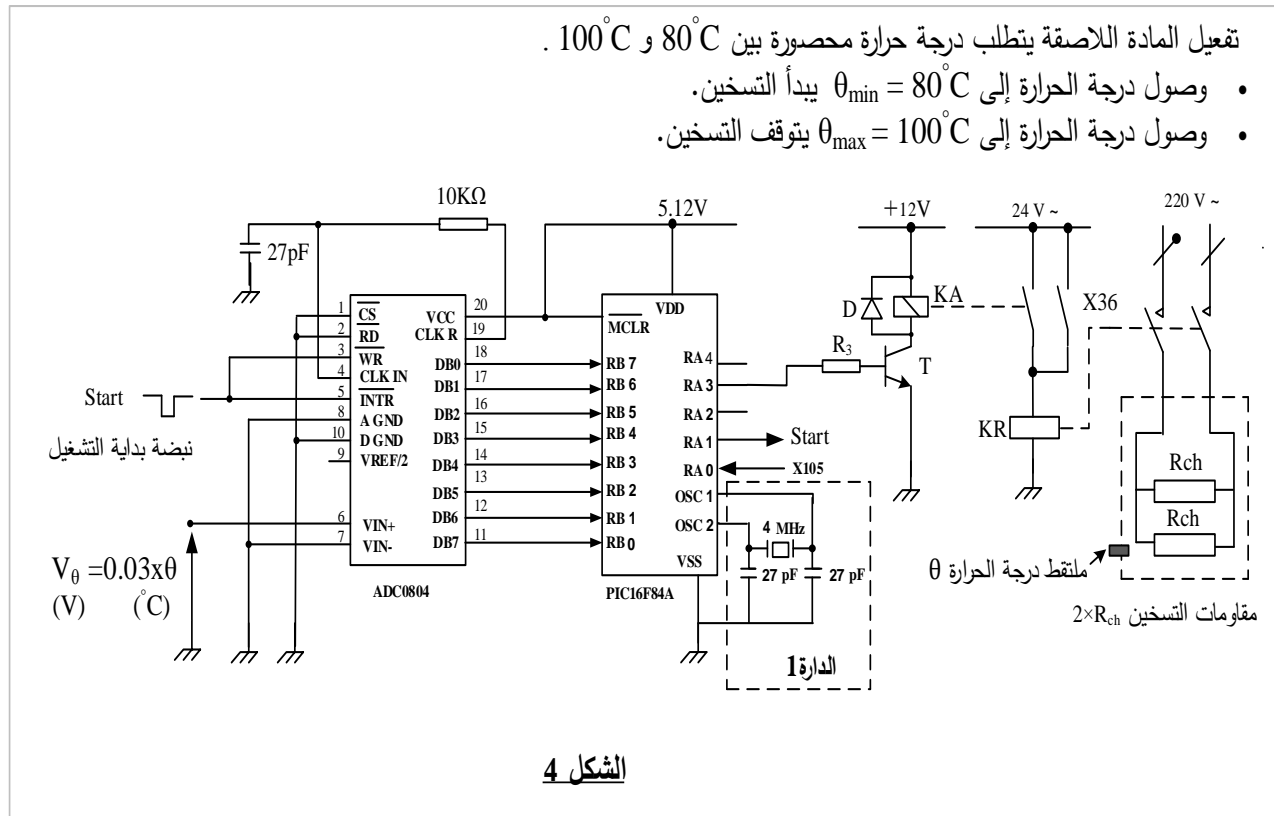
9- الإنجازات التكنولوجية

دائرة المؤجلة T2: للحصول على تأجيل قدره $t_2 = 18s$ استعملنا مؤجلة ذات عداد تصاعدي كما يبينه الشكل التالي:



الشكل 3

دائرة مراقبة درجة حرارة التسخين: لمراقبة درجة حرارة تفعيل المادة اللاصقة استعملنا البنية المبرمجة التالية :



الشكل 4




10- ملحق

وثيقة 1: مستخرج من وثائق الصانع للدائرة المندمجة 74LS90:

FAIRCHILD SEMICONDUCTOR™					DM7490A Decade and Binary Counters			
BCD Count Sequence (Note 1)					Reset/Count Function Table			
Count	Outputs				Reset Inputs			
	Q _D	Q _C	Q _B	Q _A	R0(1)	R0(2)	R9(1)	R9(2)
0	L	L	L	L	H	H	L	X
1	L	L	L	H	H	H	X	L
2	L	L	H	L	X	X	H	H
3	L	L	H	H	X	L	X	L
4	L	H	L	L	L	X	L	X
5	L	H	L	H	L	X	X	L
6	L	H	H	L	X	L	L	X
7	L	H	H	H				
8	H	L	L	L				
9	H	L	L	H				

Note 1: Output QA is connected to input B for BCD count.

وثيقة 2: مستخرج من وثائق الصانع للميكرومراقب 16F84A:



MICROCHIP

PIC16F84A

SPECIAL FUNCTION REGISTER FILE SUMMARY

Addr	Name	Bit 7	Bit 6	Bit 5	Bit 4	Bit 3	Bit 2	Bit 1	Bit 0	Value on Power-on RESET	Details on page
Bank 0											
05h	PORTA ⁽⁴⁾	—	—	—	RA4/T0CKI	RA3	RA2	RA1	RA0	---X XXXX	16
06h	PORTB ⁽⁴⁾	RB7	RB6	RB5	RB4	RB3	RB2	RB1	RB0/INT	XXXX XXXX	18
Bank 1											
85h	TRISA	—	—	—	PORTA Data Direction Register					---1 1111	16
86h	TRISB	PORTB Data Direction Register								1111 1111	18

PORTA and TRISA Registers

PORTA is a 5-bit wide, bi-directional port. The corresponding data direction register is TRISA. Setting a TRISA bit (= 1) will make the corresponding PORTA pin an input (i.e., put the corresponding output driver in a Hi-Impedance mode). Clearing a TRISA bit (= 0) will make the corresponding PORTA pin an output (i.e., put the contents of the output latch on the selected pin).

PORTB and TRISB Registers

PORTB is an 8-bit wide, bi-directional port. The corresponding data direction register is TRISB. Setting a TRISB bit (= 1) will make the corresponding PORTB pin an input (i.e., put the corresponding output driver in a Hi-Impedance mode). Clearing a TRISB bit (= 0) will make the corresponding PORTB pin an output (i.e., put the contents of the output latch on the selected pin).

وثيقة 3: مستخرج من وثائق الصانع للمحركات اللائزمانية ثلاثية الطور:



IP 55 - 50 Hz - Classe F - 230 V Δ / 400 V Y - S1

Type	Puissance nominale à 50 Hz	Vitesse nominale	Couple nominal	Intensité nominale	Facteur de puissance	Rendement	Courant démarrage / Courant nominal	IM B3
	P _N kW	N _N min ⁻¹	C _N N.m	I _N (400V) A	cos φ	η %	I _D / I _N	kg
LS 56 L	0.09	1400	0.6	0.39	0.6	55	3.2	4
LS 63 M	0.12	1380	0.8	0.44	0.7	56	3.2	4.8
LS 63 M ²	0.12	1375	0.8	0.44	0.77	56	3	4.8
LS 63 M	0.18	1390	1.2	0.64	0.65	62	3.7	5
LS 63 M ²	0.18	1410	1.2	0.62	0.75	63	3.7	5
LS 63 M	0.25	1390	1.6	0.85	0.65	65	4	5.1
LS 63 M ²	0.25	1390	1.6	0.85	0.65	65	4	5.1
LS 71 L	0.25	1425	1.7	0.8	0.65	69	4.6	6.4
LS 71 L	0.37	1420	2.5	1.06	0.7	72	4.9	7.3
LS 71 L	0.55	1400	3.8	1.62	0.7	70	4.8	8.3
LS 80 L	0.55	1400	3.8	1.6	0.74	67	4.4	8.2
LS 80 L	0.75	1400	5.1	2.01	0.77	70	4.5	9.3
LS 80 L	0.9	1425	6	2.44	0.73	73	5.8	10.9

(extrait catalogue LEROY SOMER)



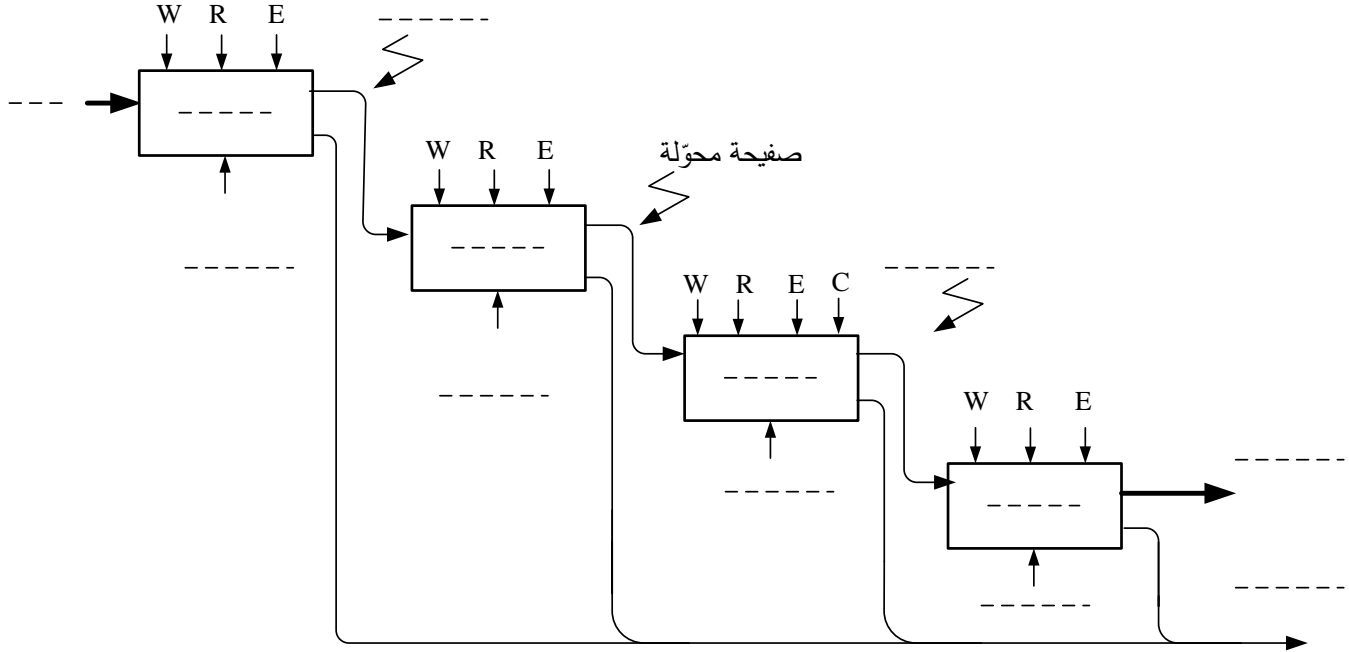
العمل المطلوب

- س1: أكمل التحليل الوظيفي التتازلي (النشاط البياني A0) على وثيقة الإجابة 1 (الصفحة 20/9).
- س2: أنشئ متمعن من وجهة نظر جزء التحكم للأشغولة 2 (التحويل).
- س3: أكتب على شكل جدول معادلات التنشيط و التخميل والأفعال لمراحل متمعن الأشغولة 4 (الإخلاء).
- س4: أكمل ربط المعقب الكهربائي ودارة المنفذات المتصدرة للأشغولة 4 على وثيقة الإجابة 1 (الصفحة 20/9).
- دارة المؤجلة T2: شكل 3 (الصفحة 20/6).
- س5: حدد دور كل من الإشارتين X40, X43.
- س6: حدد البنى (الهيكل) المادية التي تُنشئ الوظائف التالية: الإذن بالتأجيل ، توليد إشارة الساعة ، التأجيل.
- س7: أحسب دور إشارة التوقيتية من أجل $R_P = 16 K\Omega$.
- س8: أحسب النسبة الدورية (σ) الموافقة.
- مستعينا بالوثيقة 1 (الصفحة 20/7):
- س9: استنتج الحالة المنطقية لمخارج العداد $Q_D Q_C Q_B Q_A$ من أجل الحالتين المنطقيتين:
- $R_0(1) \cdot R_0(2) = 1$ و $R_9(1) = 0$ * $R_0(1) \cdot R_0(2) \cdot R_9(1) \cdot R_9(2) = 1$ *
- س10: أكمل رسم المخطط المنطقي للعداد ($N = 60$) على وثيقة الإجابة 2 (الصفحة 20/10).
- دارة مراقبة درجة حرارة التسخين: شكل 4 (الصفحة 20/6).
- س11: حدّد وظيفة الدارة 1.
- مستعينا بالوثيقة 2 (الصفحة 20/7):
- س12: أملء على وثيقة الإجابة 2 (الصفحة 20/10) محتوى السجلين TRISA و TRISB.
- س13: أكمل جدول التشغيل على وثيقة الإجابة 2 (الصفحة 20/10).
- س14: أحسب $V_{\theta_{max}}$ و $V_{\theta_{min}}$ الموافقين لـ θ_{max} و θ_{min} .
- المحرك M: بسبب خلل في المحرك استلزم استبداله، من أجل ذلك تم أخذ الخصائص الكهربائية من لوحته الإشارية: 220V/ 380V , $\eta = 70\%$, 0.55KW.
- باستعمال الوثيقة 3 (الصفحة 20/7):
- س15: عيّن نوع المحرك المناسب.
- س16: استخرج المقادير الإسمية: سرعة الدوران، معامل الاستطاعة، النسبة بين التيار الممتص و تيار الإقلاع.
- س17: أحسب في التشغيل الإسمي الاستطاعة الممتصة و تيار الإقلاع.

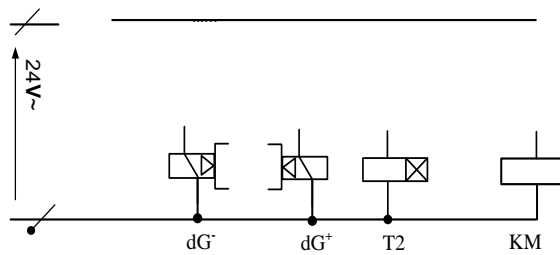
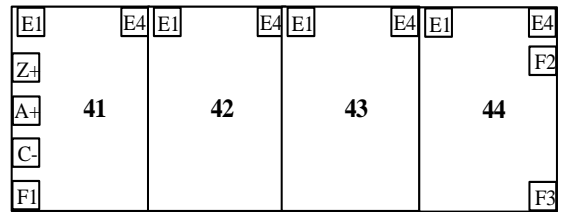
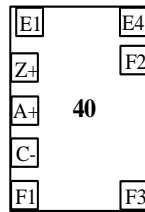
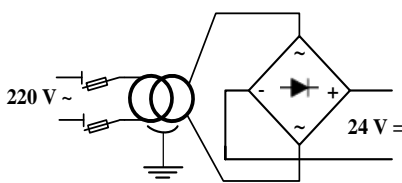


وثيقة الإجابة 1

ج1: النشاط البياني A0:



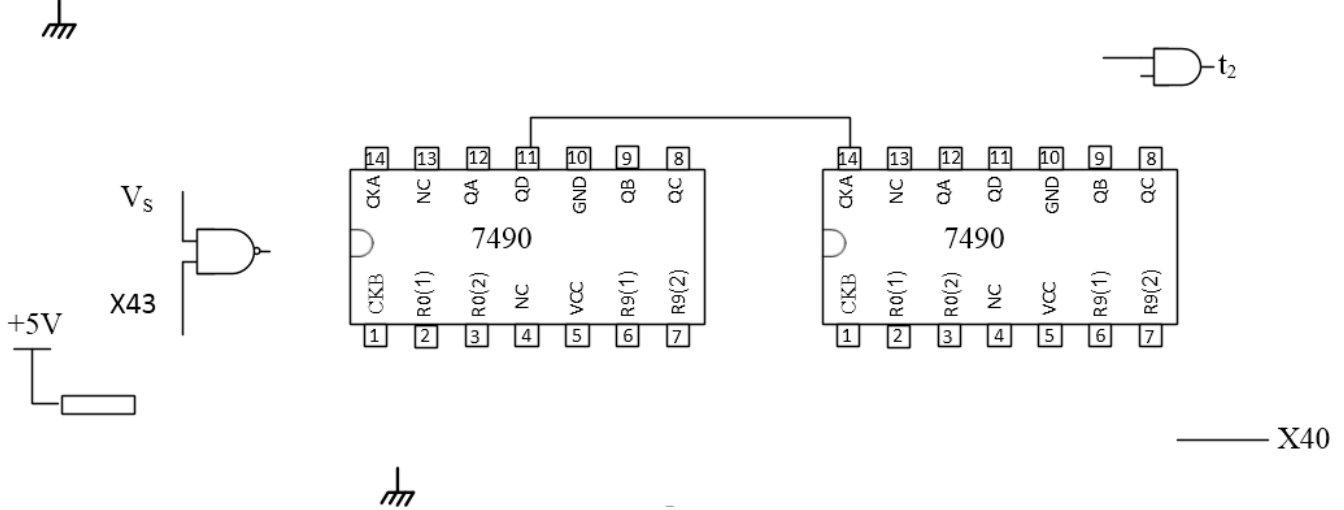
ج4: المعقب الكهربائي للأشغولة 4:





وثيقة الإجابة 2

ج10: المخطط المنطقي لدارة العداد:



ج12: ملء السجلين TRISA و TRISB:

السجل	المحتوى							
TRISA	-	-	-	1		1		
TRISB								

ج13: جدول التشغيل:

الحالات					درجة الحرارة
مقاومات التسخين $2 \times R_{ch}$ (مغذاة/غير مغذاة)	KR (محرّض/غير محرّض)	KA (محرّض/غير محرّض)	حالة المقفل T	المنفذ RA3 (الحالة المنطقية)	
					θ_{min}
					θ_{max}

انتهى الموضوع الأول



الموضوع الثاني

الموضوع : نظام آلي لتجميع ومعالجة قطع معدنية

يحتوي هذا الموضوع على 10 صفحات:

- العرض: من الصفحة 20/11 إلى الصفحة 20/17.
- العمل المطلوب: الصفحة 20/18.
- وثائق الإجابة: من الصفحة 20/19 إلى الصفحة 20/20.

دفتر الشروط

1. هدف التألية: يهدف هذا النظام لتجميع ومعالجة قطع معدنية في أدنى وقت ممكن و بصفة مستمرة.
2. وصف الكيفية: تأتي القطع تباعا بواسطة البساط 1 لتشكيل صف من خمسة (5) قطع، وتحول إلى مكان التجميع على شكل مصفوفة مكونة من خمسة (5) صفوف، ثم تُرفع وتحول للمعالجة ويتم إخلاءها بعد ذلك عن طريق البساط 2.

توضيحات حول عملية المعالجة والإخلاء:

تبدأ المعالجة بخروج ساق الرافعة C ثم رَش مصفوفة القطع بالسائل لمدة زمنية $t_3=10s$ بواسطة المضخة المتحكم فيها بالمحرك M4 . بانتهاء عملية الرش يرجع ساق الرافعة C و يدخل ساق الرافعة D لإخلاء مصفوفة القطع المعالجة ، وتنتهي الدورة برجوع ساق الرافعة D.

ملاحظة : لا تنطلق عملية المعالجة عندما يصل مستوى السائل إلى حد أدنى يكشف عنه ملتقط المستوى cn.

3. الأمن : حسب القوانين المعمول بها.

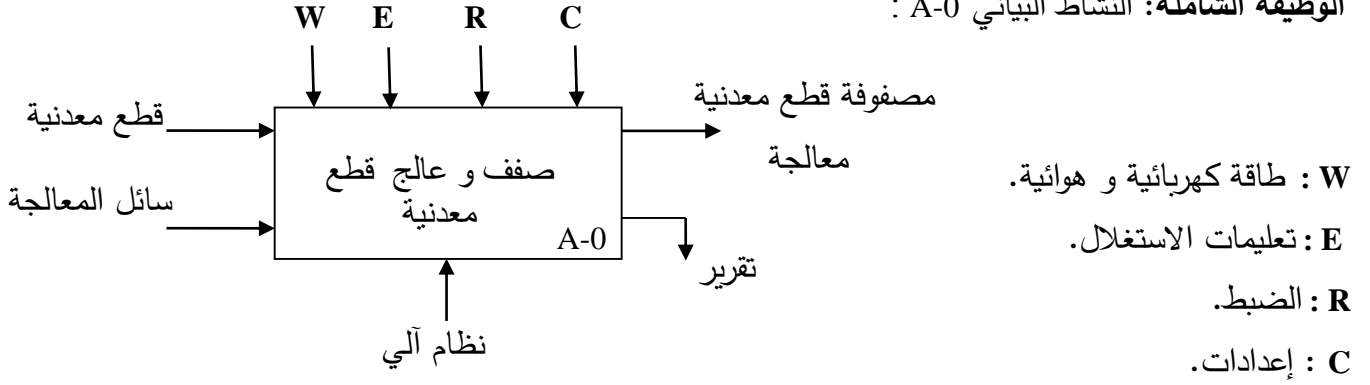
4. الاستغلال : يحتاج النظام لعاملين:

- عامل للتشغيل والتوقيف.
- عامل مختص للصيانة والمراقبة.



5. التحليل الوظيفي:

الوظيفة الشاملة: النشاط البياني A-0 :

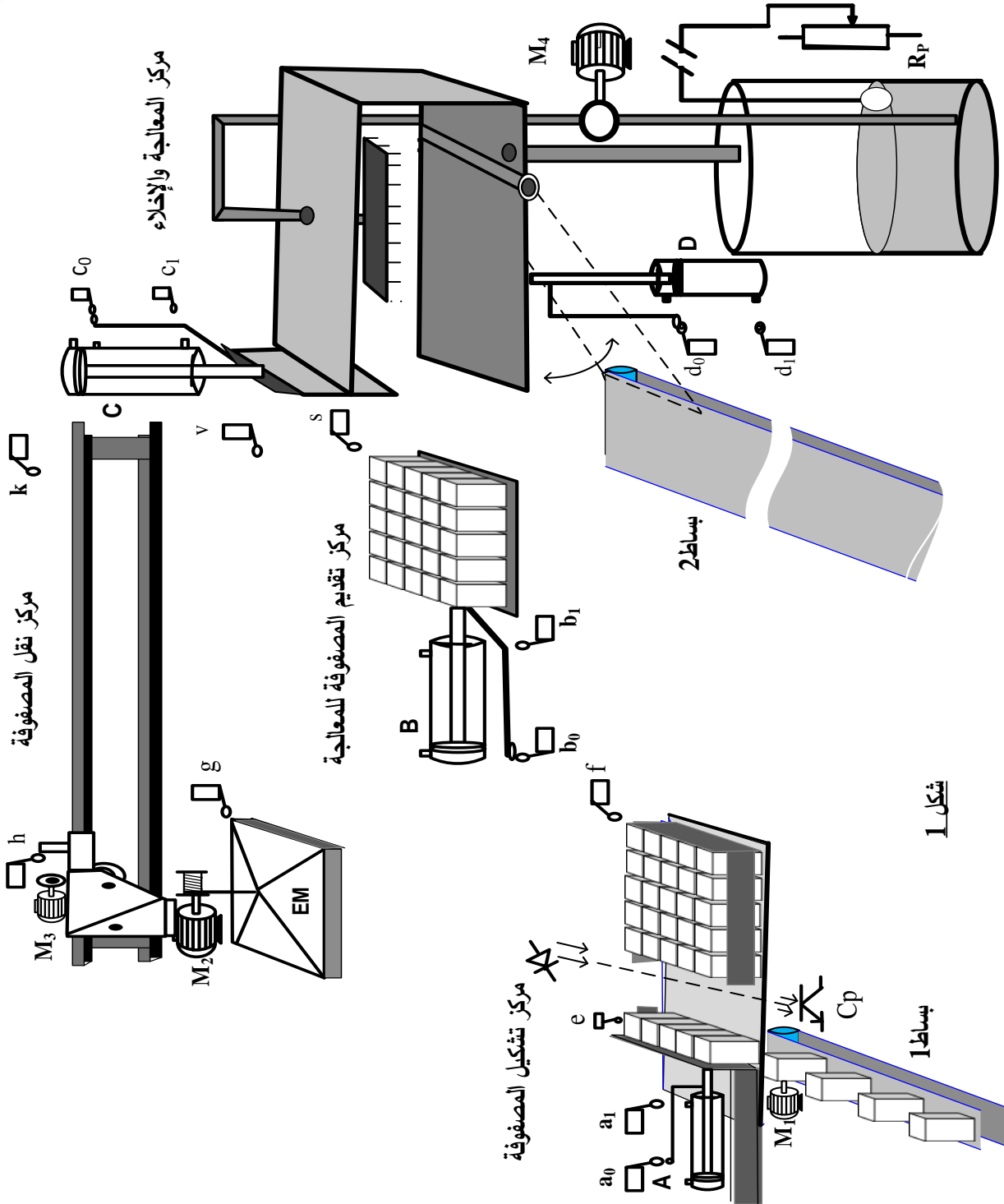


التحليل الوظيفي التنازلي: يجرأ النظام إلى 4 أشغولات.

- الأشغولة 1 : التشكيل (تشكيل المصفوفة).
- الأشغولة 2 : النقل (نقل المصفوفة).
- الأشغولة 3 : التقديم (تقديم المصفوفة للمعالجة).
- الأشغولة 4 : المعالجة و الإخلاء (معالجة المصفوفة وإخلائها).



6. المناولة الهيكلية





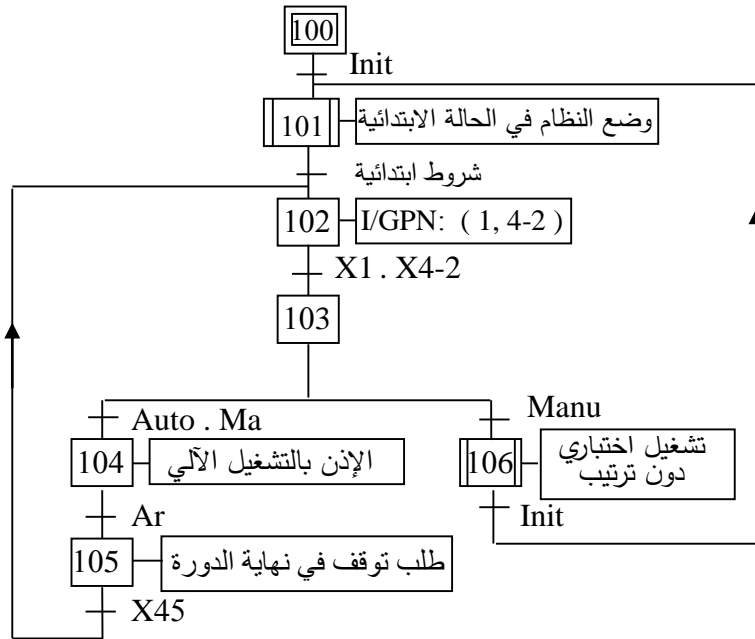
7. الاختيارات التكنولوجية

الأشغولة	المنفذات	المنفذات المتصدرة	الملتقطات
التشكيل	M1 : محرك لا تزامني 3~ اتجاه واحد للدوران. 220/380V , Cosφ = 0.8 n=1440 tr/min , I=7A A : رافعة مزدوجة المفعول.	KM1 : ملامس كهرومغناطيسي ~ 24 V dA ⁻ , dA ⁺ : موزع 4/2 ثنائي الاستقرار كهروهوائي ~ 24 V.	a0 , a1 : نهاية شوط . e : ملتقط يكشف عن تشكيل صف. Cp : خلية كهروضوئية للكشف عن مرور صف .
النقل	M2 : محرك لا تزامني 3~ 220/380V , اتجاهين للدوران. M3 : محرك لا تزامني 3~ 220/380V , اتجاهين للدوران. EM : كهرومغناطيس أحادي الاستقرار ~220V.	KM21 , KM22 : ملامسات ~ 24 V للتحكم في M2. KM31 , KM32 : ملامسات ~ 24 V للتحكم في M3. KEM : ملامس الكهرومغناطيس ~ 24 V T1,T2 : مؤجلات.	f,g : نهاية شوط ل (EM) من جهة اليسار. h,k : نهاية شوط يكشفان عن موضع جملة النقل. v,s : نهاية شوط ل (EM) من جهة اليمين. t1=5s : زمن تثبيت المصفوفة بالكهرومغناطيس. t2=5s : زمن تحرير المصفوفة عن الكهرومغناطيس.
التقديم	B : رافعة مزدوجة المفعول.	dB ⁻ , dB ⁺ : موزع 4/2 ثنائي الاستقرار كهروهوائي ~ 24 V.	b0 , b1 : نهاية شوط .
المعالجة والاخلاء	M4 : محرك لا تزامني 3~ اتجاه واحد للدوران. D : رافعة مزدوجة المفعول. C : رافعة مزدوجة المفعول. T3 : مؤجلة	KM4 : ملامس ~ 24 V للتحكم في M4. dD ⁻ , dD ⁺ : موزع 4/2 ثنائي الاستقرار كهروهوائي ~ 24 V. dC ⁻ , dC ⁺ : موزع 4/2 ثنائي الاستقرار كهروهوائي ~ 24 V.	d0 , d1 : نهاية شوط. t3=10s : زمن المعالجة . c0 , c1 : نهاية شوط.
Ma/Ar : مبدلة التشغيل و التوقف ، AU : زر التوقف الاستعجالي ، Rea : زر إعادة التسليح ، Init : زر التهيئة RT1 ... RT4 : مرحلات حرارية لحماية المحركات ، Auto/Manu : مبدلة الاشتغال آلي أو تشغيل اختباري دون ترتيب cn : ملتقط يكشف عن مستوى السائل في الخزان.			
شبكة التغذية : 220V/380V ; 50 Hz			

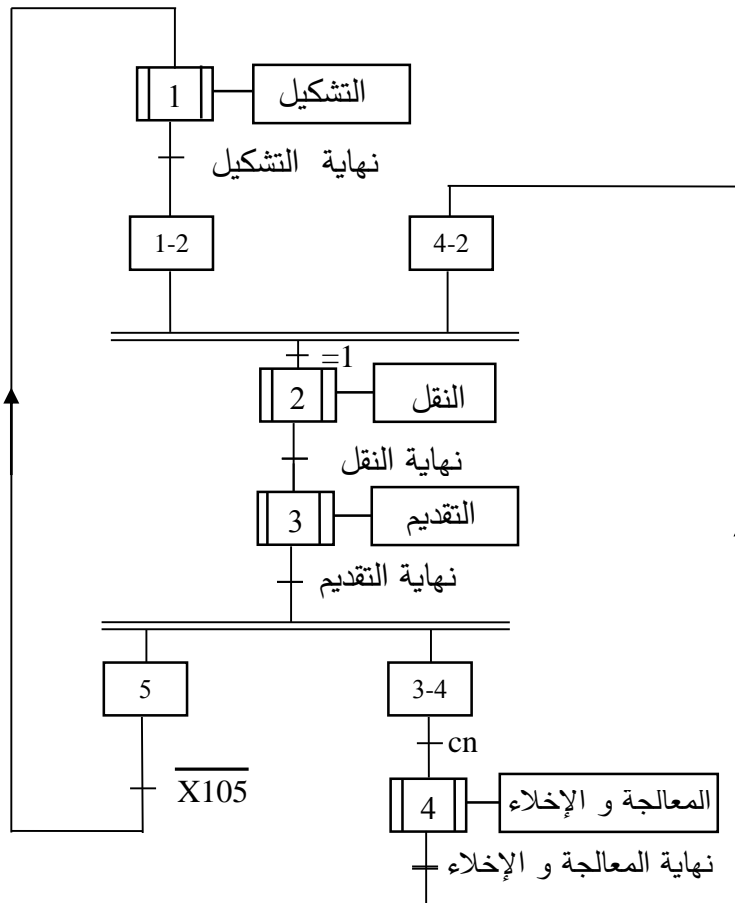


8. المناولة الزمنية:

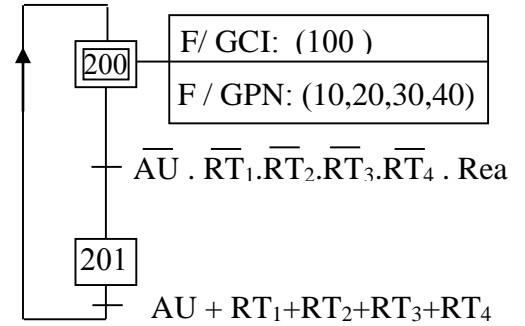
متن القيادة والتهيئة: (G C I)



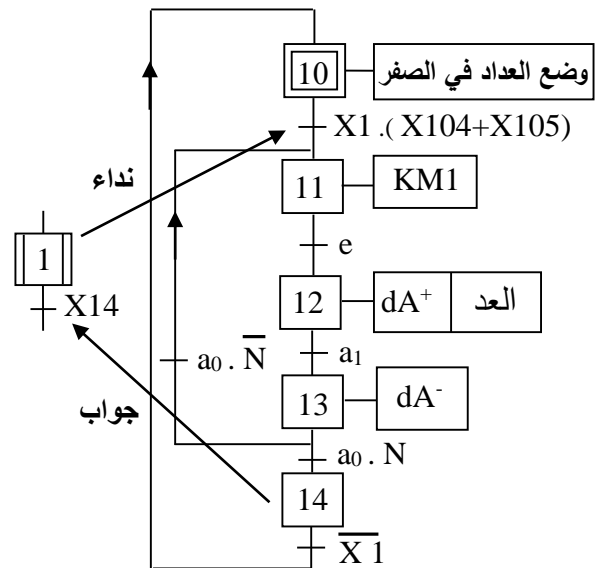
متن تنسيق الأشغولات: (GPN)



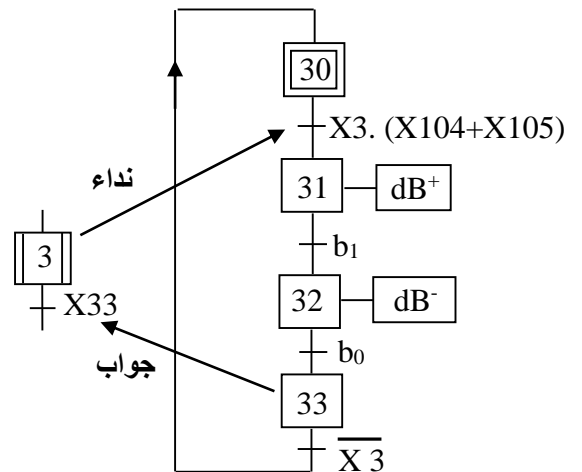
متن الأمن: (G S)

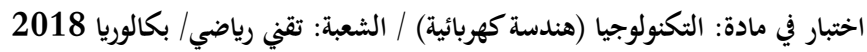


متن الأشغولة 1: (التشكيل)




متن الأشغولة 3: (التقديم)






- لتكوين مصفوفة استُعملت خلية كهروضوئية (Cp) وعداد بدارة مندمجة 74LS90 وفق التركيب الالكتروني التالي:



- ## شکل 4



- ## شكل 5



10 - ملحق

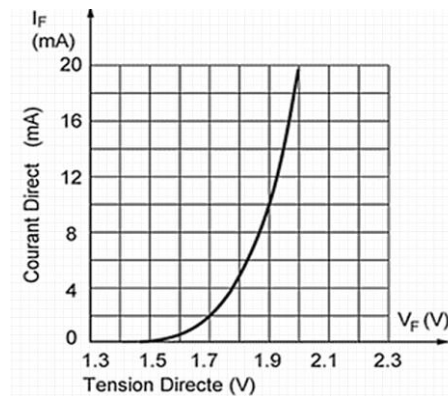
وثيقة 1: الدارة المندمجة SN74LS90

Function Tables				
LS90 BCD Count Sequence (See Note A)				
Count	Output			
	Q _D	Q _C	Q _B	Q _A
0	L	L	L	L
1	L	L	L	H
2	L	L	H	L
3	L	L	H	H
4	L	H	L	L
5	L	H	L	H
6	L	H	H	L
7	L	H	H	H
8	H	L	L	L
9	H	L	L	H

Note A: Output Q_A is connected to input B for BCD count.
 Note B: Output Q_D is connected to input A for bi-quinary count.
 Note C: Output Q_A is connected to input B.
 Note D: H = High Level, L = Low Level, X = Don't Care.

LS90 Reset/Count Truth Table				
Reset Inputs				Output
R0(1)	R0(2)	R9(1)	R9(2)	Q _D Q _C Q _B Q _A
H	H	L	X	L L L L
H	H	X	L	L L L L
X	X	H	H	H L L H
X	L	X	L	COUNT
L	X	L	X	COUNT
L	X	X	L	COUNT
X	L	L	X	COUNT

وثيقة 2: خاصية الثنائي الضوئي CQY24



وثيقة 3: الدارة المندمجة PIC 16F84A

MICROCHIP

PIC16F84A

Pin Diagrams

Mnemonic, Operands	Description
BYTE-ORIENTED FILE REGISTER OPERATIONS	
CLRF f	Clear f
MOVWF f	Move W to f
BIT-ORIENTED FILE REGISTER OPERATIONS	
BCF f, b	Bit Clear f
BSF f, b	Bit Set f
BTFSC f, b	Bit Test f, Skip if Clear
BTFSS f, b	Bit Test f, Skip if Set
LITERAL AND CONTROL OPERATIONS	
MOVLW k	Move literal to W
RETFIE -	Return from interrupt
RETLW k	Return with literal in W

PDIP, SOIC

The diagram shows the pin configuration for the PIC16F84A in PDIP and SOIC packages. The chip is oriented with pin 1 at the top-left. The pins are numbered 1 through 18. The functions for each pin are as follows:

- Pin 1: RA2
- Pin 2: RA3
- Pin 3: RA4/T0CKI
- Pin 4: MCLR
- Pin 5: V_{SS}
- Pin 6: RB0/INT
- Pin 7: RB1
- Pin 8: RB2
- Pin 9: RB3
- Pin 10: RB4
- Pin 11: RB5
- Pin 12: RB6
- Pin 13: RB7
- Pin 14: V_{DD}
- Pin 15: OSC2/CLKOUT
- Pin 16: OSC1/CLKIN
- Pin 17: RA0
- Pin 18: RA1



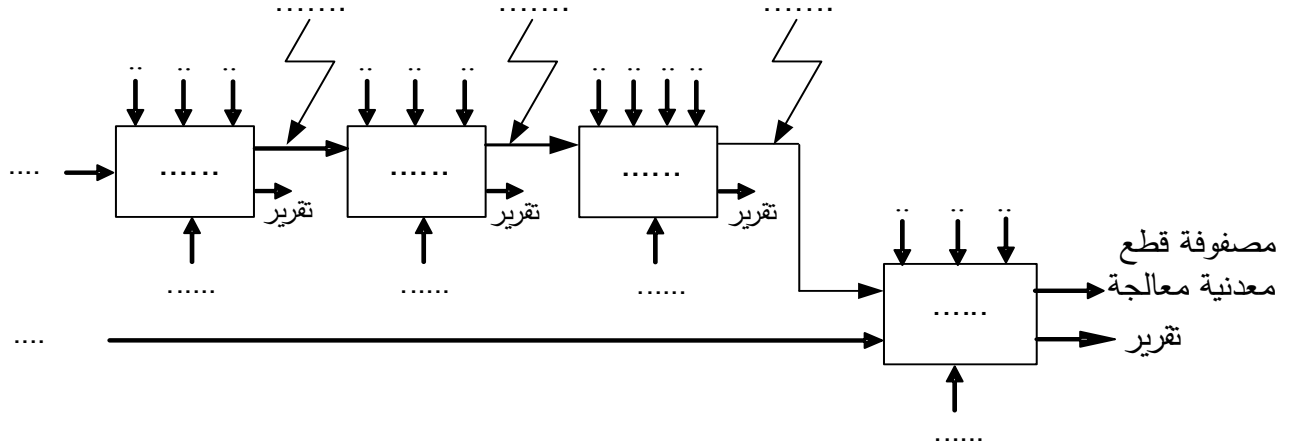
العمل المطلوب

- س 1: أكمل التحليل الوظيفي التنازلي (النشاط البياني A0) على وثيقة الإجابة 1 (الصفحة 20/19).
- س 2: أنشئ متمن الأشغولة 4 (المعالجة و الإخلاء) من وجهة نظر جزء التحكم وفق دفتر الشروط.
- س 3: أكتب على شكل جدول معادلات التنشيط و التخميل والأفعال لمراحل متمن الأشغولة 1 (التشكيل) .
- س 4: أكمل ربط المعقب الهوائي الموافق للأشغولة 1 (التشكيل) على وثيقة الإجابة 1 (الصفحة 20/19).
- دائرة عدّ الصفوف: شكل 2 (الصفحة 20/16).
- س 5: حدد دور المقاومة R_1 في التركيب.
- يتطلب اشتغال المقحل الكهروضوئي T1 تيار في الثنائي الضوئي CQY24 شدته ($I_F=20mA$)، مستعينا بالوثيقة 2 (الصفحة 20/17) .
- س 6: أحسب قيمة المقاومة R_X .
- س 7: أكمل ربط العداد على وثيقة الإجابة 2 (الصفحة 20/20).
- دائرة المؤجلة T_1 : شكل 3 (الصفحة 20/16).
- س 8: أحسب سعة المكثفة C .
- دائرة الكشف عن مستوى سائل المعالجة: شكل 4 (الصفحة 20/16) .
- س 9: اقترح حلا في التركيب لحماية المقحل T3 عند التبديل على وثيقة الإجابة 2 (الصفحة 20/20).
- س 10: أعط عبارة V^+ و عبارة V^- .
- دائرة التحكم في أشغولة تقديم المصفوفة باستعمال الميكرومراقب: شكل 5 (الصفحة 20/16).
- س 11: أكمل ملء السجلات TRISA و TRISB على وثيقة الإجابة 2 (الصفحة 20/20).
- س 12: أكمل كتابة برنامج تهيئة المداخل / المخارج على وثيقة الإجابة 2 (الصفحة 20/20).
- دراسة المحرك M1 : (المقاومة المقاسة بين طورين $r = 2\Omega$ ، $P_{fs} = 300W$) .
- س 13: أحسب الانزلاق.
- س 14: أحسب الضياع بمفعول جول في الساكن.
- س 15: أحسب الضياع بمفعول جول في الدوار.
- دراسة المحول لتغذية المنفذات المتصدرة:
- خصائص المحول: $U_1 = 220V$ ، $m_0 = 0,112$ ، الضياعات $P_f + P_j = 10W$.
- س 16: أحسب توتر الثانوي في الفراغ.
- س 17: أحسب توتر الثانوي إذا كان الهبوط في التوتر يساوي 0,64 V .
- س 18: أحسب مردود المحول علما أن المواصفات الكهربائية للحمولة: $I = 5A$ ، $\cos\phi = 0,94$.

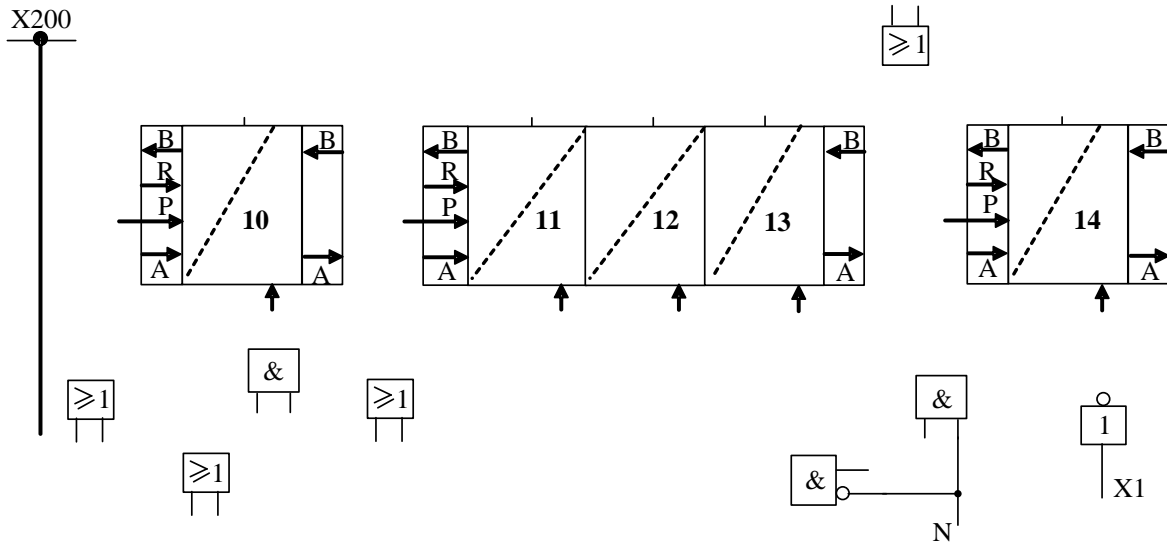


وثيقة الإجابة 1

ج 1: التحليل الوظيفي التنازلي (النشاط البياني A0)



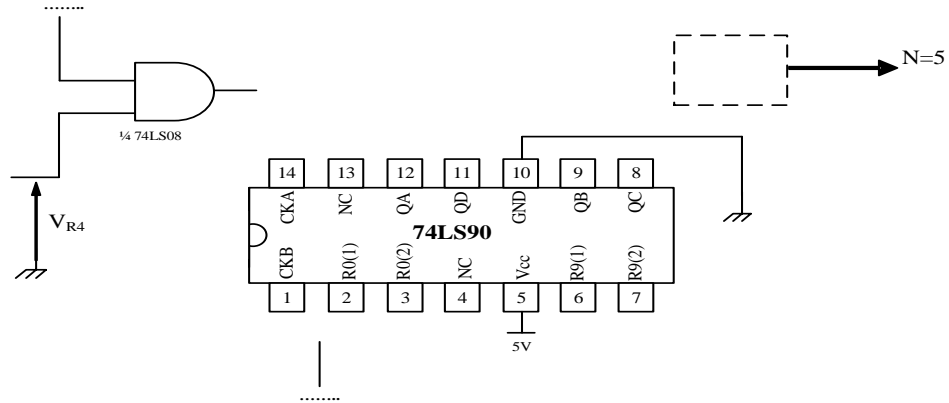
ج 4: ربط المعقب الهوائي الموافق للأشغولة 1 (التشكيل)



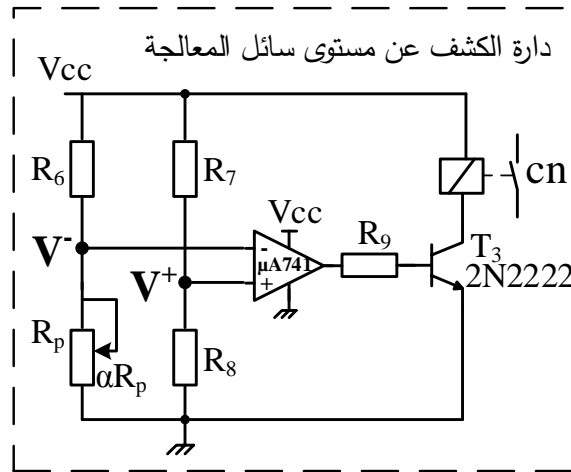


وثيقة الإجابة 2

ج7 : ربط العداد.



ج9 : اقتراح الحل في التركيب لحماية المقفل T3 عند التبديل.



ج11 : ملء السجلات TRISA و TRISB.

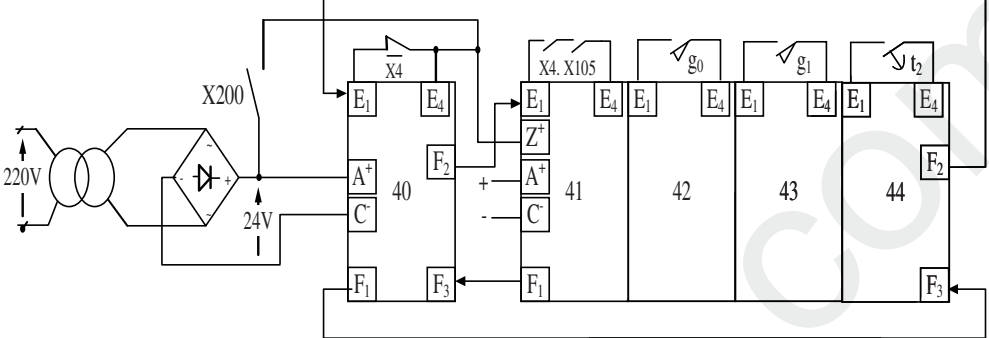
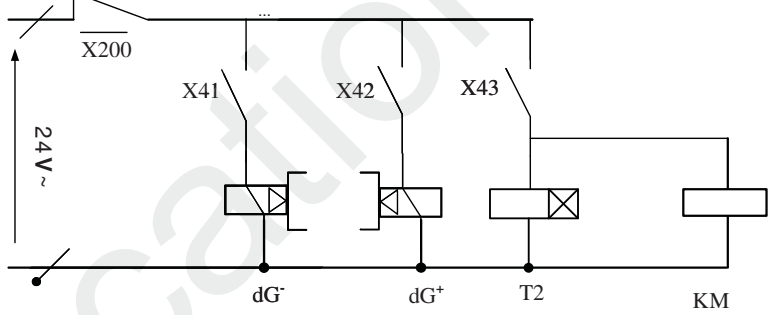
TRISA	-	-	-				
TRISB	0	0	0	0	0	0	

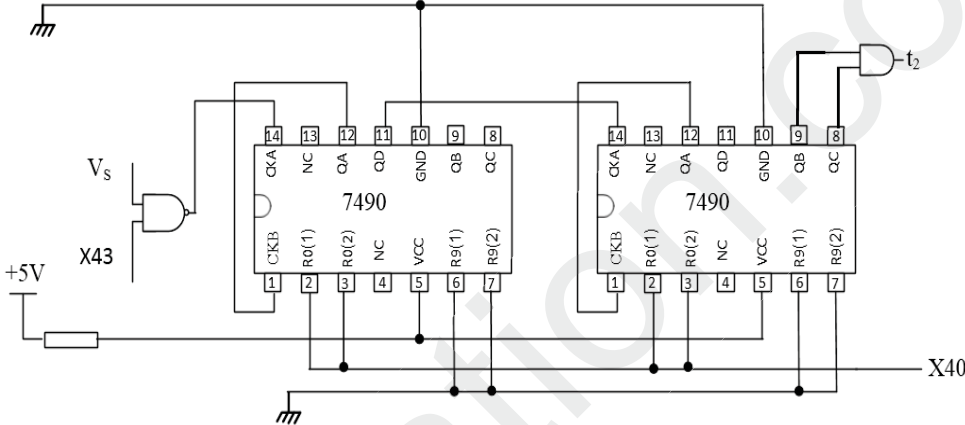
ج12 : كتابة برنامج تهيئة المداخل / المخرجات.

BSF	STATUS, RP0	;
.....	TRISB	;	أصح محتوى السجل TRISB
MOVLW	;	إشحن السجل W بالقيمة الثنائية (00011111)
MOVWF	;	إشحن محتوى السجل W في السجل TRISA
.....	STATUS, RP0	;	الرجوع إلى البنك 0

انتهى الموضوع الثاني

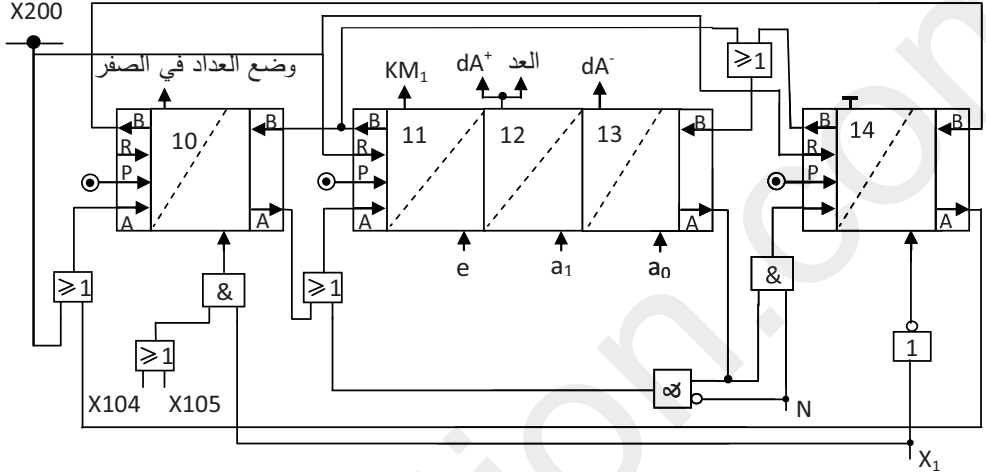
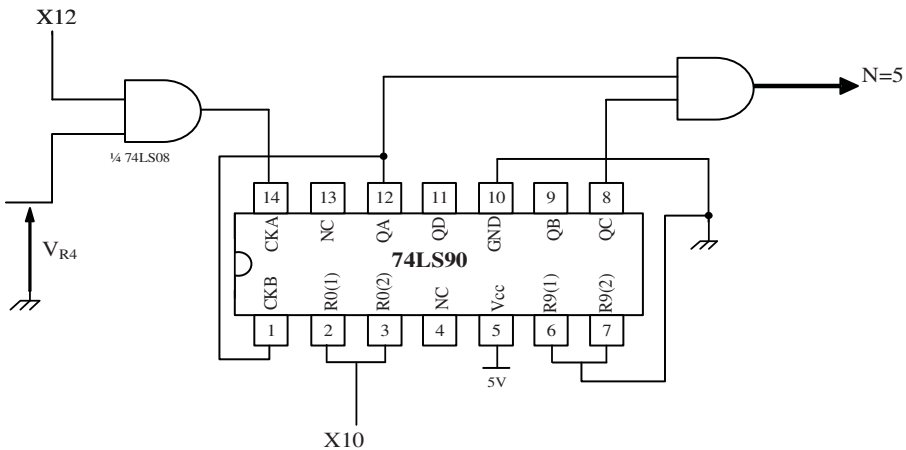
العلامة		عناصر الإجابة (الموضوع الأول)																								
مجموع	مجزأة																									
1	4x0.25	<p>ج1: التحليل الوظيفي التتازلي (النشاط البياني A0)</p> <p>ملاحظة: في حالة كتابة لكل أشغولة منفذاتها تعتبر الإجابة صحيحة.</p> <p>ج2: متمن من وجهة نظر جزء التحكم للأشغولة 2 (التحويل).</p> <p>ملاحظة: عند إضافة dV+ في المرحلتين 21 و 22 تعتبر الإجابة صحيحة.</p>																								
	1.75	7x0.25																								
	2.00	8x0.25	<p>ج3: معادلات التنشيط والتخميل والأفعال لمراحل متمن لأشغولة 4 (الإخلاء).</p> <table><tr><th>المراحل</th><th>التنشيط</th><th>التخميل</th><th>الأفعال</th></tr><tr><td>X40</td><td>$X44.\overline{X4} + X200$</td><td>X41</td><td>وضع العداد إلى الصفر</td></tr><tr><td>X41</td><td>$X40.X4.X105$</td><td>$X42 + X200$</td><td>dG^-</td></tr><tr><td>X42</td><td>$X41.g_0$</td><td>$X43 + X200$</td><td>dG^+</td></tr><tr><td>X43</td><td>$X42.g_1$</td><td>$X44 + X200$</td><td>KM , T2</td></tr><tr><td>X44</td><td>$X43.t_2$</td><td>$X40 + X200$</td><td>/</td></tr></table>	المراحل	التنشيط	التخميل	الأفعال	X40	$X44.\overline{X4} + X200$	X41	وضع العداد إلى الصفر	X41	$X40.X4.X105$	$X42 + X200$	dG^-	X42	$X41.g_0$	$X43 + X200$	dG^+	X43	$X42.g_1$	$X44 + X200$	KM , T2	X44	$X43.t_2$	$X40 + X200$
المراحل	التنشيط	التخميل	الأفعال																							
X40	$X44.\overline{X4} + X200$	X41	وضع العداد إلى الصفر																							
X41	$X40.X4.X105$	$X42 + X200$	dG^-																							
X42	$X41.g_0$	$X43 + X200$	dG^+																							
X43	$X42.g_1$	$X44 + X200$	KM , T2																							
X44	$X43.t_2$	$X40 + X200$	/																							

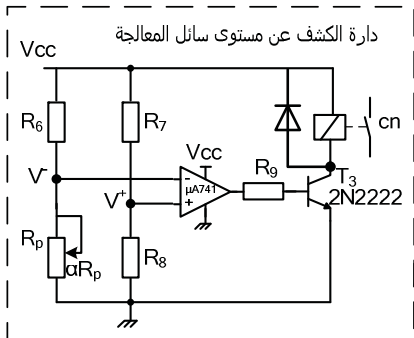
العلامة		عناصر الإجابة (الموضوع الأول)
مجموع	مجزأة	
3.00	8x0.25	<p>ج4: ربط المعقب الكهربائي ودارة المنفذات المتصدرة للأشغولة 4 (الإخلاء).</p> 
	+	<p>دائرة المنفذات المتصدرة</p> 
0.50	2x0.25	<p>ج5: دور كل من الإشارتين X40 ، X43 .</p> <p>X40: إرجاع العداد للصفر.</p> <p>X43: الإذن بالعد.</p>
1.00	2x0.25 + 2x0.25	<p>ج6: البنى المادية التي تنجز الوظائف التالية.</p> <p>الإذن بالتأجيل : البوابة (74LS00) NAND أو الطابق 2</p> <p>توليد إشارة الساعة : القلاب اللامستقر NE555 أو الطابق 1</p> <p>التأجيل : البوابة (74LS08) AND و العداد (74LS90) أو الطابق 3</p>
0.50	2x0.25	<p>ج7: حساب دور إشارة التوقيتية T .</p> $T = 0.7(R_1 + R_p + 2R_2)C$ $T = 0.7(2 + 16 + 2 \times 1)10^3 \times 22 \times 10^{-6}$ $T = 0.3s$
0.50	2x0.25	<p>ج8: حساب النسبة الدورية.</p> $\sigma = \frac{R_1 + R_p + R_2}{R_1 + R_p + 2R_2}$ $\sigma = \frac{19}{20} \Rightarrow \sigma = 95\%$

العلامة		عناصر الإجابة (الموضوع الأول)																											
مجموع	مجزأة																												
1.00	2x0.50	<p>ج9: الحالة المنطقية لمخارج العداد $Q_DQ_CQ_BQ_A$</p> <p>$R9(1).R9(2).R0(1).R0(2) = 1 : Q_DQ_CQ_BQ_A = 1001$</p> <p>$R9(1) = 0 , R0(1).R0(2) = 1 : Q_DQ_CQ_BQ_A = 0000$</p> <p>ج10: المخطط المنطقي للعداد</p> 																											
	2.00	6x0.25 + 0.50																											
0.50	0.50	<p>ج11: وظيفة الدارة 1: توليد إشارات الساعة (توقيتية).</p> <p>ج12: محتوى السجلين TRISA و TRISB</p> <table border="1"><thead><tr><th>السجل</th><th colspan="8">المحتوى</th></tr></thead><tbody><tr><td>TRISA</td><td></td><td></td><td></td><td>1</td><td>0</td><td>1</td><td>0</td><td>1</td></tr><tr><td>TRISB</td><td>1</td><td>1</td><td>1</td><td>1</td><td>1</td><td>1</td><td>1</td><td>1</td></tr></tbody></table>	السجل	المحتوى								TRISA				1	0	1	0	1	TRISB	1	1	1	1	1	1	1	1
السجل	المحتوى																												
TRISA				1	0	1	0	1																					
TRISB	1	1	1	1	1	1	1	1																					
0.50	2x0.25																												
2.00	2x1.00	<p>ج13: جدول التشغيل</p> <table border="1"><thead><tr><th colspan="5">الحالات</th><th rowspan="2">درجة الحرارة</th></tr><tr><th>مقاومات التسخين $2 \times R_{ch}$ (مغذاة/غير مغذاة)</th><th>KR (محرّض/غير محرّض)</th><th>KA (محرّض/غير محرّض)</th><th>حالة المقفل T</th><th>المنفذ RA3 (الحالة المنطقية)</th></tr></thead><tbody><tr><td>مغذاة</td><td>محرّض</td><td>محرّض</td><td>متشبع</td><td>1</td><td>θ_{min}</td></tr><tr><td>غير مغذاة</td><td>غير محرّض</td><td>غير محرّض</td><td>حصر</td><td>0</td><td>θ_{max}</td></tr></tbody></table>	الحالات					درجة الحرارة	مقاومات التسخين $2 \times R_{ch}$ (مغذاة/غير مغذاة)	KR (محرّض/غير محرّض)	KA (محرّض/غير محرّض)	حالة المقفل T	المنفذ RA3 (الحالة المنطقية)	مغذاة	محرّض	محرّض	متشبع	1	θ_{min}	غير مغذاة	غير محرّض	غير محرّض	حصر	0	θ_{max}				
	الحالات					درجة الحرارة																							
مقاومات التسخين $2 \times R_{ch}$ (مغذاة/غير مغذاة)	KR (محرّض/غير محرّض)	KA (محرّض/غير محرّض)	حالة المقفل T	المنفذ RA3 (الحالة المنطقية)																									
مغذاة	محرّض	محرّض	متشبع	1	θ_{min}																								
غير مغذاة	غير محرّض	غير محرّض	حصر	0	θ_{max}																								
0.50	2x0.25	<p>ج14: حساب $V_{\theta_{min}}$ و $V_{\theta_{max}}$ الموافقين θ_{min} و θ_{max}.</p> <p>$V_{\theta_{min}} = 0.03 \times \theta = 0.03 \times 80 = 2.4 V$</p> <p>$V_{\theta_{max}} = 0.03 \times \theta = 0.03 \times 100 = 3 V$</p>																											

العلامة		عناصر الإجابة (الموضوع الأول)
مجزأة	مجزأة	
0.50	0.50	ج15: - نوع المحرك المناسب: LS71L
0.75	3x0.25	ج16: المقادير الإسمية المطلوبة: - سرعة الدوران: $N = 1400 \text{tr/min}$ - معامل الإستطاعة: $\cos \varphi = 0.7$ - نسبة تيار الإقلاع على التيار الإسمي: $I_D/I_N = 4.8$
2.00	2x0.50	ج17: الحسابات: - الاستطاعة الممتصة: $\eta = \frac{P_u}{P_a}$ ومنه $P_a = \frac{P_u}{\eta} = \frac{0.55}{0.7}$ $P_a = 785.71 \text{W}$ - شدة تيار الإقلاع: لدينا: $\frac{I_D}{I_N} = 4.8$ $I_N = \frac{P_a}{\sqrt{3}U \cos \varphi} = \frac{785.71}{1.73 \times 380 \times 0.7}$ $I_N = 1.7 \text{A}$ ومنه $I_D = 4.8 \times I_N = 4.8 \times 1.7$ $I_D = 8.16 \text{A}$
	0.50 + 0.25	ملاحظة: في حالة استعمال التيار الاسمي الوارد في الجدول $I_N = 1.62 \text{A}$ تمنح للتلميذ 0.50 نقطة.
	0.25	

العلامة		عناصر الإجابة (الموضوع الثاني)																								
مجموع	مجزأة																									
1	4x0.25	<p>ج1: التحليل الوظيفي التتالي (النشاط البياني A0)</p>																								
	1.75	7x0.25	<p>ج2: متمن الأشغولة 4 (المعالجة والإخلاء)</p> <p>ملاحظة: يمكن تعويض المرحلة 43 بمرحلتين متزامنتين أو متتاليتين و تعتبر الإجابة صحيحة.</p>																							
2.00	8x0.25	<p>ج3: جدول تنشيط وتحميل مراحل الأشغولة 1 (التشكيل):</p> <table><tr><th>المرحلة</th><th>التنشيط</th><th>التحميل</th><th>المخارج</th></tr><tr><td>X10</td><td>$X14.\overline{X1} + X200$</td><td>X11</td><td>العداد RAZ</td></tr><tr><td>X11</td><td>$X10.X1.(X104 + X105) + X13.a_0.\overline{N}$</td><td>$X12+X200$</td><td>KM1</td></tr><tr><td>X12</td><td>$X11.e$</td><td>$X13+X200$</td><td>العد، dA^+</td></tr><tr><td>X13</td><td>$X12.a_1$</td><td>$X14+X11+X200$</td><td>dA^-</td></tr><tr><td>X14</td><td>$X13.a_0.N$</td><td>$X10+X200$</td><td>/</td></tr></table>	المرحلة	التنشيط	التحميل	المخارج	X10	$X14.\overline{X1} + X200$	X11	العداد RAZ	X11	$X10.X1.(X104 + X105) + X13.a_0.\overline{N}$	$X12+X200$	KM1	X12	$X11.e$	$X13+X200$	العد، dA^+	X13	$X12.a_1$	$X14+X11+X200$	dA^-	X14	$X13.a_0.N$	$X10+X200$	/
المرحلة	التنشيط	التحميل	المخارج																							
X10	$X14.\overline{X1} + X200$	X11	العداد RAZ																							
X11	$X10.X1.(X104 + X105) + X13.a_0.\overline{N}$	$X12+X200$	KM1																							
X12	$X11.e$	$X13+X200$	العد، dA^+																							
X13	$X12.a_1$	$X14+X11+X200$	dA^-																							
X14	$X13.a_0.N$	$X10+X200$	/																							

العلامة		عناصر الإجابة (الموضوع الثاني)
مجموع	مجزأة	
3.00	12 x 0.25	<p>ج4: المعقب الهوائي لأشغولة تشكيل المصفوفة.</p> 
0.5	0.5	<p>ج5: دور المقاومة R_1 : حماية الثنائي الضوئي CQY24 عندما تكون المقاومة المتغيرة $R_X = 0 \Omega$</p>
0.75	0.50 + 0.25	<p>ج6: قيمة المقاومة R_X : من المميز (الوثيقة 2) نستنتج أن $V_F = 2V$.</p> $V_{CC} = (R_1 + R_X) \cdot I_F + V_F$ $R_X = \frac{V_{CC} - V_F - R_1}{I_F}$ $R_X = \frac{5 - 2}{20 \cdot 10^{-3}} - 100 \Rightarrow R_X = 50 \Omega$
1.75	7x0.25	<p>ج7: ربط العداد:</p> 

العلامة		عناصر الإجابة (الموضوع الثاني)																		
مجموع	مجزأة																			
0.75	0.50 + 0.25	<p>ج8: حساب سعة المكثفة C .</p> $t_1 = 1.1 \times R_5 \times C$ $C = \frac{t_1}{1.1 \times R_5} \Rightarrow C = \frac{5}{1.1 \times 10^{-3}}$ $C = 454 \mu F$																		
	1.00	1.00	<p>ج9: اقتراح الحل في التركيب.</p> <div><p>دائرة الكشف عن مستوى سائل المعالجة</p></div>																	
1.00	2x0.50	<p>ج10: إيجاد عبارة كل من V⁻ و V⁺ .</p> $V^- = V_{CC} \frac{\alpha R_P}{\alpha R_P + R_6}$ $V^+ = V_{CC} \frac{R_8}{R_8 + R_7}$																		
0.50	2x0.25	<p>ج11: ملء السجلات TRISA و TRISB .</p> <table><tr><td>TRISA</td><td>-</td><td>-</td><td>-</td><td>1</td><td>1</td><td>1</td><td>1</td><td>1</td></tr><tr><td>TRISB</td><td>0</td><td>0</td><td>0</td><td>0</td><td>0</td><td>0</td><td>0</td><td>0</td></tr></table>	TRISA	-	-	-	1	1	1	1	1	TRISB	0	0	0	0	0	0	0	0
TRISA	-	-	-	1	1	1	1	1												
TRISB	0	0	0	0	0	0	0	0												
1.25	5x0.25	<p>ج12: كتابة برنامج تهيئة المداخل / المخرجات.</p> <table><tr><td>BSF</td><td>STATUS, RP0</td><td>; التوجه نحو البنك 1</td></tr><tr><td>CLRF</td><td>TRISB</td><td>; أمح محتوى السجل TRISB</td></tr><tr><td>MOVLW</td><td>B'00011111'</td><td>; إشحن السجل W بالقيمة الثنائية (00011111)</td></tr><tr><td>MOVWF</td><td>TRISA</td><td>; إشحن محتوى السجل W في السجل TRISA</td></tr><tr><td>BCF</td><td>STATUS, RP0</td><td>; الرجوع إلى البنك 0</td></tr></table>	BSF	STATUS, RP0	; التوجه نحو البنك 1	CLRF	TRISB	; أمح محتوى السجل TRISB	MOVLW	B'00011111'	; إشحن السجل W بالقيمة الثنائية (00011111)	MOVWF	TRISA	; إشحن محتوى السجل W في السجل TRISA	BCF	STATUS, RP0	; الرجوع إلى البنك 0			
BSF	STATUS, RP0	; التوجه نحو البنك 1																		
CLRF	TRISB	; أمح محتوى السجل TRISB																		
MOVLW	B'00011111'	; إشحن السجل W بالقيمة الثنائية (00011111)																		
MOVWF	TRISA	; إشحن محتوى السجل W في السجل TRISA																		
BCF	STATUS, RP0	; الرجوع إلى البنك 0																		

العلامة		عناصر الإجابة (الموضوع الثاني)
مجزأة	مجزأة	
0.75	0.5 +	ج13: حساب الانزلاق. $n = 1440 \text{ tr/min} \Rightarrow n_s = 1500 \text{ tr/min}$
	0.25	$g = \frac{n_s - n}{n_s}$ $g = \frac{1500 - 1440}{1500} \Rightarrow g = 4\%$
0.75	0.5 +	ج14: حساب الضياع بمفعول جول في الساكن. $P_{js} = \frac{3}{2} r I^2$
	0.25	$P_{js} = 1.5 \times 2 \times (7)^2 \Rightarrow P_{js} = 147 \text{ W}$
1.00	4x0.25	ج15: حساب الضياع بمفعول جول في الدوار. $P_{jr} = g P_{tr}$ $P_a = P_{tr} + P_{fs} + P_{js} \Rightarrow P_{tr} = P_a - (P_{fs} + P_{js})$ $P_a = \sqrt{3} U I \cos \varphi = 3681.44 \text{ W}$ $P_{tr} = 3681.44 - (147 + 300) = 3234.44 \text{ W}$ $P_{jr} = 0.04 \times 3234.44 \Rightarrow P_{jr} = 129.38 \text{ W}$
0.75	0.5 +	ج16: حساب التوتر الثانوي في الفراغ. $m_0 = \frac{U_{20}}{U_1} \Rightarrow U_{20} = m_0 \cdot U_1$
	0.25	$U_{20} = 0.112 \times 220 \Rightarrow U_{20} = 24.64 \text{ V}$
0.75	0.5 +	ج17: حساب توتر الثانوي. $U_2 = U_{20} - \Delta U_2$
	0.25	$U_2 = 24 \text{ V}$
0.75	0.5 +	ج18: حساب المردود. $P_2 = U_2 \cdot I_2 \cdot \cos \varphi_2 \Rightarrow P_2 = 24 \times 5 \times 0.94$
	0.25	$P_2 = 112.8 \text{ W}$ $\eta = \frac{P_2}{P_2 + P_f + P_j} \Rightarrow \eta = \frac{112.8}{112.8 + 10}$ $\eta = \frac{112.8}{122.8} \Rightarrow \eta = 91\%$