




ماي: 2015


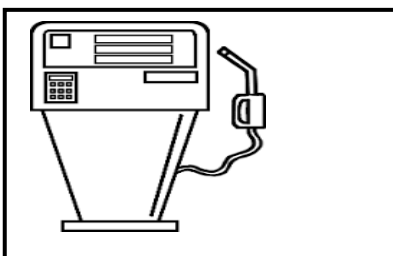

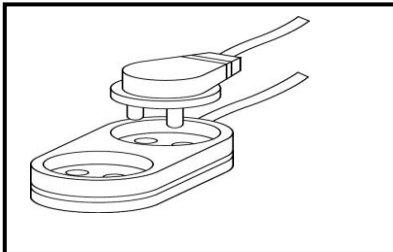
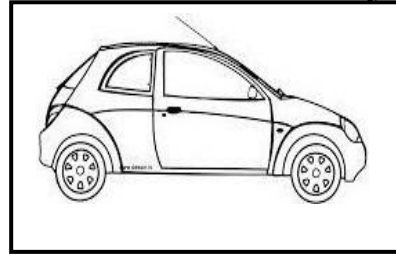
المستوى: التحضيري (Préparatoire)

اختبار الفصل الثالث في نشاط التربية العلمية

التمرين الأول: - أحيط الشيء الأصغر سعة، و أشطب على الشيء الأكبر سعة:




التمرين الثاني: - اربط كل شيء بالطاقة المناسبة له:



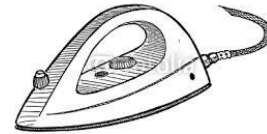
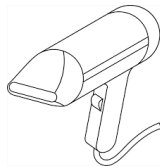
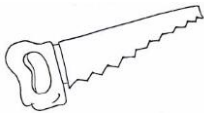


حي قعلول - برج البحري - الجزائر

التمرين الثالث: - ارتب كل صورة حسب ترتيبها في الزمن:



التمرين الرابع: - أحيط الأشياء التي تشتغل بالكهرباء:



حي قعلول - برج البحري - الجزائر