





فيفري : 2017

المستوى : التحضيري (Préparatoire)

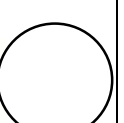


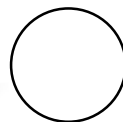

اختبار الفصل الثاني في مادة التربية المدنية

.	مكتسب +
.	في طريق الإكتساب _
.	غير مكتسب -

1- ألون بطاقة الصورة المعبرة عن المولد النبوي الشريف باللون الأحمر وعيد الفطر باللون الوردي ، أما عيد الشجرة ألونه بالأخضر.



2- أرسم القرص المناسب للسلوك.



3- أرسم أضواء المرور

حي قعلول - برج البحري - الجزائر

Web site : www.ets-salim.com /021.87.16.89 -الفاكس : Tel-Fax : 021.87.10.51 ☎