
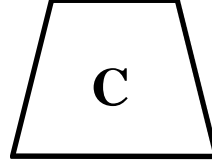
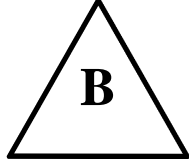



الجزء الأول : (06 نقاط)التمرين الأول : (1.5 ن)

- اذكر اسم كل مضلع من المضلعات التالية .



- اكمل الجدول بما يناسب .

الشكل	عدد الرؤوس	عدد الأضلاع
المضلع D

التمرين الثاني : (1.5 ن)

- حول إلى الوحدة المطلوبة .

$$7 \text{ dm} = \dots\dots\dots \text{ mm}$$

$$13 \text{ m} = \dots\dots\dots \text{ cm}$$

$$200 \text{ mm} = \dots\dots\dots \text{ dm}$$

$$507 \text{ dm} = \dots\dots \text{ m} \dots\dots \text{ dm}$$

التمرين الثالث : (1.5 ن)

- احصر بين ألفين متتاليتين .

$$\dots\dots < 3780 < \dots\dots$$

$$\dots\dots > 6403 > \dots\dots$$

التمرين الرابع : (1.5 ن)

- أكمل الجداءات التالية :

$$\dots\dots \times \dots\dots = 35 , \dots\dots \times \dots\dots = 35 , \dots\dots \times \dots\dots = 35 , \dots\dots \times \dots\dots = 35$$

- أوجد قواسم العدد 35 .

الجزء الثاني : (04 نقاط)الوضعية الإدماجية :

اشترى بائع الخضر 204 kg من البطاطا بسعر 46 ديناراً للكيلوغرام الواحد.
باع في الصباح 124 kg وباع في المساء 74 kg.

* - ما هو ثمن شراء البطاطا؟

* - ما هي كتلة البطاطا التي باعها في اليوم.

* - ما هي كتلة البطاطا المتبقية؟

تنبيه: إجراء العمليات العمودية إجباري.