

تقويم الفصل الأول

تربية علمية

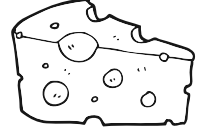
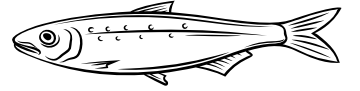

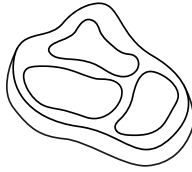
الاسم واللقب :

اربط كل صورة بالعضو الحسي المستعمل



لون بالأحمر الاغذية التي مصدرها حيواني وبالأخضر التي مصدرها نباتي

الوضعية 2



أكتب ص امام الاجابة الصحيحة و خ امام الاجابة الخاطئة

الوضعية 3

عِنْدَمَا يَدْخُلُ الْهَوَاءُ إِلَى جِسْمِي يَرْتَفِعُ صَدْرِي. ☐أَكْثَرَ مِنْ تَنَاوُلِ الْحَلَوِيَّاتِ وَالسُّكَّرِيَّاتِ. ☐التَّنَوُّعُ فِي الْأَغْذِيَّةِ يَضُرُّ بِالصِّحَّةِ. ☐مُمَارَسَةُ الرِّيَاضَةِ يُسَبِّبُ السُّمْنَةَ. ☐

إربط بما يناسب

الوضعية 4



يَمْشِي

يَفِيزُ

يَسْبَحُ

يَجْرِي