



## المستوى: الأولي ابتدائي (1AP) نوفمبر 2021

## التقويم الثاني للفصل الأول في الرياضيات

اللقب: ..... الاسم: ..... القسم: .....

## التمرين الأول:

أملأ الفراغ بالعدد المناسب..

...	...	...	...

## التمرين الثاني : أكمل رسم القرصات الناقصة.


## التمرين الثالث :

1	...	3	...	5	...	...	8	...	10
---	-----	---	-----	---	-----	-----	---	-----	----





أد  
تُب

العدد المناسب في الفراغ المناسب.

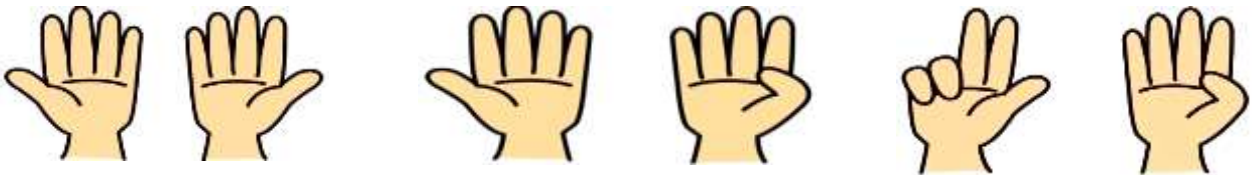
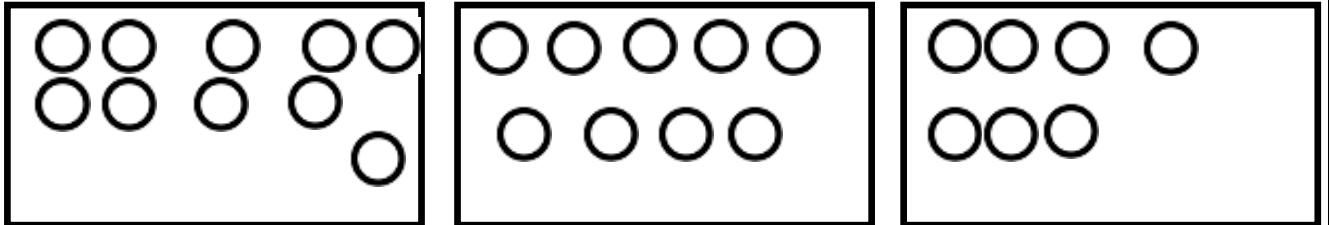
## التصحيح النموذجي

### التمرين الأول:

أملأ الفراغ بِالْعَدَدِ الْمُنَاسِبِ..

			
10	8	9	6

### التمرين الثاني : أَكْمِلْ رَسْمَ الْقُرَيْصَاتِ النَّاقِصَةِ .



### التمرين الثالث :

1	2	3	4	5	6	7	8	9	10
---	---	---	---	---	---	---	---	---	----

أَدْ  
تُبْ

الْعَدَدَ الْمُنَاسِبَ فِي الْفَرَاغِ الْمُنَاسِبِ.