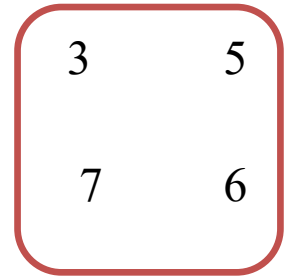
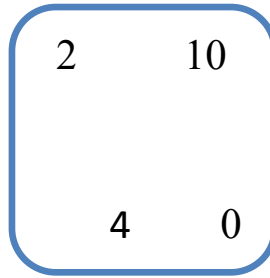
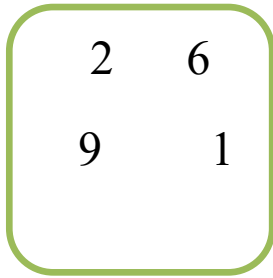




المستوى: الأول ابتدائي (1AP) نوفمبر 2022

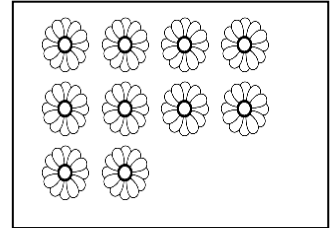
الفرض الأول في مادة الرياضيات (م2)

التمرين 01: أحيط أكبر عدد في كل مجموعة:

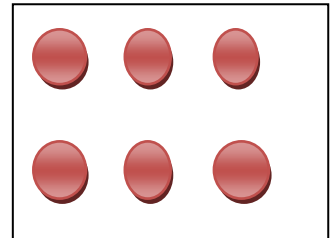


التمرين 02: أعد ثم أصل مع ما يناسب.


5



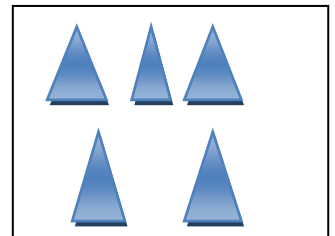
8



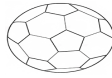
10







6



التمرين 03: أَلَوْنُ بِالْأَصْفَرِ الْكُرَّةَ الَّتِي وَرَاءَ الْوَلَدِ وَ بِالْأَحْمَرِ الَّتِي أَمَامَهُ.



الوضعية الإدماجية: أَلَا حِظُّ الْجَدُولِ وَأَكْمَلُ بِمَا يُنَاسِبُ.

			
<input type="radio"/>	<input type="radio"/>	<input type="radio"/>	<input type="radio"/>

أَلَوْنُ الْإِجَابَةِ الصَّحِيحَةِ:

• عَدَدُ حَبَّاتِ التُّفَاحِ

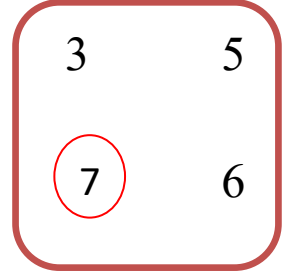
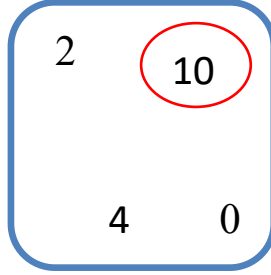
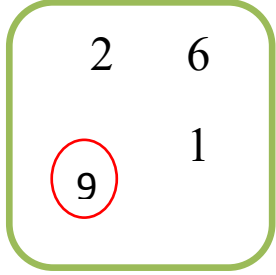
أَكْثَرُ مِنْ

مِنْ حَبَّاتِ الْإِجَاصِ.

أَقَلَّ مِنْ

تصحيح الفرض الأول في مادة الرياضيات

التمرين 01 : أحيطُ أكبرَ عددٍ في كلِّ مجموعةٍ :



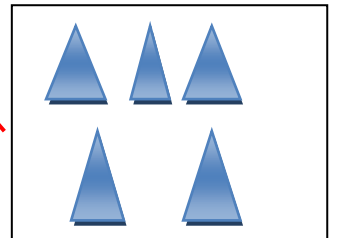


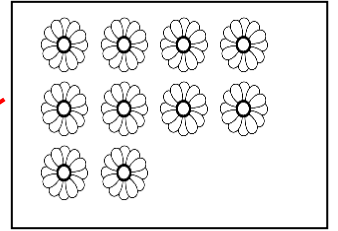
التمرين 02 : أعدُّ ثمَّ أصِلُ معَ ما يُناسبُ .

5

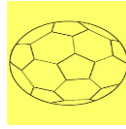
8

10





6



التمرين 03: أَلَوْنُ بِالْأَصْفَرِ الْكُرَةَ الَّتِي وَرَاءَ الْوَلَدِ وَ بِالْأَحْمَرِ الَّتِي أَمَامَهُ.



الوضعية الإدماجية : أَلَحِظْ الْجَدُولَ وَأَكْمِلْ بِمَا يُنَاسِبُ .

			
4	10	6	2

أَلَوْنُ الْإِجَابَةِ الصَّحِيحَةِ :

مِنْ حَبَّاتِ الْإِجَاصِ.

أَكْثَرُ مِنْ

أَقَلَّ مِنْ

• عَدَدَ حَبَّاتِ التُّفَاحِ