
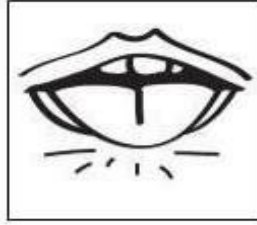
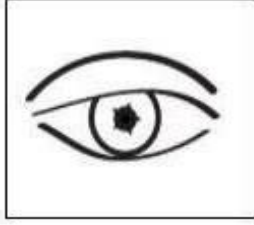



## امتحان الفصل الثاني في التربية العلمية والتكنولوجية

التمرين الأول : أَرِبطْ بين كُلِّ عَضْوٍ وَخَاسْتِهِ



الرَّوْيَةُ

اللَّمْسُ








الشَّمُّ

السَّمْعُ

الدَّوْقُ

التمرين الثاني :

ألون القرص بالأزرق اذا كان الجسم سائلا أو ألونه بالأحمر اذا كان صلبا.



التمرين الثالث:

أرتب الوجبات الغذائية اليومية بوضع 1- 2- 3- 4 مكان النقط :

لُحْمَة

عَشَاء

فَطِيرُور

غَذَاء

( ... )

( ... )

( ... )

( ... )

امضاء الولي