

المستوى: الأولى	الجمهورية الجزائرية الديمقراطية الشعبية وزارة التربية الوطنية	مديرية التربية الجزائرية لخروجه
المدة: ساعة	مدرسة انقلمج	السنة الدراسية 2022-2023

الإسم:	العلامة:	الملاحظة:
اللقب:		

إختبار الثلاثي الأولى في مادة الرياضيات

1. أَلَوْنُ خَانَاتِ الْأَعْمَدَةِ حَسَبَ الْعَدَدِ الْمَكْتُوبِ:

8

--	--	--	--	--	--	--	--	--	--

6

--	--	--	--	--	--	--	--	--	--





3

--	--	--	--	--	--	--	--	--	--

9

--	--	--	--	--	--	--	--	--	--

2. أحسب ثم أكتب العدد:



3. أكمل كتابة الشريط العددي:

_____	2	_____	_____	5	_____	_____	_____	_____	_____
-------	---	-------	-------	---	-------	-------	-------	-------	-------