


7- أكمل كتابة الأعداد الآتية : (1ن)

0	1	6	10
---	---	-------	-------	-------	-------	---	-------	-------	-------	----

8 - اشطب الأشياء الزائدة (5,0ن).



9 - لون بطاقات العدد 10 (1ن)

8+2	2+6	5+1
5+4	7+3	9+3

10 - لون الخانة المناسبة : (1ن)

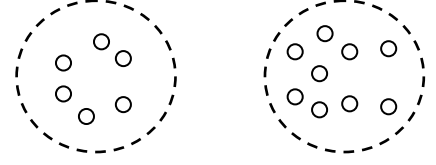


الكُرسي	أَمَامَ	تَحْتَ	فَوْقَ	القط
الكُرسي	أَمَامَ	تَحْتَ	فَوْقَ	الكلب
الكُرسي	أَمَامَ	تَحْتَ	فَوْقَ	كرة القدم

11 - عَيِّن العَدَدَ الَّذِي قَبْلَ وَالَّذِي بَعْدَ الرِّقْمِ الآتِي: (0.5ن).

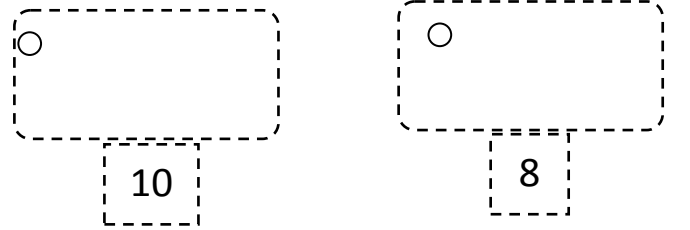
.....	9
-------	---	-------

1- أربط كل بطاقة بالعدد المناسب (1ن):



9	3	4	7	6	8	5
---	---	---	---	---	---	---

2- ارسم القرصيات الناقصة في كل بطاقة: (1ن).



3- أخط أكبر عدد : (0.5ن)

6	4
3	10

4- أخط أصغر عدد : (0.5ن)

4	5
9	7

5- أنجز العمليات الآتية: (2ن)

8+2=.....	5+4=.....
9-3=.....	6-2=.....

6- لون العمود الأطول بالأزرق والأقصر بالأحمر : (1ن).

