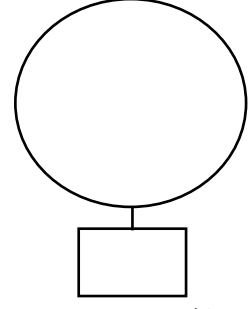
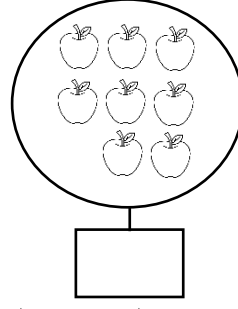

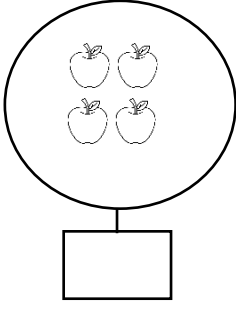
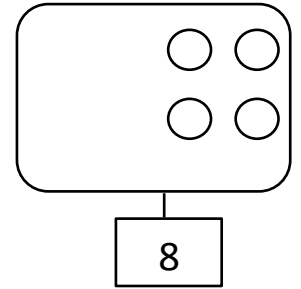
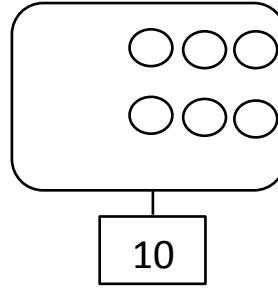
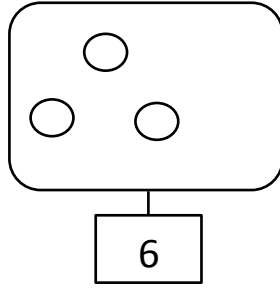
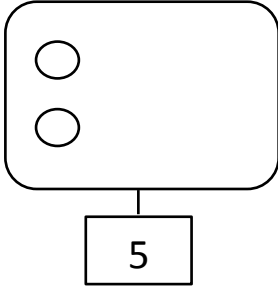


الاسم:	اختبار الفصل الأول في مادة الرياضيات	مدرسة: تواتي محمد
اللقب:		السنة الأولى ابتدائي

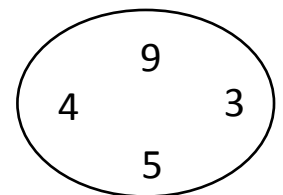
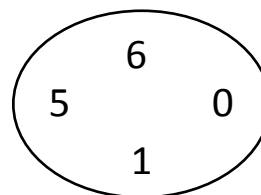
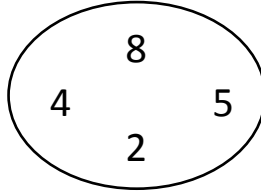
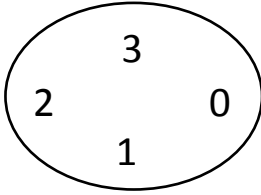
التمرين الأول: (02ن) أحسب وأكتب العدد المناسب:




التمرين الثاني: (02ن) أكمل رسم الكريات الناقصة:



التمرين الثالث: (02ن) أحيط العدد الأكبر في كل حالة:



التمرين الرابع: (01ن) أرتب ما يلي من الأطول إلى الأقصر:



التمرين الخامس: (02ن) أنجز العمليات التالية :

$$6 + 3 = \dots\dots\dots$$

$$7 + 3 = \dots\dots\dots$$

$$8 - 5 = \dots\dots\dots$$

$$9 - 6 = \dots\dots\dots$$

التمرين السادس: (01ن) ألون الحيوان الذي على يسار الطفل :

