

السنة الدراسية: 2022/2023

الاسم واللقب:

المدرسة : المجاهد الطيب الزاوي

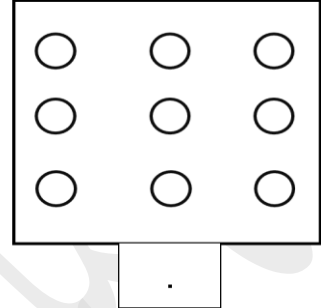
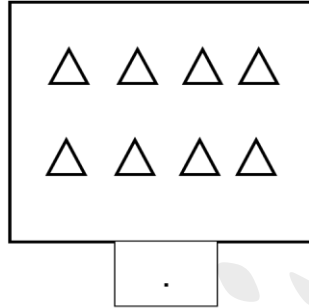
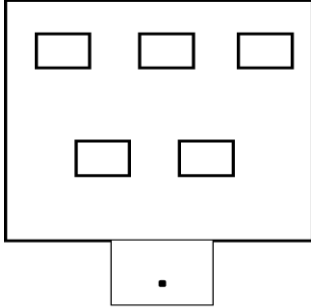
المستوى : الأولى ابتدائي

تقويم الفصل الأول في مادة

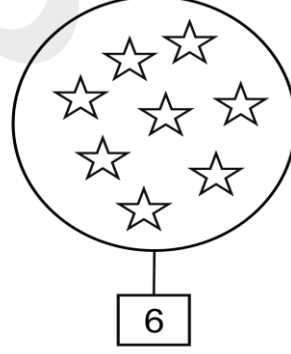
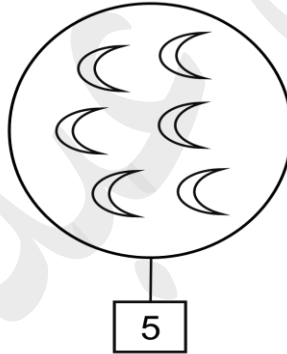
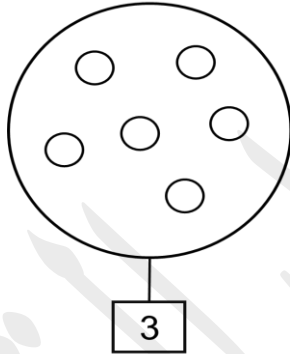
الرياضيات

10

التمرين الأول : أحسب ثم أكتب النتيجة :



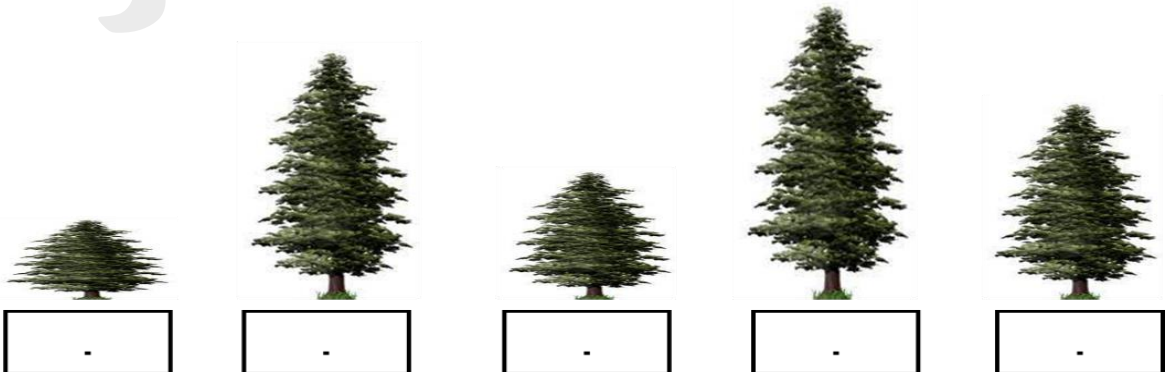
التمرين الثاني : أشطب الأشكال الزائدة:



التمرين الثالث : أكمل شريط الاعداد :

0	.	.	3	.	5	.	7	.	9	.
---	---	---	---	---	---	---	---	---	---	---

- التمرين الرابع : أرتب الأشجار من الأقصر إلى الأطول



التمرين الخامس:

ألون السيارة الموجودة على يمين الشرطي بالأزرق .
ألون السيارة الموجودة على يسار الشرطي بالأحمر .



الوضعية الإدماجية :



وصحن آخر به



صحن به

كم تفاحة في الصحنين؟

$$\square + \square = \square$$

عدد التفاحات :

بالتوفيق