

ثانوية أحمد ولد التركي – بواسماعيل	إختبار الثلاثي الثاني في مادة	العام الدراسي : 2023/2022
القسم : 1 ج م ع تك 03	التكنولوجيا (الهندسة المدنية)	المدة: 01 ساعة
اللقب :	الإسم	العلامة...../.....

- أكمل ما يلي : (3 ن) :

- الوظيفة الرئيسية للجدران هي :

- الوظائف الثانوية للجدران هي :

.....*

.....*

.....*

2- إربط كل طرف من اليمين بما يوافقه على اليسار (02ن):

وثيقة يوضح فيها مختلف الأشغال التي ستنجز و الكميات اللازمة مع أسعارها

طلب خطي

يبرر في الرغبة في الحصول على رخصة تسمح له بإنجاز مسكنه.

الكشف الوصفي

وثيقة مكملة للمخططات تصف كل عنصر للمبنى من حيث كيفية إنجازه

عقد الملكية

وثيقة تثبت ملكية الأرض

الكشف الكمي و السعري

3- إقرأ الفقرة التالية جيدا ثم أعد كتابتها مع تصحيح ماورد فيها من أخطاء(01ن):

مخططات التوزيع من المخططات التنفيذية ، ينجزها المهندس المدني بمقياس 1/500، يبين فيها تفاصيل الأسقف ، عددها إثنتان

4- أكمل ما يلي الملف الإداري خطوة أساسية من مراحل بناء منشأ في الهندسية المدنية ، يتكون من مجموعة من الوثائق و هي نوعان: 3ن

أ-..... ب-.....

أ-1-..... ب-1-.....

أ-2-..... ب-2-.....

5- مهمة مكتب الدراسات هو منح المشروع مواصفات تقنية يمثل مجموعة من الأشخاص – أذكر أربعة منهم : (2 ن)

1-..... 2-.....

3-..... 4-.....

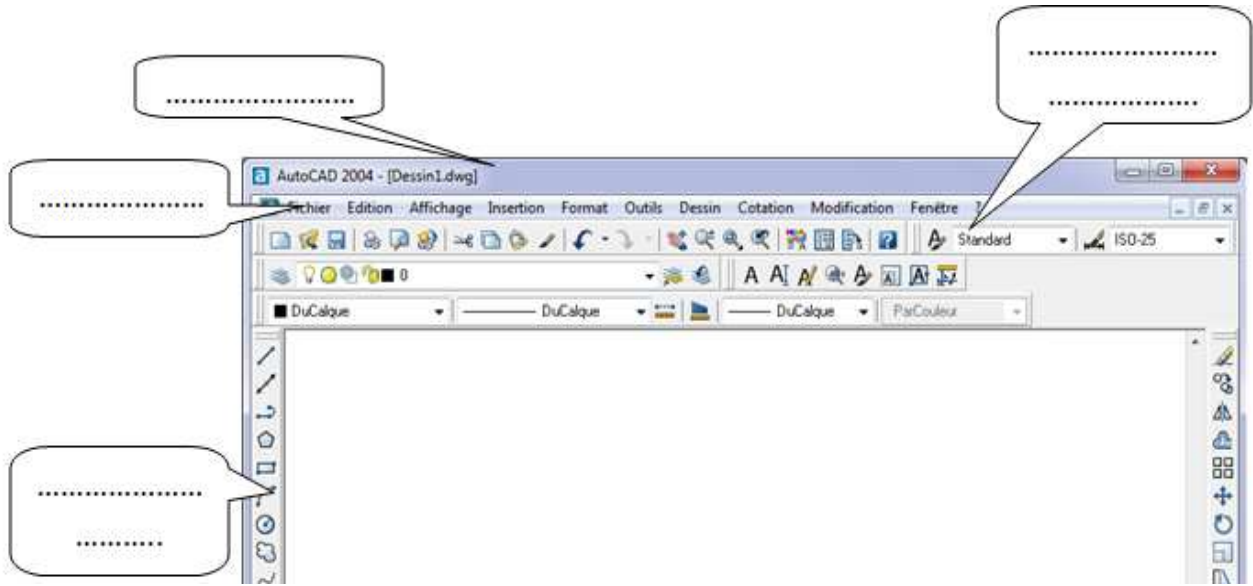
6- أكمل الفراغ بالعبارات المناسبة : (03ن) عندما نشرع في بناء مسكن فردي يجب الحصول على قطعة أرض ، و يجب التأكد

- ان قطعة الأرض..... و يثبت ذلك بعقد يسمى.....

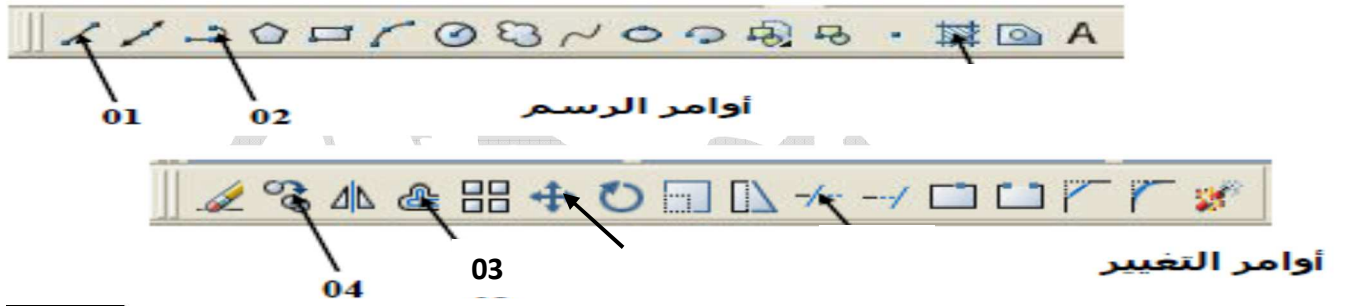
- تنتمي إلى..... و يثبت ذلك بشهادة تسمى.....

- صالحة للبناء ويتم بإجراء..... تسمى.....

7- تعرف على مختلف أشرطة واجهة برنامج الأوتوكاد (02 ن)



8- أمامك شريط للرسم وآخر للتغيير، سم الأوامر المرقمة مع تحديد دور كل منها في الجدول أسفله (02ن)



الرقم	الأمر	الدور
01		
02		
03		
04		

9- اتمم الجدول التالي (02ن):

المحاور	الإسم	اللون	نوع الخط	سمك الخط
الاعمدة				
الجدران				
الفتحات				

* نحن ا بن من شئنا واحتسب أدبا يغنيك عن مضمونه النسب *

أستاذ المادة : مخلوفي كمال

- بالتوفيق للجميع -

التصحيح النموذجي

- أكمل ما يلي : (3 ن) :

- الوظيفة الرئيسية للجدران هي : **الفصل بين الفضاءات.**

- الوظائف الثانوية للجدران هي :

* التهوية و الإنارة الطبيعية

* **الحجز البصري (حجب الرؤية)**

* الجانب الجمالي

* **العزل الصوتي**

* **الساح بالتنقل**

* **العزل الحراري**

4- إربط كل طرف من اليمين بما يوافقه على اليسار (02ن):

وثيقة يوضح فيها مختلف الأشغال التي ستنجز و الكميات اللازمة مع أسعارها	طلب خطي
يبرر في الرغبة في الحصول على رخصة تسمح له بإنجاز مسكنه.	الكشف الوصفي
وثيقة مكملة للمخططات تصف كل عنصر للمبنى من حيث كيفية إنجازه	عقد الملكية
وثيقة تثبت ملكية الأرض	الكشف الكمي و السعري

5- إقرأ الفقرة التالية جيدا ثم أعد كتابتها مع تصحيح ماورد فيها من أخطاء (01ن):

مخططات التوزيع من المخططات التنفيذية ، ينجزها المهندس المدني بمقياس 1/500 ، يبين فيها تفاصيل الأسقف ، عددها إثنان
مخططات التوزيع من المخططات **الإجالية** ، ينجزها المهندس **المعماري** بمقياس 1/50 ، يبين فيها تفاصيل **الغرف (الطابق)** ، عددها
حسب عدد لطوابق

4- أكمل ما يلي الملف الإداري خطوة أساسية من مراحل بناء منشأ في الهندسية المدنية ، يتكون من مجموعة من الوثائق و هي نوعان: 3ن

أ- الوثائق المكتوبة

ب- الوثائق المرسومة

أ- 1- عقد الملكية

أ- 2- الكشف الكمي والسعري

ب- 1- المخططات الإجالية (مخطط الموقع - الكتلة - التوزيع - المقاطع.. الخ)

ب- 2- المخططات التنفيذية (مخططات القولية و التسليح)

5- مهمة مكتب الدراسات هو منح المشروع مواصفات تقنية يمثل مجموعة من الأشخاص - أذكر أربعة منهم : (2 ن)

1- المهندس المعماري

2- المهندس المدني

3- التقني المتار

4- التقني الرسام..

6- أكمل الفراغ بالعبارات المناسبة: (03ن) عندما نشرع في بناء مسكن فردي يجب الحصول على قطعة أرض ، و يجب التأكد

- ان قطعة الأرض ملكه

- تنتمي إلى النسيج العمراني

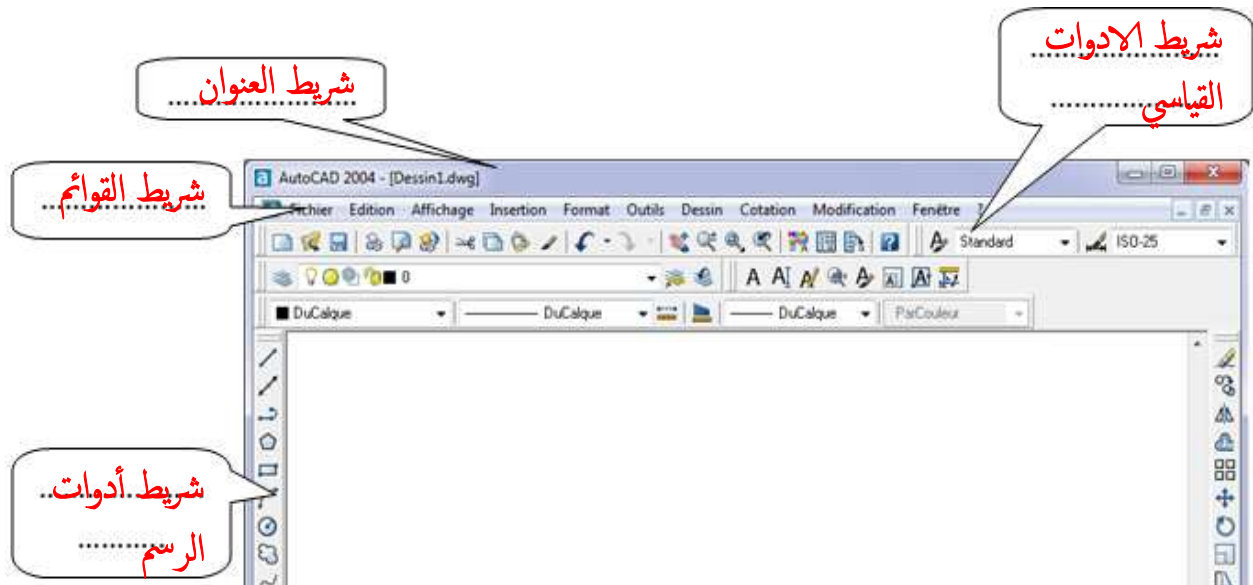
- صالحة للبناء ويتم بإجراء دراسة للتربة

و يثبت ذلك بعقد يسمى **عقد الملكية**

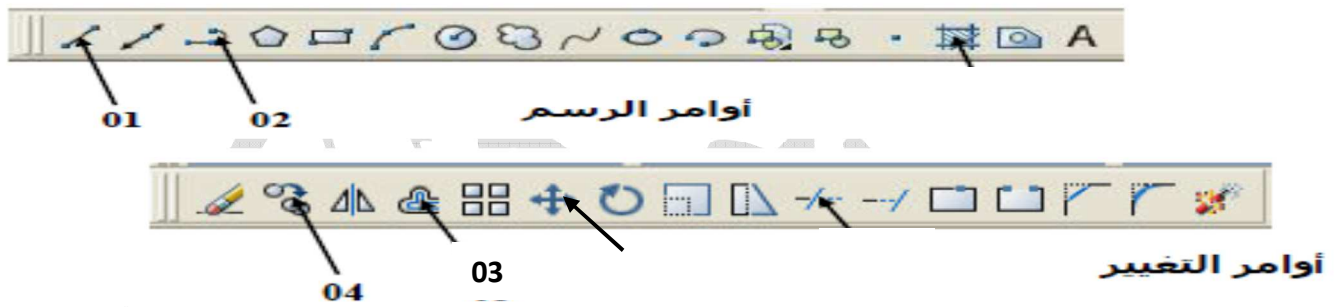
و يثبت ذلك بشهادة تسمى **الشهادة العمرانية**

تسمى **الدراسة الجيوتقنية**

7- تعرف على مختلف أشرطة واجهة برنامج الأوتوكاد (02 ن)



8- أمامك شريط للرسم وآخر للتغير، سم الأوامر المرقمة مع تحديد دور كل منها في الجدول أسفله (02ن)



الرقم	الأمر	الدور
01	خط Ligne	لرسم قطعة مستقيمة
02	خط متعدد Polyligne	لرسم المضلعات
03	إزاحة Décaler	لرسم خطوط متوازية ، أو دوائر لها نفس المركز و قطر مختلف
04	نسخ Copier	لرسم عدة أشكال من شكل نموذجي على مسافات معينة

9- اتمم الجدول التالي (02ن):

المحاور	الإسم	اللون	نوع الخط	سمك الخط
المحاور	Axes	احمر	متقطع	0.2
الاعمدة	Poteaux	أزرق	مستمر	0.6
الجدران	Murs (Maconnerie)	أصفر	مستمر	0.4
الفتحات	Ouverture (baies)	أبيض	مستمر	0.3