

ثانوية شيخ احمد ديدي
تمنيط

يوم: 2024/02/19

الاستاذ رحمانى

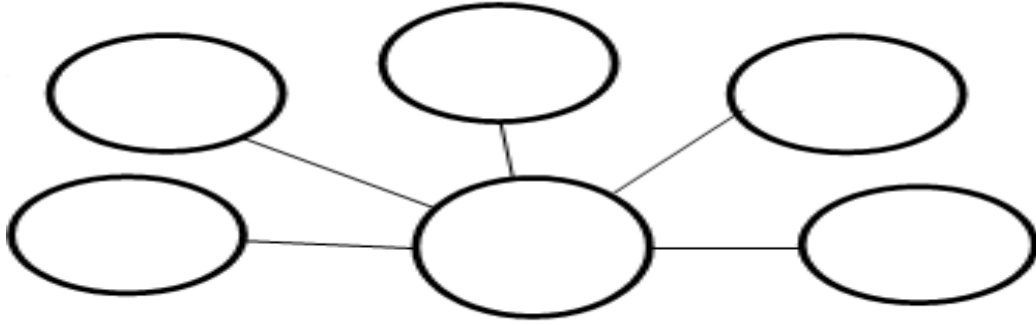
فرض التكنولوجيا للفصل الأول

مادة: هندسة ميكانيكية

السنة: الأولى علوم

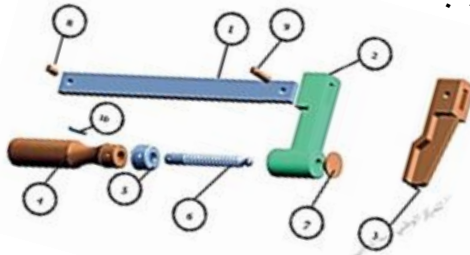
الاسم و اللقب: قسم: الرقم:

التمرين الاول: اتمم مخطط هيكل المؤسسة



التمرين الثانى : دراسة الرسم التقني

1- مانوع الرسم التقني الممثل في الشكل (1) و(2) (3) برر أجابتك ؟



الشكل: 2



الشكل: 1

* الشكل 1

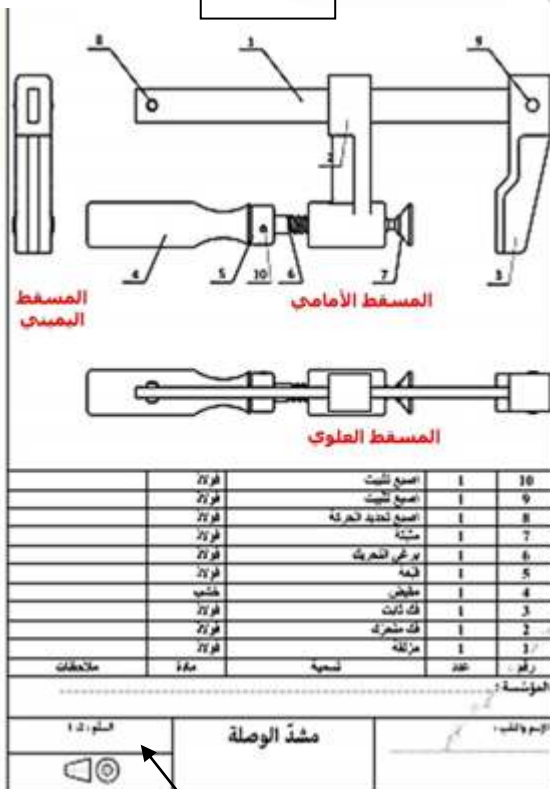
* الشكل 2

* الشكل 3

2- ماذا يمثل كل من السهم 1 و2 و3 و4

1 2

3 4



الشكل: 3

4

3

1- فى الرسم التعريفى تم رسم القطعة 2 على مفاى 4 وبسلم $\frac{1}{2}$.

- ماهى ابعاد مفاى A4*
- ما هو نوع السلم المستعمل
- ما هى الأبعاد الحقيقىة لهذه القطعة إذا كان الطول 70 والعرض 20 والثقب 5

.....

التمرين الثالث الجانب التطبيقى

1- سمي الوظائف التالية لبرنامج سوليدوركس



2- ماهى العملية التى تنجز على هذه القطعة كما هو موضح فى الشكل مع تبرير الاجابة

