



## مديرية التربية لولاية سطيف

قسم 1 ج م ع ت

### فرض الثلاثي الأخير

ثانوية الشهيد لولو علي

المدة : ساعتين

السنة 2024-2025

الأستاذ مريخي

العلامة:

الاسم:

اللقب:

#### 1-صنف المؤسسات الاتية حسب نوع الإنتاج:

ثانوية الشهيد لولو علي	
المستشفى	
المؤسسة الوطنية للسكك الحديدية	
شركة فولقسفاقن للسيارات	
شركة كوكاكولا للمشروبات	
صيدلية	

#### 2-أكمل الجدول التالي:

المقياس	البعد الحقيقي	البعد المرسوم
1:4	100	
	30	70
1:1		33

#### 3-أجب بصحيح أو خطأ:

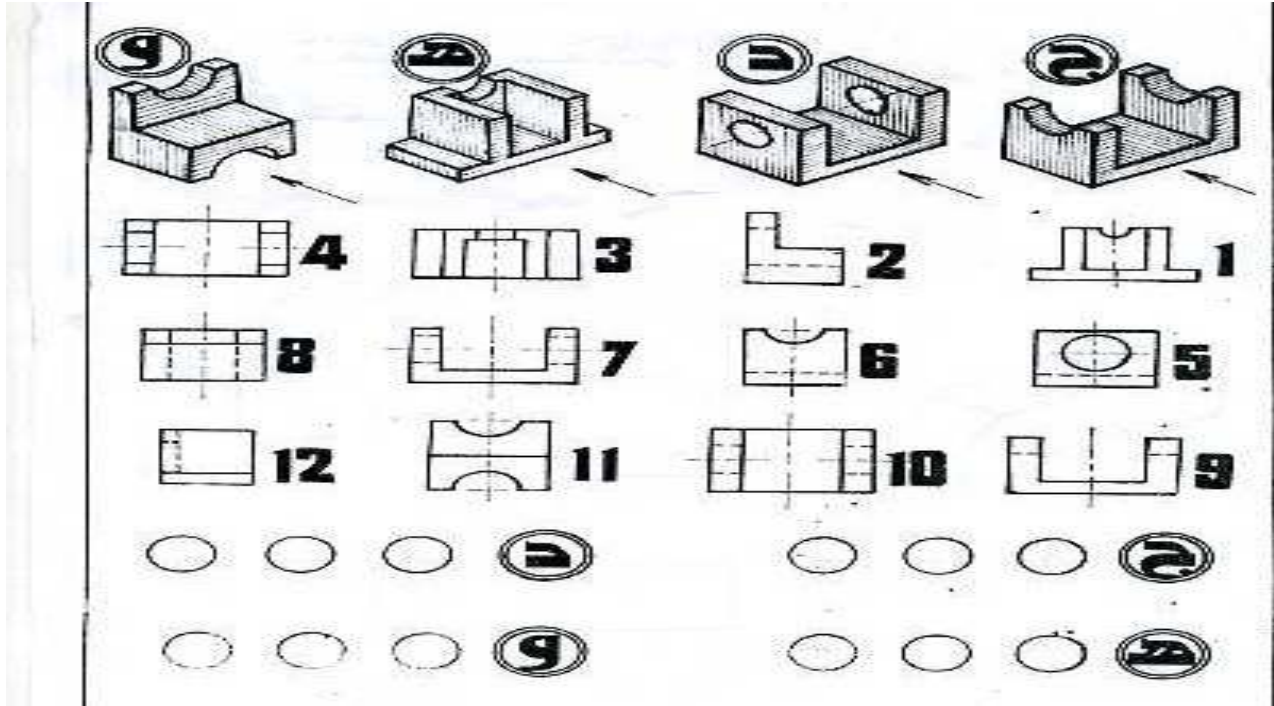
يمثل جدول التعيينات في الرسم التعريفي .....

المقاس A1 أكبر من المقاس A3 .....

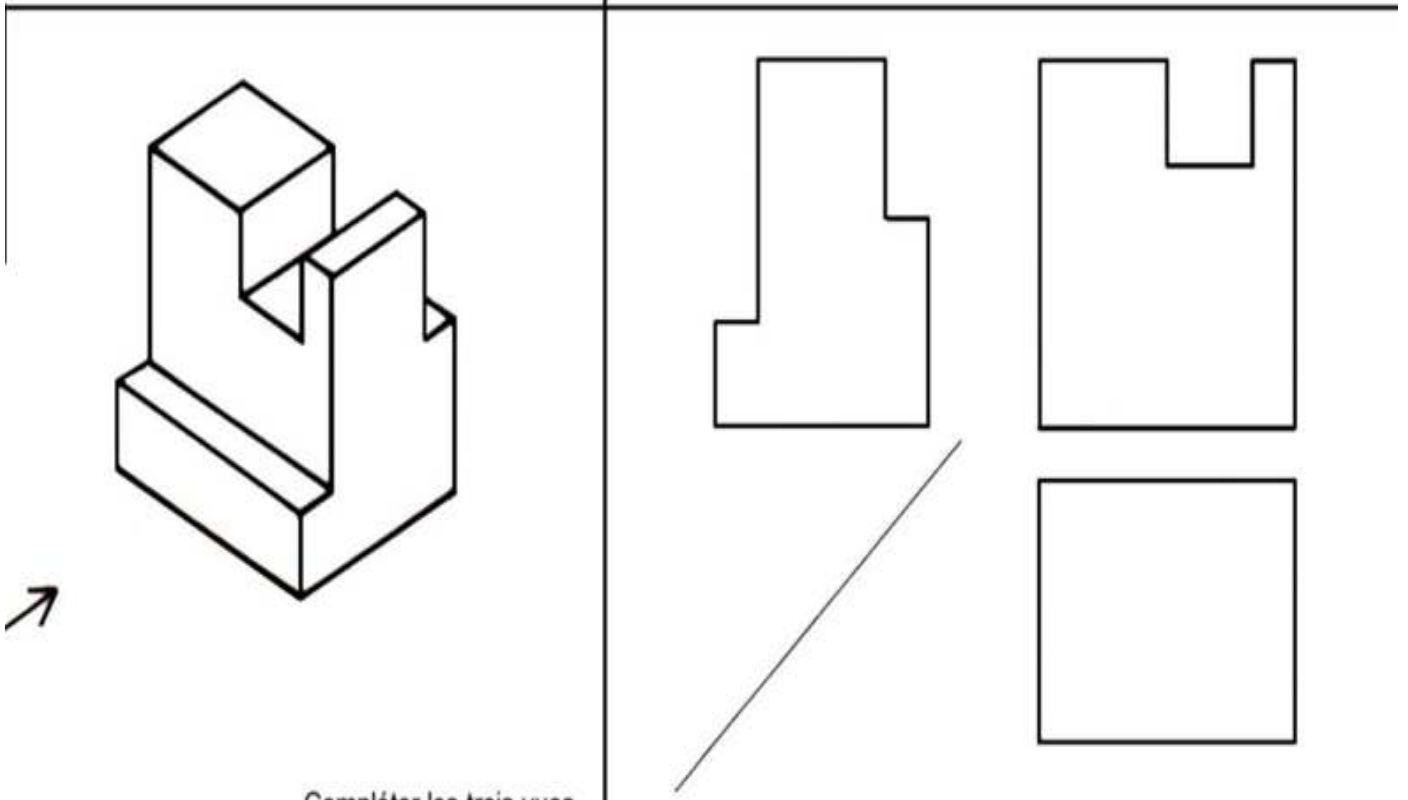
1:5 هو مقياس تكبير .....

يحتوي جدول التسجيل على اسم المصمم .....

اتجاه السهم يمثل المسقط الأمامي في الرسم المنظوري أوجد ورقم الثلاث  
مساقط لكل رسم



أكمل المساقط مستعينا بالرسم المنظوري المقابل



ثانوية الشهيد لولو علي  
الأستاذ مريخي  
فرض الثلاثي الأخير  
السنة 2025-2024  
قسم 1 ج م ع ت  
المدة :

اللقب: الاسم: العلامة:

1-صنف المؤسسات الاتية حسب نوع الإنتاج:

ثانوية الشهيد لولو علي	مؤسسة خدمتية
المستشفى	مؤسسة خدمتية
المؤسسة الوطنية للسكك الحديدية	مؤسسة خدمتية
شركة فولقسفاقن للسيارات	مؤسسة انتاجية
شركة كوكاكولا للمشروبات	مؤسسة انتاجية
صيدلية	مؤسسة تجارية

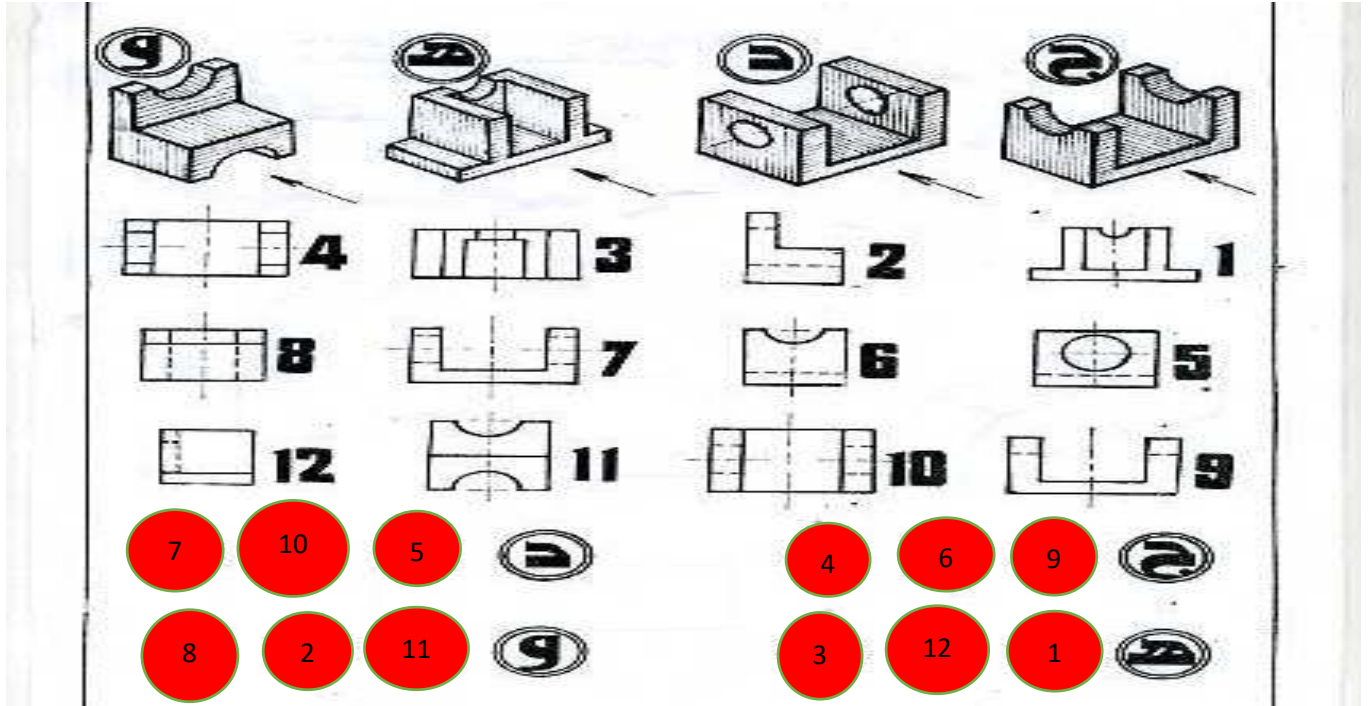
2-أكمل الجدول التالي:

المقياس	البعد الحقيقي	البعد المرسوم
1:4	100	25
7:3	30	70
1:1	33	33

3-أجب بصحيح أو خطأ:

- يمثل جدول التعيينات في الرسم التعريفي ..خ.....
- المقاس أكبر من المقاس ص.....
- 1:5 هو مقياس تكبيرى .خ.....
- يحتوي جدول التسجيل على اسم المصمم ص.....

اتجاه السهم يمثل المسقط الأمامي في الرسم المنظوري أوجد ورقم الثلاث  
مساقط لكل رسم



أكمل المساقط مستعينا بالرسم المنظوري المقابل

