




اختبار الفصل الأول في مادة الرياضيات السنة الاولى ابتدائي

الاسم: اللقب: القسم:



التمرين الأول :

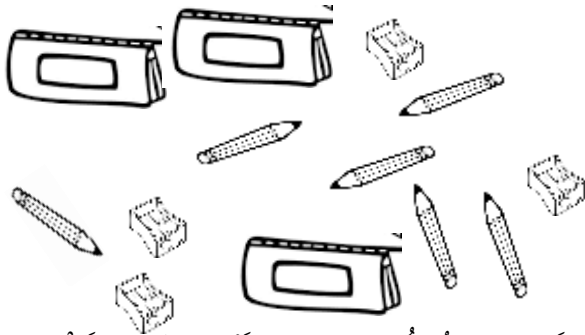
- ألَوْنُ الْبَالُونِ الَّذِي يَحْمِلُهُ الْوَلَدُ بِيَدِهِ الْيُمْنَى بِاللُّوْنِ الْأَخْضَرِ - ألَوْنُ الْبَالُونِ الَّذِي يَحْمِلُهُ الْوَلَدُ بِيَدِهِ الْيُسْرَى بِاللُّوْنِ الْأَحْمَرِ.

التمرين الثاني: أَعُدُّ وَأَكْمِلْ

عَدَدُ الْأَقْلَامِ هُوَ:

عَدَدُ الْمَقْلَمَاتِ هُوَ:

عَدَدُ الْمِبَارِ هُوَ:



التمرين الثالث: أَلَوِّنَا الشَّرِيطَ الْأَقْصَرَ بِالْأَصْفَرِ وَالْأَطْوَلَ بِالْأَخْضَرِ، ثُمَّ أَرْتِبْهَا مِنَ الْأَقْصَرِ إِلَى الْأَطْوَلِ.

☐



☐

☐

☐

التمرين الرابع: أكمل عمليّات الجمع التالية.

-أرسم مجموعة كرات عناصر مجموعة الحيوانات أكمل الكتابة الناقصة.




الوضعية الإدماجية :

يُحِبُّ بِلَالُ جَمْعَ الْكَرَيَاتِ الصَّغِيرَةِ حَيْثُ جَمَعَ:

	اليوم (2)	اليوم (1)

مَجْمُوعُ كُرَاتِ بِلَالِ هُوَ : كُرَيَاتٍ

التصحيح النموذجي



التمرين الأول :

- أَلَوْنُ الْبَالُونِ الَّذِي يَحْمِلُهُ الْوَلَدُ بِيَدِهِ الْيُمْنَى بِاللَّوْنِ الْأَخْضَرِ

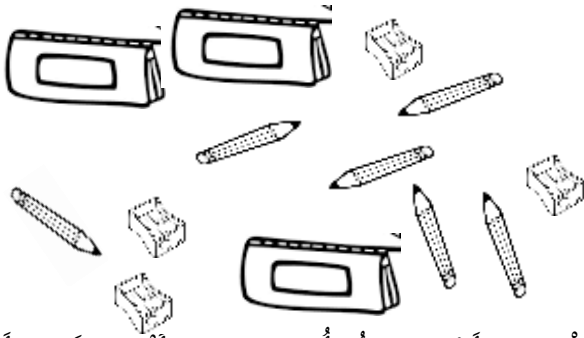
- أَلَوْنُ الْبَالُونِ الَّذِي يَحْمِلُهُ الْوَلَدُ بِيَدِهِ الْيُسْرَى بِاللَّوْنِ الْأَحْمَرِ.

التمرين الثاني: أَعُدُّ وَأَكْمِلُ

عَدَدُ الْأَقْلَامِ هُوَ: 6

عَدَدُ الْمَقْلَمَاتِ هُوَ: 3

عَدَدُ الْمَبَارِ هُوَ: 4



التمرين الثالث: أَلَوْنُ الشَّرِيْطَةِ الْأَقْصَرَ بِالْأَصْفَرِ وَالْأَطْوَلَ بِالْأَخْضَرِ، ثُمَّ أَرْتِبْهَا مِنْ الْأَقْصَرِ إِلَى الْأَطْوَلِ.

3

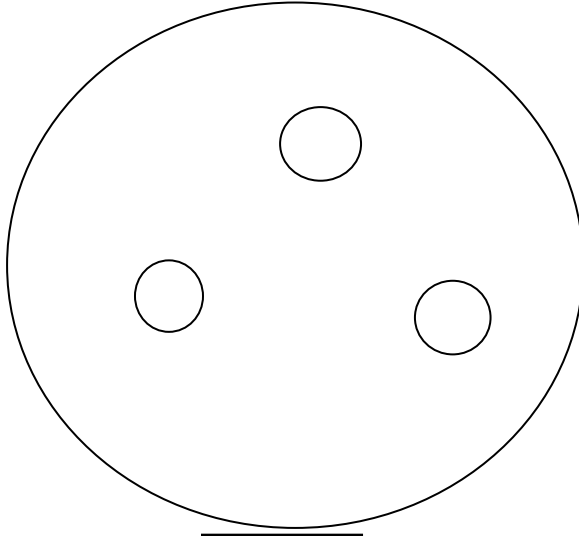
2

1


4

التمرين الرابع: أكمل عمليّات الجمع التالية.

- أرسم مجموعة كرات عناصر مجموعة الحيوانات وأكمل الكتابة الناقصة.



3



8

الوضعية الإدماجية :

اليوم الأول: 6

اليوم الثاني: 4

المجموع : 10

مجموع كرات بلال هو: 10 كرات .