

الدرسة الخاصة علوم و حياة



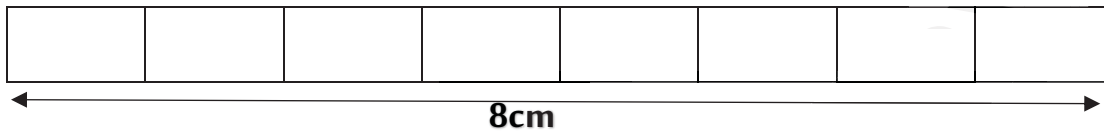
الاسم واللقب:

المستوى: الرابع ابتدائي

اختبار الفصل الثالث في مادة الرياضيات


التمرين الأول:

• لون $\frac{1}{2}$ الشريط الآتي:

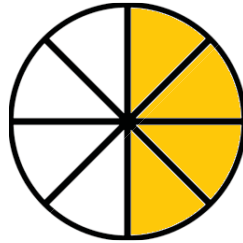


• ما هو طول الشريط الملون؟

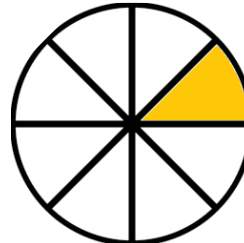
التمرين الثاني: عبّر بكسر عن الجزء الملون من كل قرص:



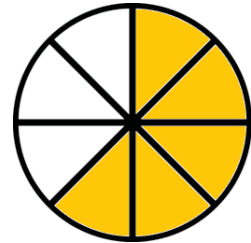
.....
.....



.....
.....



.....
.....



.....
.....

التمرين الثالث: أكمل ملء الفراغات:

$$1\text{min} = \dots\dots\dots\text{s} / 1\text{h} = \dots\dots\dots\text{min} / \frac{1}{2}\text{h} = \dots\dots\dots\text{min} / \frac{1}{4}\text{h} = \dots\dots\dots\text{min}$$

يوم واحد = $12\text{h} + \dots\dots\dots\text{h}$

التمرين الرابع: انطلقت سيارة من مدينة A على الساعة 8h12min فوصلت الى المدينة B على

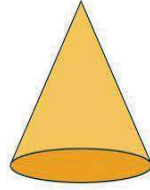
الساعة 10h22min، أحسب مدة السير؟

.....

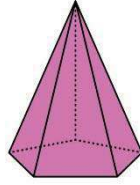




.....




.....



.....



.....



.....

الوضعية الإدماجية:

عمر جدي 80 سنة و عمر أبي يساوي $\frac{1}{2}$ عمر جدي، و عمري هو $\frac{1}{5}$ عمر جدي، أمّا عمر أمي هو $\frac{1}{4}$ عمر جدي زائد عمري.
جد كلاً من عمري، عمر أبي ثم عمر أمي.
-بالتوفيق أبنائي-

