

2024-2023

ثانوية مولود قاسم نايت بلقاسم – تاجنانت-

المدة : 1 ساعة

المستوى : جذع مشترك علوم و تكنولوجيا

A

فرض محروس في مادة التكنولوجيا فرع : الهندسة الميكانيكية

الاسم و اللقب

السؤال الأول :

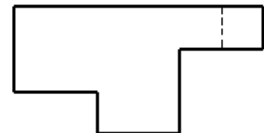
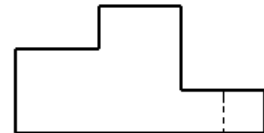
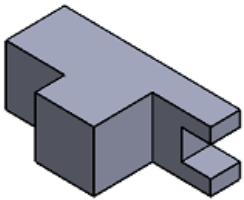
اجب بوضع علامة (x) في المكان المناسب :

- | | | |
|---|--------------------------|--------------------------|
| ● مراحل المسعى التكنولوجي هي : فرضية و تجربة و ملاحظة ثم استنتاج | <input type="checkbox"/> | <input type="checkbox"/> |
| ● نقوم بتمثيل المسقط الجانبي الأيمن على يمين المسقط الأمامي حسب الطريقة الأوروبية | <input type="checkbox"/> | <input type="checkbox"/> |
| ● تصنف المؤسسات حسب الحجم الى مؤسسات كبيرة و صغيرة و ذات أسهم | <input type="checkbox"/> | <input type="checkbox"/> |
| ● تتم دراسة و انجاز و مراقبة المنتج في المصلحة التقنية | <input type="checkbox"/> | <input type="checkbox"/> |
| ● الرسم التقني وسيلة اتصال عالمية بين ميع العاملين في مجال الصناعة و الانتاج | <input type="checkbox"/> | <input type="checkbox"/> |

السؤال الثاني : أتمم الجدول التالي

المقياس	نوع المقياس	البعد الحقيقي	البعد المرسوم
5 : 1		10	
		50	50
1:2		100	

السؤال الثالث : ضع الحرف المناسب في المكان المناسب لتحصل على توزيع المساقط الصحيح



vue de face



السؤال الرابع : اعتمادا على منظور القطع اتمم رسم المساقط

