

الموسم الدراسي :

الاسم :

مقاطعة

اللقب :

ابتدائية



الفوج : السنة الأولى

اختبار الفصل الثالث في مادة الرياضيات

التمرين الأول : انجز العمليّات الآتية عمودياً

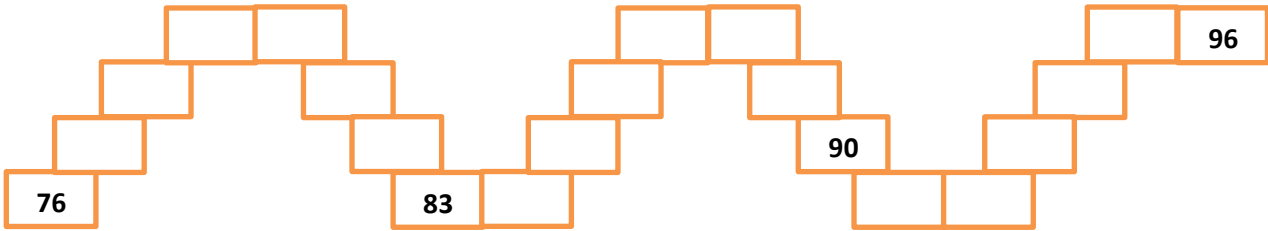
$$\begin{array}{r} 2 \ 6 \\ + 5 \ 3 \\ \hline = \end{array}$$

$$\begin{array}{r} 3 \ 1 \\ + \ 8 \\ \hline = \end{array}$$


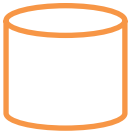
$$\begin{array}{r} 7 \ 8 \\ + 1 \ 1 \\ \hline = \end{array}$$

$$\begin{array}{r} 6 \ 5 \\ + 1 \ 2 \\ \hline = \end{array}$$

التمرين الثاني : أتمم متتالية الأعداد



التمرين الثالث : اربط بسهم



مُرَبَّعٌ

أُسْطُوَانَةٌ

دَائِرَةٌ

مُكَعَّبٌ

مُتَلَّثٌ

التمرين الرابع : قارن بين العددين بكتابة أَكْبَرُ مِنْ أو أَصْغَرُ مِنْ

25..... 78 — 86 81.....

الوضعية الإدماجية : عند أحمد 45 ديناراً زادته أمه 42 ديناراً. كم ديناراً صار معه ؟

الجواب

الحل

العمليات

صار مع أحمد ديناراً