


## تقويم الفصل الثاني في الرياضيات

قسم التمهيدي مدرسة الرضا

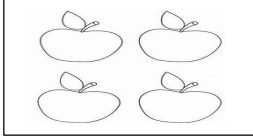

اسم التلميذ: .....

التمرين الأول: اربط كل صورة بالرقم المناسب.



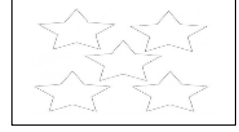
4

5

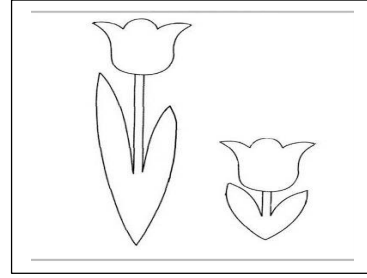
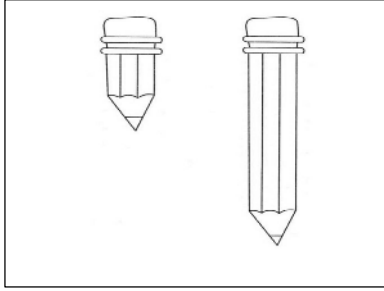


3

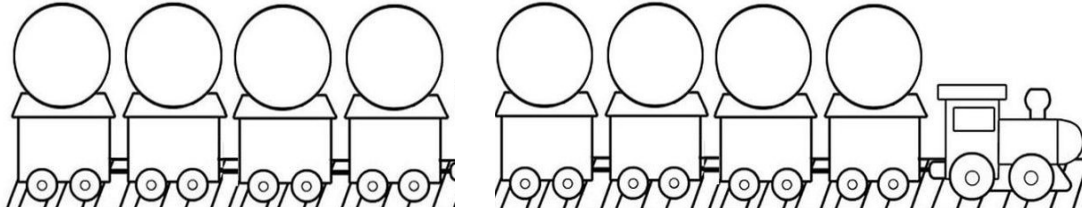
2



التمرين الثاني: اللون الأشياء الطويلة بالأخضر والقصيرة بالأحمر.



التمرين الثالث: رتب الأرقام التالية في قطار الأرقام. 3 - 5 - 7 - 1 - 6 - 4 - 2



التمرين الرابع: أعد كتابة الأرقام التالية

1	2	3	4	5	6