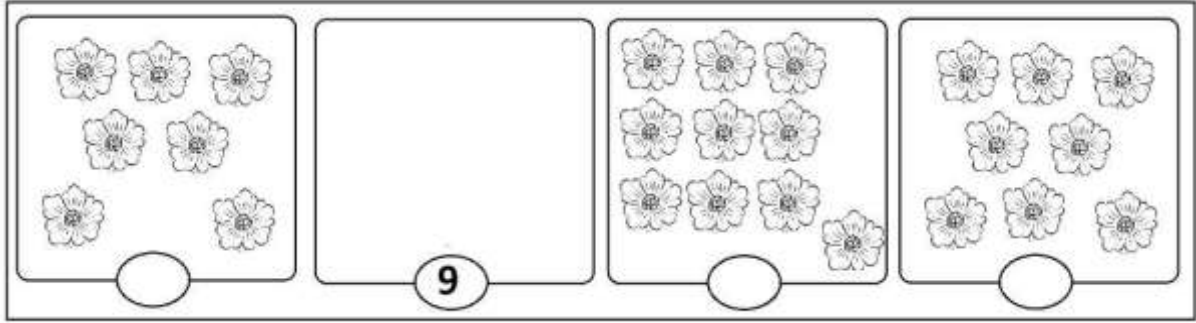


اختبار الفصل الاول في الرياضيات التعليم القراني للصغار مسجد ابي ذر الغفاري (عين النعجة).

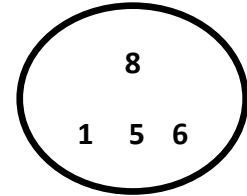
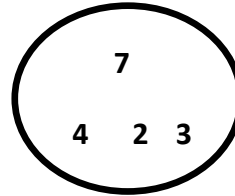
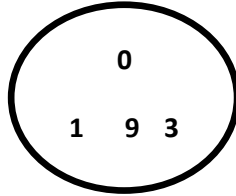
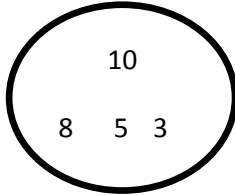
بتاريخ: 2024/12/ 12م الفوج الاول

الاسم واللقب:

1/: أحسب عدد الازهار وأضع العدد المناسب: 2/2.



2/: أحيط أكبر عدد باللون الأحمر وأصغر عدد باللون الاصفر: 2/2.



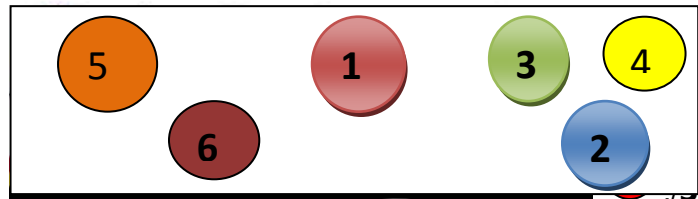
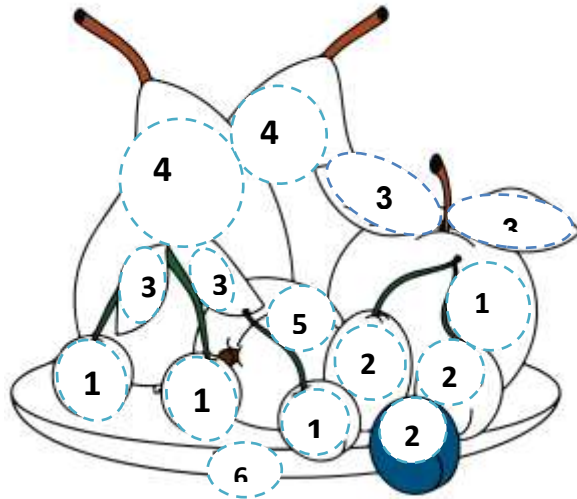
4/: أحسب: 3/3.

$$=4+5$$

$$=0+7$$

$$=2+8$$

3/: اللون وفق الدليل: 3/3



بالتوفيق: للمعلمة أم حذيفة