



المستوى : التحضيري (Préparatoire) فيفري: 2015



اختبار رقم 1 للفصل الثاني في نشاط الرياضيات

• إليك هذه الأعداد حاول أن ترتبها .

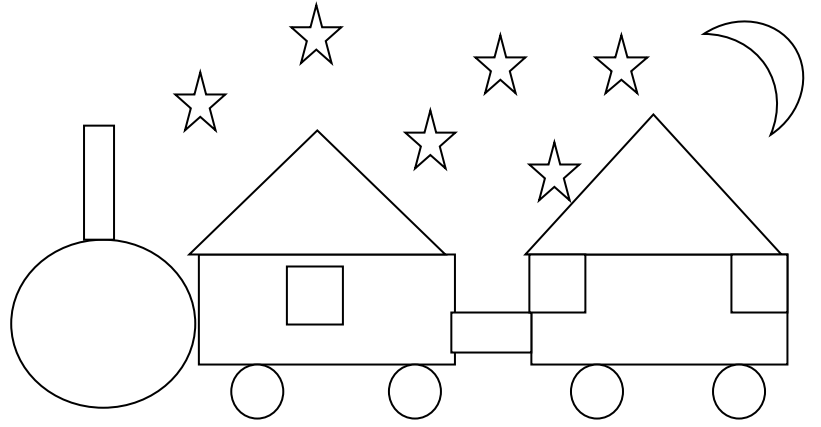
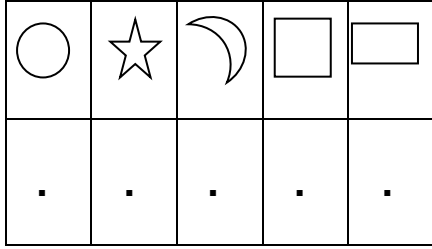
3 10 1 7 5 2 0 4 6 8 9

0
---	---	---	---	---	---	---	---	---	---	---


• أحيط المجموعة التي فيها أكثر .



• أحسب ثم أكتب عدد الأشكال في المكان المناسب.



• أرسم الأشكال حسب العدد المكتوب على البطاقة.



• اللون المرصوفة حسب النموذج الموجود على اليسار.

