




المستوى : التحضيري (Préparatoire)

فيفري : 2017

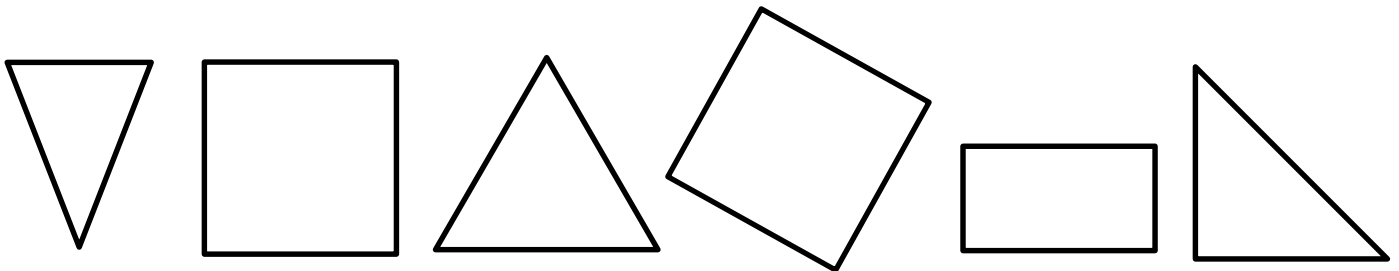
اختبار الفصل الثاني في مادة الرياضيات

.	مكتسب +
.	في طريق الإكتساب =
.	غير مكتسب -

1- ألون الحيوان الذي تصل اليه الدجاجة الأول متبعا المسار القصير




2- ألون المربعات باللون الأحمر والمثلثات باللون الأخضر




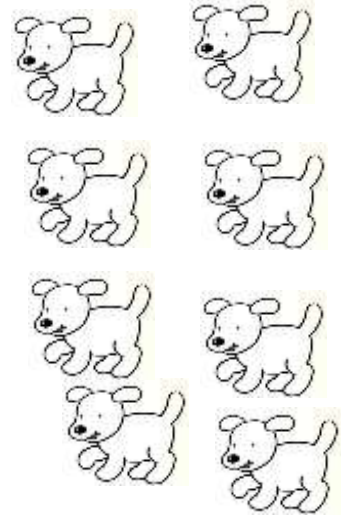
### 3- أكمل كتاب الأعداد على الشريط العددي

.	2	.	.	5	.	7	.	9	.
---	---	---	---	---	---	---	---	---	---


### 4- أعدّ و أكتب العدد المناسب في الخانة










### 5- أرسم قريصات داخل كلّ حيز.



6



4



5

حي قعلول - برج البحري - الجزائر

Web site : [www.ets-salim.com](http://www.ets-salim.com) /021.87.16.89 : الفاكس : Tel-Fax : 021.87.10.51 : ☎